



2022

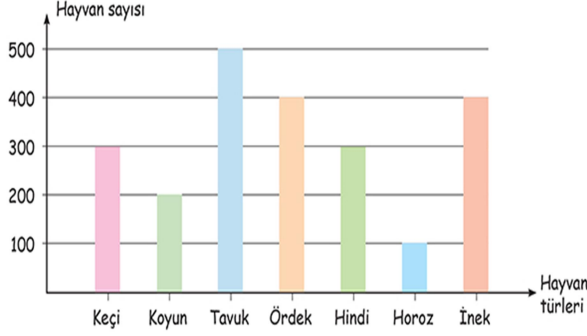
HAFIZ YETİŞTİRME VE AKADEMİK BAŞARIYI DESTEKLEME PROJESİ SEVİYE BELİRLEME SINAVI

Adı Soyadı :
Okulu :
T.C. Kimlik No :

| ALANLAR | SORU SAYISI | TOPLAM SORU SAYISI | SÜRE |
|----------------------------------------------------|-------------|--------------------|---------------|
| TÜRKÇE | 15 | 80 SORU | 100 DAKİKA |
| MATEMATİK | 15 | | |
| FEN BİLİMLERİ | 10 | | |
| SOSYAL BİLGİLER | 10 | | |
| DİN KÜL.AH.BİL. (SURE - DUA VE MEAL BİLGİSİ) | 30 | | |

1. Sınav süresince gözetmenlerin uyarılarına dikkat ediniz.
 2. Sınav süresince kitap, sözlük veya elektronik araçları yanınızda bulundurmuyunuz.
 3. Cevap kağıdınızdaki bilgilerin doğruluğunu kontrol ediniz.
 4. Kitapçık üzerindeki ad-soyad, sınıf-no, okul bilgileriniz kodlamayı unutmayınız.
 5. Cevap kağıdınız üzerinde bulunan kitapçık türünü doğru kodladığınızdan emin olunuz.
 6. Sınavın değerlendirilmesi optik okuma araçları ve elektronik ortamda yapılacağından ikili veya toplu kopya çekilmesi tespit edilmektedir. Bu gibi durumlarda sınavınız geçersiz sayılacaktır.
 7. Cevap kağıdı üzerinde kurşun kalemle işaretleme yapınız. Değiştirmek istediğiniz cevabınızı yumuşak silgi ile iz bırakmadan siliniz. Cevap kağıdınızı buruşturmayınız ve katlamayınız.
 8. Soru kitapçığınızı sınav başlamadan kontrol ediniz. Eksik sayfa varsa değiştirilmesini isteyiniz.
 9. Sınav bitiminde cevap kağıdınızı teslim etmeyi unutmayınız. Her sorunun bir doğru cevabı bulunmaktadır.
 10. Başlayınız denilmeden kitapçığınızı açmayınız.
 11. **Üç yanlış cevap bir doğru cevabı götürmektedir.**
 12. **ÖNEMLİ: TC Kimlik numaranızı cevap formu üzerindeki alana dikkatli kodlayınız.**
- © Her hakkı saklıdır. İzinsiz kopyalanamaz, alıntı yapılamaz, yayımlanamaz.

1. Bir çiftlikte bulunan hayvan türleri ve sayıları ile ilgili grafik aşağıda verilmiştir.



Bu grafiğe göre aşağıdakilerden hangisi doğrudur?

- A) Çiftlikte en az bulunan hayvan türü koyundur.
 B) Ördek ve hindilerin toplam sayısı tavuklardan çoktur.
 C) En çok bulunan hayvan türü sırasıyla tavuk, ördek ve hindidir.
 D) Keçiden elde edilen kazanç koyundan elde edilen kazançtan fazladır.

2. İç Anadolu Bölgesi'nde yer alan şehirlerimizden bazıları şunlardır(1) Ankara(2) Konya, Kayseri, Sivas. Bunlardan hangilerini ziyaret ettiğimi sorarsınız kesin bir şey söyleyemem(3) En son Ankara(4)ya gittiğimi hatırlıyorum.

Bu metinde numaralandırılmış yerlere gelmesi gereken noktalama işaretleri aşağıdakilerden hangisinde verilmiştir?

| | (1) | (2) | (3) | (4) |
|----|-----|-----|-----|-----|
| A) | ' | : | ? | . |
| B) | : | , | ? | ! |
| C) | ' | , | . | ? |
| D) | : | , | . | ' |

3. Yazılar giriş bölümüyle başlar. Gelişme ve sonuç bölümlerinde anlatılacak olan olayların kahramanları, yer ve zaman bilgisi giriş bölümünde anlatılmalıdır.

Buna göre aşağıdakilerden hangisi bir yazının giriş bölümü olamaz?

- A) Güzel bir ilkbahar günü tüm köylüler köyün meydanında toplanmıştı.
 B) İnsanlar birlikte yaşamayı öğrendiklerinde daha mutlu olurlar.
 C) Bundan sonra daha dikkatli olmaya karar vermişlerdi.
 D) Ceren, yeni taşındıkları mahallede ilk defa sokağa çıkıyordu.

4. **Örnek 1:** Yüz lira ile bir gün geçirmek zorunda olduğunu biliyordu.

Örnek 2: İnsanın ahlakı yüzüne yansır demişler.

Verilen örneklerde altı çizili kelimeler arasındaki anlam ilişkisi aşağıdakilerden hangisidir?

- A) Mecaz anlam
 B) Eş sesli
 C) Eş anlam
 D) Karşıt anlam

5. TEKNOFEST İstanbul'a "İnsanlık Yararına Teknoloji Yarışması" kategorisinde katılan küçük mucitler, hazırladıkları projelerle insan hayatına dokunacak icatlar geliştirdi.

Verilen metinde mecaz anlamı olarak kullanılan ifade aşağıdakilerden hangisidir?

- A) insan hayatına dokunacak
 B) hazırladıkları projelerle
 C) Teknoloji Yarışması
 D) TEKNOFEST İstanbul

6. Çocuklar çiçek gibidir. Nasıl ki çiçeklerin bakımlarını güzel yaparsanız size en güzel renklerini sunarlar, çocuklar da böyledir.

Verilen metin için aşağıdaki ifadelerden hangisi doğrudur?

- A) Benzetme yapılmıştır.
B) Karşılaştırmaya yer verilmiştir.
C) Bir kavram tanımlanmıştır.
D) Gizleme vardır.

7. Akıl, akıldan üstündür demişler. Bir konuda uzman olan insanlar bile kimi zaman başkalarının fikirlerine ihtiyaç duyarlar. Örneğin hastasını muayene eden bir profesör bile teşhis hakkında başka bir meslektaşının görüşünü almaya ihtiyaç duyabilir.

Bu metinde anlatılanlar aşağıdaki atasözlerinden hangisi ile ilişkilendirilebilir?

- A) Baca eğri de olsa duman doğru çıkar.
B) İyi dost kara günde belli olur.
C) Bin bilsen de bir bilene danış.
D) Ağaç yaprağıyla gürler.

8. Bir sözcüğün bilim, sanat, spor ya da meslek alanına özgü kavramları karşılığında kazandığı anlama **terim anlam** adı verilir.

Buna göre aşağıdakilerden hangisinde terim anlamı bir ifade kullanılmamıştır?

- A) Sahne, perde ve kostüm bunlar bir oyunun olmazsa olmazlarıdır.
B) Üslû sayılar konusunu anlamadığını söyleyip tekrar anlatılmasını rica etti.
C) Notaları bilmeden müzik çalınsa da pek bir şeye benzemez.
D) Epey zamandır kendimi hiç bu kadar sağlıklı hissetmemiştim.

9. Eskiden mum ışığı ile aydınlanırdı herkes. Akşam olup hava karardığında evdeki mum yanar, onun titreyen ışığında otururdu tüm ev halkı. Şimdiki gibi herkesin elinde bir cep telefonu yoktu. Herkes birbirinin yüzüne bakar, hep birlikte sohbet edilirdi. Teknoloji olarak daha az gelişmişti insanlar ancak toplum olarak daha samimi ilişkilere sahiptiler.

Bu metinde teknolojik araçlarla ilgili aşağıdaki sorulardan hangisinin cevabı bulunmaktadır?

- A) Ortaya çıkışları ne zaman olmuştur?
B) Aile ilişkilerine nasıl etki etmiştir?
C) Evde hangi çeşitleri kullanılmaktadır?
D) Aydınlatma araçlarıyla arasında ne tür bir ilişki vardır?

10.



Bu görseller kullanılarak hazırlanan bir metnin ana fikri aşağıdakilerden hangisi olabilir?

- A) Vergi vermek vatan borcudur.
B) Aile toplumun temelidir.
C) İsraftan uzak durulmalıdır.
D) Küresel ısınmaya karşı önlem alınmalıdır.

- 11.** Bazı pekiştirmelerde "m, p, r, s" ünsüzlerinden sonra "a, e" harflerinden biri getirilerek pekiştirme oluşturulur. Örnek: Masa çok eski gibi görünmesine rağmen aslında **sapasağlamdı**.

Aşağıdakilerden hangisinde bu kurala ait örnek bulunmaktadır?

- A) Getirdiği yiyecekleri güpegündüz ortaklık yerde yemeye başladı.
B) Upuzun bir ip vardı elinde.
C) Çamaşırlar yıkandıktan sonra tertemiz olmuştu.
D) Şu ağacın yanından dümdüz ilerleyip köşedeki evi geçince varmış olacaksınız.

- 12.** Rezene çayı, özellikle gaz giderici etkisinden dolayı son yıllarda daha sık tüketilir oldu. Bu çay, Akdeniz bölgesi bitkilerinden biri olan rezeneden yapılmaktadır. Rezene, Maydanozgiller familyasına ait şifalı bir bitkidir. Koyu renkli ve kendine has kokusuyla yemeklere de tat veren bir bitki olan rezene, genelde demlenerek tüketilir. Sodyum, potasyum, fosfor ve kalsiyum gibi değerli mineraller barındıran bitki, A ve C vitaminleri açısından da zengindir.

Verilen metinde rezene ile ilgili aşağıdaki bilgilerden hangisi verilmemiştir?

- A) Kullanım alanları
B) İçeriğini oluşturan maddeler
C) Kullanım şekli
D) Yapıldığı yemekler

- 13.** Bir kimsenin yaptığı bir davranış veya söylediği bir sözle kendi suçunu ortaya çıkarmasıdır.

Verilen açıklamanın ait olduğu deyim aşağıdakilerden hangisinde kullanılmıştır?

- A) Hırsız kısa zaman sonra kendini ele vermişti.
B) O kadar aksi bir adamdı ki herkes yaka silkmişti.
C) Adam cimriliğinden kimseye günahını bile vermezdi.
D) Kaç gündür bir şey yememiş, iğne ipliğe dönmüş.

- 14.** 1. Sayılar metin içerisinde genellikle harflerle yazılır.

2. Saatler ve dakikalar metin içinde rakamla da yazıyla da yazılabilir.

3. Birden fazla kelimedenden oluşan sayılar ayrı yazılır.

Sayıların yazımı ile ilgili yukarıda bazı kurallar anlatılmaktadır.

Aşağıdakilerden hangisi bu kurallardan birine örnek olamaz?

- A) Neredeyse yüz yıldan uzun zamandır bu ev burada duruyor.
B) Otobüs tam olarak 16.45'te ayrıldı.
C) Bir yıl üç yüz altmış beş gündür.
D) Elindeki kitabın I. cildini yerine koydu.

- 15.** Bağlaç olan "de" cümleye abartma, eşitlik, küçümseme gibi anlamlar katar.

Aşağıdaki cümlelerin hangisinde "de" bağlacı cümleye küçümseme anlamı katmıştır?

- A) Geçen gün o da arkadaşı da vardı burada.
B) Bu maçı kazanacaksın da ben göreceğim.
C) Gidiyordu ama hiç de mutlu değildi.
D) Otobüsle de gidilebiliyor oraya.

Türkçe testi sona ermiştir. Lütfen Diğer Teste Geçiniz.

Cevap Formunuzda Cevaplarınızı Bir Sonraki Bölüme Kodlayınız.

1.



A marka buzdolabı fiyatı:
1600 TL peşin
1250 TL 12 taksit

B marka buzdolabı fiyatı:
1750 TL peşin
1400 TL 12 taksit

Yukarıda iki farklı markaya ait buzdolabı satış fiyatları yer almaktadır.

A ve B marka buzdolapları arasındaki fiyat farkı aşağıdakilerden hangisinde verilmiştir?

- A) 1500 TL
- B) 1650 TL
- C) 1750 TL
- D) 1950 TL

2. Aşağıdaki tabloda bir müzeye üç ay içinde gelen ziyaretçi sayıları verilmiştir.

| Ay | Ziyaretçi sayısı |
|--------|----------------------------------|
| Ekim | Kırk üç bin on altı |
| Kasım | Elli beş bin iki yüz yirmi dokuz |
| Aralık | Otuz sekiz bin altı yüz elli bir |

Buna göre Ekim-Kasım-Aralık aylarındaki toplam ziyaretçi sayısı aşağıdakilerden hangisidir?

- A) Yüz yirmi üç bin sekiz yüz altmış altı
- B) Yüz otuz altı bin sekiz yüz doksan altı
- C) Yüz on iki bin iki yüz otuz altı
- D) Yüz bin altı yüz seksen altı

3. Bir otobüs A şehrinden B şehrine doğru yola çıkmıştır. Otobüs yol üzerinde 3 farklı noktada mola vermiştir. 3. Mola yerine vardığında varış noktası olan B şehriyle arasında 129 km.lik son bir yol kalmıştır. Şehirler ile mola yerleri arasındaki mesafe aşağıdaki tabloda verilmiştir:

| Yol | Mesafe (km) |
|-----------------------------------|-------------|
| A şehri – 1. Mola yeri arası | 108 |
| 1. Mola yeri – 2. Mola yeri arası | 114 |
| 2. Mola yeri – 3. Mola yeri arası | 126 |

Buna göre A ve B şehirleri arası kaç kilometredir?

- A) $(3 \times 100) + (3 \times 10) + (8 \times 1)$
- B) $(4 \times 100) + (6 \times 10) + (2 \times 1)$
- C) $(4 \times 100) + (7 \times 10) + (7 \times 1)$
- D) $(4 \times 100) + (8 \times 10) + (8 \times 1)$

4.

| Gün | Adım sayısı |
|-----------|-------------|
| Pazartesi | 6755 |
| Salı | 6543 |
| Çarşamba | 6653 |
| Perşembe | 6849 |
| Cuma | 6854 |

Bir kimsenin hafta içi attığı adım sayısına ilişkin tablo yukarıda verilmiştir.

Bu tablodaki sayılar en yakın yüzlüğe yuvarlandığında hangi iki gündeki sayılar birbirinin aynısı olur?

- A) Çarşamba - perşembe
- B) Pazartesi - cuma
- C) Salı - çarşamba
- D) Pazartesi - perşembe

5. Bir çıkarma işleminde eksilen 1776 azaltılmış çıkan da 544 azaltılmıştır.

Buna göre işlemin ilk sonucu ile yukarıda anlatılanlar yapıldıktan sonraki sonuç arasında nasıl değişim olmuştur?

- A) 1232 azalır.
B) 1232 artar.
C) 2320 artar.
D) 2320 azalır.

6. Bir yüzücü 50 metrelik bir havuzda toplam 4 tur atmıştır. Bu turların zamanları ile ilgili çizelge aşağıda şöyle verilmiştir:

1. tur: 7 dakika 6 saniye
2. tur: Önceki turdan 12 saniye daha hızlı
3. tur: Önceki turdan 8 saniye daha yavaş
4. tur: Önceki turdan 7 saniye daha yavaş

Buna göre bu yüzücünün toplam süresi aşağıdakilerden hangisidir?

- A) 28 dakika 2 saniye
B) 28 dakika 11 saniye
C) 28 dakika 17 saniye
D) 28 dakika 23 saniye

7. 3126 sayısı ile bu sayıdan farklı dört basamaklı bir sayı, ikisi de en yakın yüzlüğe yuvarlanarak toplanıyor. Yapılan toplama işleminde sonuç 5600 olarak bulunuyor.

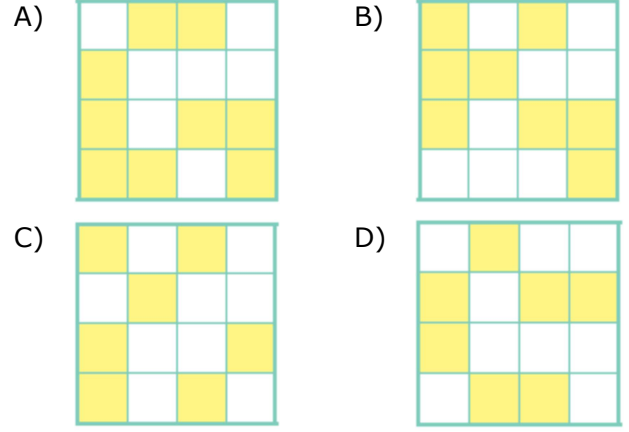
Buna göre toplama işlemindeki diğer sayı aşağıdakilerden hangisi olabilir?

- A) 2366
B) 2413
C) 2451
D) 2554

8.

$$\frac{3}{16} + \frac{11}{16} - \frac{5}{16} = ?$$

Yukarıda verilen işlemin tablo olarak boyanmış hali aşağıdakilerden hangisidir?



9. 1, 0, 9 ve 5 rakamlarının her biri yalnızca birer kere kullanılarak dört basamaklı en büyük ve en küçük sayılar yazılacaktır.

Yazılacak bu iki sayının toplamı aşağıdakilerden hangisidir?

- A) 10560
B) 10569
C) 10605
D) 11100

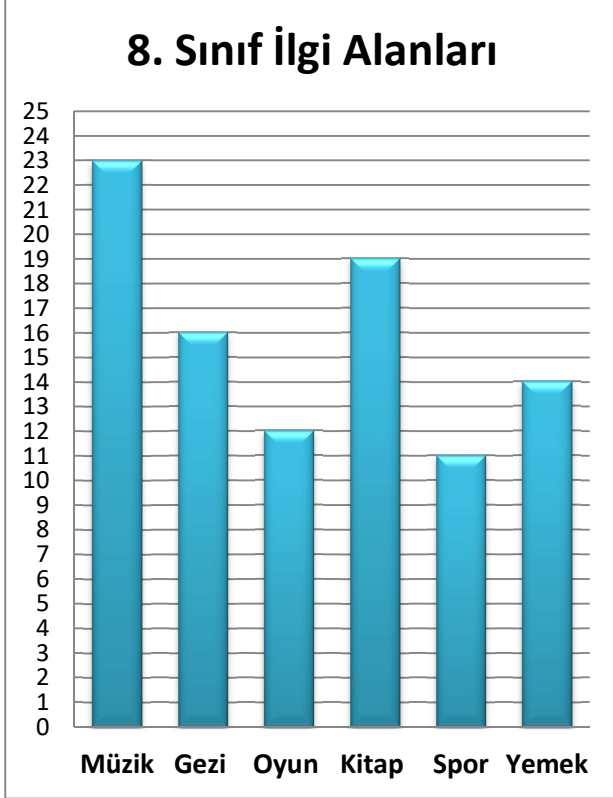
10. Aşağıda verilen kutuların içindeki sayılar azalan bir sayı örüntüsü oluşturmaktadır.



Buna göre X ve Y sayılarının toplamı aşağıdakilerden hangisidir?

- A) 1001
B) 1011
C) 1101
D) 1111

11. Aşağıdaki grafikte bir okuldaki 8. Sınıf öğrencilerinin ilgi alanlarına göre dağılımı verilmiştir.



Grafiğe göre aşağıda yapılan yorumlardan hangisi yanlıştır?

- A) En az sayıda öğrencinin ilgi gösterdiği alanlar spor ve oyundur.
- B) Çoktan aza doğru sıralandığında Gezi alanı 3. sırada ilgi çekmektedir.
- C) En az ve en çok ilgi çeken alanlar arasında 12 öğrencilik fark vardır.
- D) Müziğe ilgi duyan öğrenci sayısı spor ve yemeğe ilgi duyanların toplamından çoktur.
12. Bir poşette farklı renklerden toplam 96 adet balon bulunmaktadır. Bu balonların $\frac{5}{24}$ 'ü sarı, $\frac{7}{24}$ 'ü mavi, $\frac{11}{24}$ 'ü kırmızı ve geri kalanı beyaz renktedir.

Buna göre poşette bulunan beyaz renkli balon sayısı kaçtır?

- A) 1
B) 4
C) 12
D) 16

13. Satış için hazırlanan her bir kutuya kalem-lerden 96, silgilerden 48, kalem-tıraşlardan 76 ve kalemliklerden 12 adet sığmaktadır. Kutular tamamen doldurularak paketlenmektedir. Bir kırtasiyeci tüm bu ürünlerden toplamda 1456 adet satın almıştır. Aldığı ürünler içinde 8 kutu kalem, 5 kutu silgi ve 12 kutu kalemlik bulunmaktadır.

Buna göre kırtasiyecinin aldığı kalem-tıraş sayısı kaçtır?

- A) 304
B) 316
C) 324
D) 330

14. Bir pastanede 40'ar cm uzunluğunda üç adet dikdörtgen yaş pasta imal edilmiştir. Bu pastalar sırasıyla şöyle dilimlenmiştir:

1. pasta 4 santimetre uzunluğunda eşit dilimlere,
2. pasta 8 santimetre uzunluğunda eşit dilimlere,
3. pasta ise 5 santimetre uzunluğunda eşit dilimlere bölünmüştür.

Bu işlemin sonunda toplam kaç dilim pasta elde edilmiştir?

- A) 21
B) 23
C) 25
D) 27

15. 42014, 24167, 86723, 93285 ve X sayıları büyükten küçüğe doğru sıralanacaktır. X sayısı bu sıralamada **en büyük** 2. sayıdır.


Buna göre X sayısı aşağıdakilerden hangisi olabilir?

- A) 24673
B) 86654
C) 86880
D) 94123

Matematik testi sona ermiştir. Lütfen Diğer Teste Geçiniz.

Cevap Formunuzda Cevaplarınızı Bir Sonraki Bölüme Kodlayınız.

1.

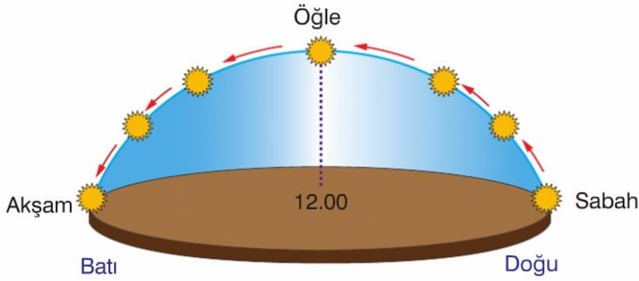


Termik santraller ülkemizin enerji ihtiyacının yaklaşık yüzde yetmişini karşılar. Temelde buhar gücüyle elektrik üretmek için yapılırlar. Ancak suyun ısıtılması için genelde fosil yakıt diye isimlendirilen maddeler kullanılır. Bu yakıtlardan özellikle ülkemizde çokça bulunan bir türünün yakılması yoğun hava kirliliğine neden olmaktadır.

Metinde termik santraller hakkında aşağıdaki hangi bilgi verilmiştir?

- A) Güneş enerjisi ile çalıştıkları
- B) Nükleer güçle üretim yaptıkları
- C) Yenilenebilir enerji ürettikleri
- D) Yakıt olarak kömür kullandıkları

2.



Bir noktada sabit duran bir kimse gökyüzünde güneşin farklı bir yerde doğup gün içinde farklı noktalara geldiğini görür. Yine günün sonunda da farklı bir noktadan battığına şahit olur.

Bu durumun nedeni aşağıdakilerden hangisidir?

- A) Güneş'in Dünya çevresindeki dolanımı
- B) Dünya'nın kendi etrafındaki dönüşü
- C) Dünya'nın kendi etrafındaki dönüş hızının azalıp artması
- D) Dünya'nın Güneş çevresindeki dolanım süresi

3.



Alaska'nın Katmai Ulusal Parkı'ndaki Brooks Nehri'nde boz ayılar her yıl kış başlamadan önce somon avına çıkarlar. Kış boyunca uyuyacak olan ayıların enerji ihtiyaçlarını bu dönemde avladıkları somon balıklarından aldıkları bilinmektedir.

Buna göre ayıların kışın ihtiyaç duydukları enerji aşağıdakilerden hangisinden sağlanmaktadır?

- A) Yağ
- B) Mineral
- C) Karbonhidrat
- D) Vitamin

4. Aşağıda besin piramidi adı verilen tablo yer almaktadır. Sağlıklı beslenme için en çok tüketilmesi gereken besin türleri piramidin en altında yer almaktadır. Besin türlerinin en alttan yukarıya doğru gidildikçe daha az tüketilmesi tavsiye edilir.



Piramitte yer alan besin çeşitleri dikkate alındığında aşağıdakilerden hangisi yanlıştır?

- A) En alta karbonhidrat açısından zengin besinler yer almaktadır.
- B) En az tüketilmesi gereken besinler arasında yağlar da bulunmaktadır.
- C) Protein açısından zengin besinler en az tüketilmesi gereken besinlerdendir.
- D) Vitamin açısından zengin besinler 2. sırada tüketilmelidir.

5.



Görseldeki gibi sıkılmış bir sünger parçası sıkma işlemi sonlandırıldığında eski halini almaktadır.

Bu işlem kuvvetin aşağıdaki hangi özelliğine örnek gösterilebilir?

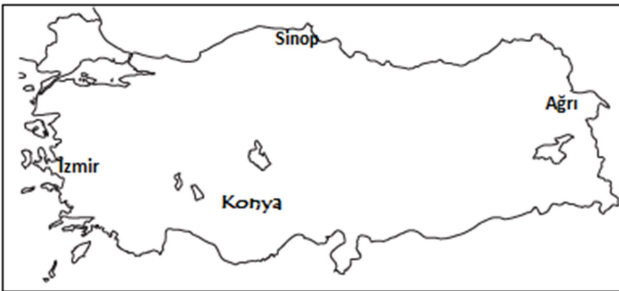
- A) Hızlandırıcı
- B) Yavaşlatıcı
- C) Şekil değiştirici
- D) Yön değiştirici

6. Paleontoloji: Diğer isimlerinden biri de "Taşılabilim"dir. Ölmüş varlıkların taşlaşmış kalıntılarından ya da izlerinden hareketle canlıların en ilkelinden günümüzdeki en gelişmiş olanlarına değin geçirdikleri gelişmeleri inceler. Onların yaşam ortamları, ortaya çıkışları ve yok oluşlarını araştıran bilim dalıdır.

Altı çizili bölüme göre Paleontoloji'nin araştırma alanı öncelikle aşağıdakilerden hangisidir?

- A) Fosiller
- B) Mineraller
- C) Magma
- D) Hammaddeler

7.



Dünya'nın kendi etrafındaki dönüş yönü dikkate alındığında yukarıdaki haritada verilen illerden hangisinde Güneş daha erken batır?

- A) İzmir
- B) Ağrı
- C) Sinop
- D) Konya

8. Dünya Sağlık Örgütü tarafından sağlığı bozacak ölçüde vücutta yağ birikmesi durumuna obezite adı verilmiştir. Besinlerden alınan günlük enerji o gün içinde harcanan enerjiden çoksa bu durumda vücutta yağ olarak birikir. Abur cuburdan kaçınıp sebze ve meyve ağırlıklı beslenmeliyiz.

Buna göre obeziteye karşı alınması gereken tedbirlerle ilgili aşağıdakilerden hangisi söylenemez?

- A) Aşırı yağlı besinler yememeliyiz.
- B) Hareketsiz yaşamdan kaçınmalıyız.
- C) Vitamin içeren besinler yemeliyiz.
- D) Enerji ihtiyacımızı şekerden almaliyiz.

9. Sınıfta oyuna benzer bir deney yapılıyordu. Bir karton parçasının üzerine konulan farklı nitelikteki nesnelere kartonun altından tutulan mıknatısla hareket ettirilmeye çalışılıyordu.

Buna göre aşağıdakilerden hangisi mıknatıs yaklaştırıldığında hareket eder?

- A) Altın yüzük
- B) Tahta kaşık
- C) Cam bardak
- D) Toplu iğne

10. Bazı elektrikli ev aletlerinde kireçsiz suyun kullanılması o aletin ömrünü uzatacaktır. Örneğin ütülerde kullanılan suyun içindeki kireç ütüye zarar verir. Bu nedenle suyun kireçten arındırılarak ütüye konması gerekir. Bunun için su kaynatılır. Buharı tekrar yoğunlaştırılır ve saf su elde edilebilir. Suyun kaynatıldığı kabın dibinde de belli miktarda kireç tortusu kalacaktır.

Bu yöntemde suyun kaynatılarak kireçten arındırılması aşağıdakilerden hangisiyle ifade edilir?

- A) Eleme
- B) Süzme
- C) Buharlaştırma
- D) Miknatıslama

Fen Bilimleri testi sona ermiştir. Lütfen Diğer Teste Geçiniz.

Cevap Formunuzda Cevaplarınızı Bir Sonraki Bölüme Kodlayınız.

1.



Sadece yukarıdaki görsele bakılarak resimdeki çocuklarla ilgili aşağıdakilerden hangisi hakkında bilgi edinilebilir?

- A) İhtiyaçları
- B) Fiziksel özellikleri
- C) Yetenekleri
- D) İstekleri

2. Doğru hazırlanmış bir özgeçmiş kişinin yaşamındaki önemli zaman dilimlerini ve olaylarını anlatmalıdır.

Buna göre aşağıdakilerden hangisi özgeçmiş içinde yer almamalıdır?

- A) 25.11.2005 günü doğdum.
- B) 2019 yılında trafik kazasında yaralandım.
- C) 2017 yılında Paşabağlar İHO'dan mezun oldum.
- D) 2021'de ailemle tatile çıktım.

3. Mondros Ateşkes Antlaşması ile İtilaf Devletleri ülkemizin pek çok noktasını işgale başladılar. Bu ülkelerden biri özellikle Akdeniz sahillerimizdeki Muğla, Fethiye ve Antalya ile Konya'yı işgal etmiştir.

Parçada anlatılan İtilaf Devleti aşağıdakilerden hangisidir?

- A) Rusya
- B) Yunanistan
- C) İtalya
- D) Fransa

4.



Adım Mert! Gitar çalmayı öğrenmek istiyorum. Bunun için ailem bana başlangıç seviyesinde bir gitar aldı. Ayrıca bir gitar kursuna yazıldım. Severek gittiğim bu kursta kısa sürede gitar çalmayı ve notaları öğrendim. Hatta geçen hafta ilk defa tam bir parça çalmayı başardım. Spora da ilgim var ama gitar çalmaya daha çok zaman ayırıyorum. Zaten futbolda iyi olduğumu pek düşünmüyorum.

Mert'in sözlerinden onun hakkında aşağıdakilerden hangisine ulaşamaz?

- A) Pek çok müzik aletini öğrenme konusunda isteklidir.
- B) Gitar çalma konusunda yeteneklidir.
- C) Ailesinin kendisine destek olduğunu bilmektedir.
- D) Spora ilgisi olduğunun farkındadır.

5. Eskiden mahallelerde yüz yüze oynanan oyunlardan şimdilerde kapalı ortamlardan çıkmadan ve teknolojik araçlarla oynanan oyunlara geçtik. Geleneksel oyunlar neredeyse kaybolacak. Artık şehirlerde oyun oynayacak boş alan ve bahçeli evler de azaldı. Çocuklar iletişim kurmayı öğrenemiyor, sosyalleşmeyi yalnızca iletişim araçlarıyla yapacaklarını zannediyor. Gerçek hayattan uzaklaşan çocuklar artık daha bireysel yaşıyor ve paylaşmayı bilmiyor.

Metinde öncelikle dikkat çekilen konu aşağıdakilerden hangisidir?

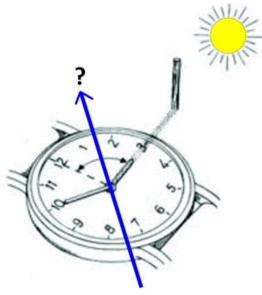
- A) Oyunların kapalı ortamlarda oynanması gerektiği
- B) Geleneksel oyunların kuralları olduğu
- C) Teknolojinin sosyal hayatı olumsuz etkilediği
- D) Çocukların artık oyun oynamadığı

6. Maraş'ta 31 Ekim 1919 günü evlerine gitmekte olan Türk kadınlarına saldırılmıştı. Kadınları korumak isteyen Çakmakçı Sait de düşman askerleri tarafından şehit edildi. Bunun üzerine Maraşlılar Sütçü İmam liderliğinde direniş başlattılar.

Bu direniş aşağıdakilerden hangisinin askerlerine karşı gerçekleştirilmiştir?

- A) Rus – Ermeni
B) Fransız – Ermeni
C) İngiliz – Rum
D) İngiliz – Rus

7.



Enes ve ailesi Mersin'e deniz kıyısına tatile gittiler. Namaz vakti geldiğinde babasının akrep yelkovanlı saati ile yönü bulabileceğini söyledi. Saatin akrebini güneşe doğru tuttu. Akrep ile saatin 12 noktası arasındaki açıyı da tam ortaladı

ve bunun yönünü gösterdiğini söyledi.

Boş bırakılan yere aşağıdakilerden hangisi getirilmelidir?

- A) Güney
B) Kuzey
C) Doğu
D) Batı

8. Doğal unsurlar, doğada kendiliğinden bulunur. Bunların oluşumunda insanların herhangi bir etkisi yoktur. Beşeri unsurlar ise insan aklının ve emeğinin ürünleridir.

Buna göre aşağıdakilerden hangisi diğerlerinden farklıdır?

- A) Yavuz Sultan Selim Köprüsü
B) İstanbul Boğazı
C) Tuz Gölü
D) Konya Ovası

9.



Atmosferde meydana gelen hava olaylarının oluşumu ve değişimini inceleyen devlet kurumudur. Örneğin görseldeki bilgiler bu kurumun uzmanları tarafından elde edilen verilere göre oluşturulmaktadır.

Bu kurum aşağıdakilerden hangisidir?

- A) MTA Genel Müdürlüğü
B) Meteoroloji Genel Müdürlüğü
C) Medaş Genel Müdürlüğü
D) Haberleşme Genel Müdürlüğü

10.



Eskiden evlerde tel dolap adı verilen ve içinde çeşitli mutfak malzemesi ve kuru yiyeceklerin bulunduğu dolaplar vardı. Ancak günümüzde buzdolapları pek çok yiyecek maddesini uzun süre koruyabilmektedir.

Bu metinde hangi alandaki teknolojik gelişimden bahsedilmektedir?

- A) Sağlık
B) Haberleşme
C) Ulaşım
D) Beslenme

Sosyal Bilgiler testi sona ermiştir. Lütfen Diğer Teste Geçiniz.

Cevap Formunuzda Cevaplarınızı Bir Sonraki Bölüme Kodlayınız.

1. İslam'a girmek isteyen bir kimseden ilk önce özel bir sözü söylemesi ve o sözün anlamına inanması istenir. Bu sözün anlamı şöyledir: "Ben kabul ederim ki Allah'tan başka ilâh yoktur. Yine kabul ederim ki Hz. Muhammed(s.a.v.) Allah'ın kulu ve resulüdür."

Buna göre İslam'a girmek isteyen bir kimse öncelikle aşağıdakilerden hangisini söylemelidir?

- A) Tekbir
B) Hamdele
C) Salavat
D) Kelime-i şehadet

2. Bir adam yanındaki arkadaşına şöyle diyordu: "Harama asla el uzatmam. Çünkü bunun hesabını verememekten korkarım. Öte dünyada Allah bana bu malı nereden kazandı diye sorarsa ne cevap veririm?"

Buna göre bu kimsenin kötü davranıştan uzak durma nedeni aşağıdaki iman esaslarından hangisi ile ilişkilidir?

- A) Kadere iman
B) Peygamberlere iman
C) Meleklerle iman
D) Ahirete iman

3. Allah'a emanet ol!

Allah razı olsun!

Allah'a ısmarladık.

Aşağıdakilerden hangisi bu ifadelerin söylendiği yerlerden değildir?

- A) Birini yolcu ederken
B) Kendimiz bir yere gidecek olup kalanlarla vedalaşırken
C) Birisinin bir yakını vefat ettiğinde başsağlığı dilerken
D) Bir kimseden gördüğümüz iyiliğe karşılık teşekkür ederken

4. Hz. Muhammed'in (s.a.v.) isminin geçtiği yerlerde "s.a.v." kısaltmasının yazıldığını görebilirsiniz. Bu kısaltma "Sallallâhu aleyhi ve sellem" ifadesinin kısaltmasıdır. Dua, bereket ve selam onun üzerine olsun anlamına gelir.

Metinde verilen bu ifade aşağıdakilerden hangisi ile isimlendirilmektedir?

- A) Salavat
B) Hamdele
C) Tekbir
D) Kelime-i tevhid

5. Günlük yaşantımızda sıkça kullandığımız bazı cümleler vardır. Temelde konuşmalarımız içinde söyleriz ama onların her biri aslında birer duadır. Bizler o cümlelerle birbirimiz hakkında bazı dua ve isteklerde bulunuruz.

Aşağıdakilerden hangisi bu metne doğrudan örnek gösterilemez?

- A) Allah ne muradın varsa versin.
B) Allah kavuştursun.
C) Allah kazadan beladan korusun.
D) Allah yüceler yücesidir.

6. Selamlaşmak için çeşitli ifadeler kullanabiliriz. Bu ifadelerden en yaygın olanı, İslam dininin de tavsiye ettiği "Selamün Aleyküm" sözüdür. Birisine "Selamün Aleyküm" demek aynı zamanda onun için dua etmektir. Bu sözü söylediğimiz kimseye , ve içinde olası anlamına gelen bir dua etmiş demektir.

Verilen boş yerlerden birine aşağıdakilerden hangisi getirilemez?

- A) Barış
B) Zenginlik
C) Güven
D) Huzur

7. Her namazın sonunda tesbihat adı verilen sözleri söyleriz. 33'er kere söylediğimiz bu sözler sırasıyla Subhanallah, Elhamdulillah ve Allahu ekber sözleridir.

Buna göre aşağıdakilerden hangisi namaz sonrası tesbihatta 33'er kere söylediğimiz sözlerin anlamlarından biri değildir?

- A) Allah, en büyüktür.
B) Allah (c.c.) tüm eksikliklerden uzak ve en yücedir.
C) Allah'tan başka ilah yoktur.
D) Tüm övgü ve şükürler Allah'adır.

8. Amentü sözcüğüyle başlayan dua içinde aşağıdakilerden hangisi bulunur?

- A) İnanç esasları
B) İbadetler
C) Kur'an okumanın gerekliliği
D) Ahlak kuralları

9. Hz. Peygamber (s.a.v.) şöyle buyurdu: "Sıla-i rahim'in koparılmaması, aile içinde sevgi, malda bolluk ve ömrün uzamasına (bereketlenmesine) sebeptir." (Tirmizi)

Bu hadisten aşağıdakilerden hangisine ulaşılır?

- A) Komşuların birbirleri üzerinde hakları bulunmaktadır.
B) Akriba ilişkisini kesmemenin pek çok yararı vardır.
C) Gerçek arkadaşlık sevgi ve sadakat üzerine kurulmalıdır.
D) Ömür, doğumdan ölüme kadar geçen süredir.

10. "Sizden biri (pişirilirken) yanmış koyun paçası dahi olsa komşusu tarafından kendisine ikram edilen şeyi küçümsemesin."

Bu hadiste komşular arasında aşağıdakilerden hangisinden uzak durulması tavsiye edilmiştir?

- A) Kul hakkı yeme
B) Cimrilik
C) Verdiği sözden cayma
D) Büyükleme

11. Hamd, Âlemlerin Rabbi, Rahmân, Rahîm, hesap ve ceza gününün (ahiret gününün) maliki Allah'a mahsustur.

Türkçe anlamı verilen bu ayetlerden sonra aşağıdakilerden hangisinin anlamı gelmektedir?

- A) Yalnız sana ibadet ederiz ve yalnız senden yardım dileriz.
B) İşte kitap; onda asla şüphe yoktur. O, günahattan sakınanlar için bir rehberdir.
C) Onlar namazlarını ciddiye almazlar.
D) Doğrusu sana buğzeden, soyu kesik olanın ta kendisidir.

12. Kur'an-ı Kerim'de bir surede Allah, bize bir dua öğretir ve bizden "bizi kendilerine nimet verilenlerin yoluna ilet" şeklinde dua etmemizi ister. Aynı duanın devamında gazaba uğrayanların ve yoldan çıkmışların yolundan uzak durmamızı ister.

Bu dualar aşağıdaki surelerden hangisinde geçmektedir?

- A) Kafirun
B) Kunut
C) Fatiha
D) Maun

13. Namaz kılariken okuduğumuz dualardan birinin anlamı şöyledir: "Allah'im seni tenzih ve hamdinle tesbih ederim. Senin şanın yücedir ve ..."

Bu duanın son bölümü aşağıdakilerden hangisinde geçmektedir

- A) Her türlü iyilik sendendir.
B) Merhametin çoktur.
C) Senden gayri hiçbir ilâh yoktur.
D) Sevdiğinden daha değerli yoktur.

14. Hz. Muhammed ve ailesi ile Hz. İbrahim ve ailesinin birlikte anıldığı, onlar için rahmet ve bereket istenen sure veya dua aşağıdakilerden hangisidir?

- A) Salli Barik
B) Kunut
C) Rabbena
D) Fatiha

15. Aşağıdakilerden hangisi farklı bir surenin Türkçe anlamı içinde yer almaktadır?

- A) Onların tuzaklarını boşa çıkarmadı mı?
- B) Üzerlerine sürü sürü kuşlar gönderdi.
- C) Onları yenilmiş ekin yaprakları haline getirdi.
- D) Onlar namazlarını ciddiye almazlar.

16. Veyl, kelimesi Kur'an-ı Kerim'de geçen ifadelerden biridir. Yazıklar olsun şeklinde anlam verilmektedir. Bu ifade Allah'ın istemediği işler yapanlar için kullanılmıştır. Örneğin Allah, namazı bilinçsiz kılan, gösteriş yapanlar için bu ifadeyi kullanmıştır.

Metinde aşağıdaki surelerden hangisindeki "veyl" kelimesine vurgu yapılmıştır?

- A) Kureyş
- B) Maun
- C) Felak
- D) Nasr

17. Vitir namazının son rekatında okunan bir dua bulunmaktadır. Bu dua içinde Allah'tan istediklerimiz arasında hidayet yani bizi doğru yola iletmesi de yer almaktadır. Aynı içerikte olan benzer bir duayı da yine namazda sıkça okuduğumuz başka bir sure içinde yaparız.

Metinde hangi dua ve surenin benzerliği üzerinde durulmaktadır?

- A) Salli Barik – Kevser
- B) Kunut – Fatıha
- C) Rabbena – Kafirun
- D) Tahiyat – Maun

18. Namazda okuduğumuz dualardan birinin sonunda Allah'ın bir olduğuna şahitlik ettiğimizi söyleriz. Aynı şekilde kısa surelerden biri de Allah'ın bir olduğu bilgisiyle başlar. Aynı surenin devamında da onun hiçbir şeye muhtaç olmadığı anlatılır.

Bu metinde hangi dua ve surenin anlamıyla ilgili açıklama yapılmıştır?

- A) Salli Barik – Felak
- B) Kunut – Fatıha
- C) Rabbena – Maun
- D) Tahiyat – İhlas

19. Kur'an-ı Kerim'de Peygamberimizin hayatıyla ilgili bazı olayların anlatıldığı ayetler yer almaktadır. Örneğin Peygamberimizin yaşadığı yer olan Mekkelilere yaz ve kış yolculuklarda kolaylık sağlanması, korku ve açlıktan Allah'ın yardımıyla kurtarılmaları gibi...

Metinde Peygamberimizin yaşamıyla ilgili hangi suredeki bilgiler örnek olarak verilmiştir?

- A) Kureyş
- B) Kafirun
- C) Tebbet
- D) Nasr

20. Aşağıdakilerden hangisi Ayete'l-Kürsi'nin Türkçe anlamı içinde yer almaz?

- A) Onu ne bir uyuklama tutabilir, ne de bir uyku.
- B) Göklerdeki her şey, yerdeki her şey onundur.
- C) O, din gününün (ceza gününün) sahibidir.
- D) İzni olmaksızın onun katında şefaatte bulunacak kimdir?

21. Aşağıdakilerden hangisinde "lem yetûbû" - "alâ külli şeyin" - "mâ yefalûne" ifadelerinden herhangi birisi geçmemektedir?

| | |
|----|--------------------------------------------------------------------------------------------------------------------------------------|
| A) | وَهُمْ عَلَىٰ مَا يَفْعَلُونَ بِالْمُؤْمِنِينَ شُهُودٌ |
| B) | وَمَا نَقَمُوا مِنْهُمْ إِلَّا أَنْ يُؤْمِنُوا بِاللَّهِ الْعَزِيزِ الْحَمِيدِ |
| C) | الَّذِي لَهُ مُلْكُ السَّمَوَاتِ وَالْأَرْضِ وَاللَّهُ عَلَىٰ كُلِّ شَيْءٍ شَهِيدٌ |
| D) | إِنَّ الَّذِينَ فَتَنُوا الْمُؤْمِنِينَ وَالْمُؤْمِنَاتِ ثُمَّ لَمْ يَتُوبُوا فَلَهُمْ عَذَابُ جَهَنَّمَ وَلَهُمْ عَذَابُ الْحَرِيقِ |

22.

فَبَايَ الْإِلَهِ رَبِّكُمْ تَكْذِبَانَ

Yukarıda altı çizili bölümde uygulanması gereken tecvid kuralı aşağıdakilerden hangisidir?

- A) Meddi muttasıl
- B) Meddi tabi
- C) Ihfa
- D) Meddi munfasıl

23.

لَتَرُونَ الْجَحِيمَ

Yukarıdaki ayetin içinde bulunduğu sure aşağıdakilerden hangisi ile başlar?

| | |
|----|-----------------------------------------|
| A) | الْمَ نَشْرَحُ لَكَ صَدْرَكَ |
| B) | وَالَّتَيْنِ وَالزَّيْتُونَ |
| C) | إِقْرَأْ بِاسْمِ رَبِّكَ الَّذِي خَلَقَ |
| D) | الْهَيْكُمُ التَّكَاثُرُ |

24. Aşağıdaki ayet bölümlerinden hangisi diğer seçeneklerdeki bölümlerden farklı bir sure içinde yer almaktadır?

| | |
|----|---------------------------------------|
| A) | الَّذِي جَمَعَ مَالًا وَعَدَّدَهُ |
| B) | يَحْسَبُ أَنَّ مَالَهُ أَخْلَدَهُ |
| C) | فَإِنَّ مَعَ الْعُسْرِ يُسْرًا |
| D) | الَّتِي تَطَّلِعُ عَلَى الْأَفْئِدَةِ |

25. "يَدْخُلُونَ فِي" ifadesi aşağıdakilerden hangisinin içinde geçmektedir?

- A) İhlas suresi
- B) Felak suresi
- C) Nasr suresi
- D) Kevser suresi

26. Tabloda Kunut dualarına ait bölümler karışık halde verilmiştir.

| | |
|---|--------------------------------------------------------------------|
| 1 | وَ تُوْمِنُ بِكَ وَ نَتُوبُ إِلَيْكَ |
| 2 | اللَّهُمَّ إِنَّا نَسْتَعِينُكَ وَ نَسْتَغْفِرُكَ وَ نَسْتَهِدِيكَ |
| 3 | وَ نَخْلَعُ وَ نَتْرُكُ مَنْ يَفْجُرُكَ |
| 4 | وَ نَتَوَكَّلُ عَلَيْكَ |
| 5 | وَ نُنشِي عَلَيْكَ الْخَيْرَ كُلَّهُ نَشْكُرُكَ وَ لَا نَكْفُرُكَ |

Bu bölümlerin doğru sıralaması aşağıdakilerden hangisidir?

- A) 2 - 4 - 1 - 3 - 5
- B) 2 - 1 - 4 - 5 - 3
- C) 3 - 2 - 1 - 5 - 4
- D) 3 - 1 - 2 - 4 - 5

27. Aşağıdakilerden hangisi Ayete'l-Kürsi içinde yer almaz?

| | |
|----|------------------------------------------------------------|
| A) | مَنْ ذَا الَّذِي يَشْفَعُ عِنْدَهُ إِلَّا بِإِذْنِهِ |
| B) | لَهُ مَا فِي السَّمَوَاتِ وَمَا فِي الْأَرْضِ |
| C) | وَلَا يُحِيطُونَ بِشَيْءٍ مِنْ عِلْمِهِ إِلَّا بِمَا شَاءَ |
| D) | يَحْسَبُ أَنَّ مَالَهُ أَخْلَدَهُ |

28.

لَيْلَةُ الْقَدْرِ خَيْرٌ مِنْ أَلْفِ شَهْرٍ

Kadir suresini okuyan bir kimse en son yukarıdaki bölümü okumuştur.

Buna göre bu kişi bu ayetten hemen bir önce aşağıdakilerden hangisini okumuş olmalıdır?

| | |
|----|---------------------------------------------------------------------------------|
| A) | سَلَامٌ هِيَ حَتَّى مَطَلَعِ الْفَجْرِ |
| B) | إِنَّا أَنْزَلْنَاهُ فِي لَيْلَةِ الْقَدْرِ |
| C) | وَمَا أَدْرَاكَ مَا لَيْلَةُ الْقَدْرِ |
| D) | تَنْزِيلُ الْمَلَائِكَةِ وَالرُّوحِ فِيهَا بِإِذْنِ رَبِّهِمْ مِنْ كُلِّ أَمْرٍ |

29.

| | |
|---|---------------------------------------------------|
| 1 | وَأَمَّا مَنْ خَفَّتْ مَوَازِينُهُ |
| 2 | يَوْمَ يَكُونُ النَّاسُ كَالْفَرَاشِ الْمَبْثُوثِ |
| 3 | وَتَكُونُ الْجِبَالُ كَالْعِهْنِ الْمَنْفُوشِ |
| 4 | فَأَمَّا مَنْ ثَقُلَتْ مَوَازِينُهُ |

Yukarıdaki ayetlerden hangilerinde tecvid kurallarından ihfaya örnek bulunmaktadır?

- A) 1 ve 4
B) 3 ve 4
C) 2 ve 4
D) 1 ve 3

30. Aşağıdakilerden hangisinde herhangi bir surenin son ayeti yer almaz?

| | |
|----|--------------------------------------------------------------------|
| A) | الَّذِي يُوسِسُ فِي صُدُورِ النَّاسِ |
| B) | فِي جِيدِهَا حَبْلٌ مِنْ مَسَدٍ |
| C) | فَسَبِّحْ بِحَمْدِ رَبِّكَ وَاسْتَغْفِرْهُ إِنَّهُ كَانَ تَوَّابًا |
| D) | وَمِنْ شَرِّ حَاسِدٍ إِذَا حَسَدَ |

Sınav sona ermiştir. Cevaplarınızı kontrol etmeyi unutmayınız.

| Soru No | Cevap | B Karşılığı | Konu | B KİT. |
|---------|-------|-------------|-----------|--------|
| 1 | B | 11 | TÜRKÇE | A |
| 2 | D | 12 | TÜRKÇE | C |
| 3 | C | 13 | TÜRKÇE | D |
| 4 | B | 14 | TÜRKÇE | B |
| 5 | A | 15 | TÜRKÇE | C |
| 6 | A | 1 | TÜRKÇE | A |
| 7 | C | 2 | TÜRKÇE | D |
| 8 | D | 3 | TÜRKÇE | A |
| 9 | B | 4 | TÜRKÇE | D |
| 10 | C | 5 | TÜRKÇE | B |
| 11 | A | 6 | TÜRKÇE | B |
| 12 | D | 7 | TÜRKÇE | D |
| 13 | A | 8 | TÜRKÇE | C |
| 14 | D | 9 | TÜRKÇE | B |
| 15 | B | 10 | TÜRKÇE | A |
| 1 | D | 12 | MATEMATİK | A |
| 2 | B | 13 | MATEMATİK | B |
| 3 | C | 14 | MATEMATİK | C |
| 4 | D | 15 | MATEMATİK | A |
| 5 | A | 1 | MATEMATİK | B |
| 6 | B | 2 | MATEMATİK | C |
| 7 | C | 3 | MATEMATİK | D |
| 8 | A | 4 | MATEMATİK | B |
| 9 | B | 5 | MATEMATİK | A |
| 10 | C | 6 | MATEMATİK | B |
| 11 | D | 7 | MATEMATİK | C |
| 12 | B | 8 | MATEMATİK | D |
| 13 | A | 9 | MATEMATİK | B |
| 14 | B | 10 | MATEMATİK | C |
| 15 | C | 11 | MATEMATİK | D |
| 1 | D | 9 | FEN | A |
| 2 | B | 10 | FEN | C |
| 3 | A | 1 | FEN | C |
| 4 | C | 2 | FEN | A |
| 5 | C | 3 | FEN | B |
| 6 | A | 4 | FEN | D |
| 7 | B | 5 | FEN | D |
| 8 | D | 6 | FEN | C |
| 9 | D | 7 | FEN | D |
| 10 | C | 8 | FEN | B |
| 1 | B | 6 | SOSYAL | B |
| 2 | D | 7 | SOSYAL | A |
| 3 | C | 8 | SOSYAL | A |
| 4 | A | 9 | SOSYAL | B |
| 5 | C | 10 | SOSYAL | D |
| 6 | B | 1 | SOSYAL | B |
| 7 | A | 2 | SOSYAL | D |
| 8 | A | 3 | SOSYAL | C |
| 9 | B | 4 | SOSYAL | A |
| 10 | D | 5 | SOSYAL | C |
| 1 | D | 15 | DKAB | C |
| 2 | D | 16 | DKAB | A |
| 3 | C | 17 | DKAB | B |
| 4 | A | 18 | DKAB | D |
| 5 | D | 19 | DKAB | A |

| | | | | |
|----|---|----|------|---|
| 6 | B | 20 | DKAB | C |
| 7 | C | 1 | DKAB | C |
| 8 | A | 2 | DKAB | A |
| 9 | B | 3 | DKAB | D |
| 10 | D | 4 | DKAB | B |
| 11 | A | 5 | DKAB | B |
| 12 | C | 6 | DKAB | D |
| 13 | C | 7 | DKAB | A |
| 14 | A | 8 | DKAB | C |
| 15 | D | 9 | DKAB | D |
| 16 | B | 10 | DKAB | D |
| 17 | B | 11 | DKAB | C |
| 18 | D | 12 | DKAB | A |
| 19 | A | 13 | DKAB | D |
| 20 | C | 14 | DKAB | B |
| 21 | B | 25 | DKAB | D |
| 22 | A | 26 | DKAB | C |
| 23 | D | 27 | DKAB | B |
| 24 | C | 28 | DKAB | A |
| 25 | C | 29 | DKAB | B |
| 26 | B | 30 | DKAB | A |
| 27 | D | 21 | DKAB | D |
| 28 | C | 22 | DKAB | C |
| 29 | B | 23 | DKAB | C |
| 30 | A | 24 | DKAB | B |