



HAFİZİHO

Hafız Yetiştirme ve Akademik Başarıyı Destekleme Projesi

2021

**HAFIZ YETİŞTİRME VE
AKADEMİK BAŞARIYI DESTEKLEME
PROJESİ SEVİYE BELİRLEME SINAVI**

Ad - Soyad :

Okul :

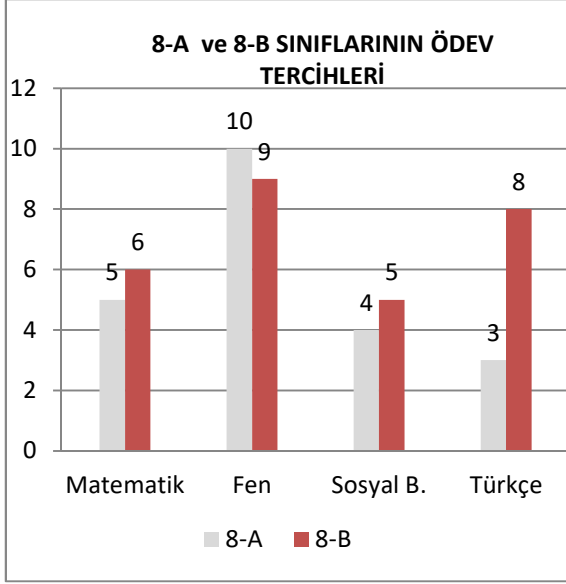
Sınıf - No :

ALANLAR	SORU SAYISI	TOPLAM SORU SAYISI	SÜRE
1. BÖLÜM	40	80	100 DAKİKA
2. BÖLÜM	40		

1. Sınav süresince gözetmenlerin uyarılarına dikkat ediniz.
 2. Sınav süresince kitap, sözlük veya elektronik araçları yanınızda bulundurmuyunuz.
 3. Cevap kağıdınızdaki bilgilerin doğruluğunu kontrol ediniz.
 4. Kitapçık üzerindeki ad-soyad, sınıf-no, okul bilgileriniz kodlamayı unutmayınız.
 5. Cevap kağıdınız üzerinde bulunan kitapçık türünü doğru kodladığınızdan emin olunuz.
 6. Sınavın değerlendirilmesi optik okuma araçları ve elektronik ortamda yapılacağından ikili veya toplu kopya çekilmesi tespit edilmektedir. Bu gibi durumlarda sınavınız geçersiz sayılacaktır.
 7. Cevap kağıdı üzerinde kurşun kalemle işaretleme yapınız. Değiştirmek istediğiniz cevabınızı yumuşak silgi ile iz bırakmadan siliniz. Cevap kağıdınızı buruşturmayınız ve katlamayınız.
 8. Soru kitapçığınızı sınav başlamadan kontrol ediniz. Eksik sayfa varsa değiştirilmesini isteyiniz.
 9. Sınav bitiminde cevap kağıdınızı teslim etmeyi unutmayınız. Her sorunun bir doğru cevabı bulunmaktadır.
 10. Başlayınız denilmeden kitapçığınızı açmayınız.
 11. Yanlış cevaplar doğru cevapları götürmemektedir.
 12. **ÖNEMLİ: TC Kimlik numaranızı cevap formu üzerindeki alana dikkatli kodlayınız.**
- © Her hakkı saklıdır. İzinsiz kopyalanamaz, alıntı yapılamaz, yayımlanamaz.

(Sonraki iki soruyu aşağıdaki grafiğe göre cevaplayınız.)

8-A ve 8-B sınıflındaki her öğrenci yalnızca bir dersten ödev almıştır. Geriye ödev almamış hiçbir öğrenci kalmamıştır. Bu öğrencilerin kaçının hangi dersten ödev almak istediği ile ilgili bilgiler aşağıdaki grafikte gösterilmiştir.



1. Grafiğe göre aşağıdakilerden hangisi yanlıştır?

- A) İki sınıfta da en az tercih edilen ders Sosyal Bilgiler dersi.
- B) 8-A sınıfında Türkçe ve Sosyal Bilgiler tercih edenlerin toplamı aynı sınıftaki Fen tercih edenlerden azdır.
- C) Her iki sınıfta da en çok Fen dersi seçilmiştir.
- D) 8-A sınıfı yalnızca Fen dersini tercihte diğer sınıfı sayıca geçmiştir.

2. Verilen grafikten 8-A ve 8-B sınıflarıyla ilgili aşağıdaki bilgilerden hangisine ulaşamaz?

- A) Matematik dersinden ödev tercih edenlerin toplam sayısı
- B) Ödev seçilen derslerin not ortalamaları
- C) En çok hangi dersten ödev tercih edildiği
- D) Sınıfların ayrı ayrı kaç kişiden oluştuğu

3. "Her zaman bir arada bulunan, arkadaşlık eden kimseler, birbirlerine huy aşlar." anlamında kullanılan bir atasözüdür.

Açıklaması yapılan atasözümüz aşağıdakilerden hangisidir?

- A) Besle kargayı, oysun gözünü.
- B) Tencere dibin kara, seninki benden kara.
- C) Üzüm üzüme baka baka kararır.
- D) Bir elin nesi var, iki elin sesi var.

4. Can sıkıntısı sobeleyemez kimseyi
İçine saklanınca bir kitabın
Çünkü bir kitabın içine bakmak
Hiç aklına gelmez sıkıntının.

Aysel K. EKİZ

Verilen şiirden aşağıdakilerden hangisine ulaşılır?

- A) Kitap okumak can sıkıntısını engeller.
- B) Saklambaç arkadaşlarla oynanmalıdır.
- C) Bir şey ararken kitabın içine bakmak kimsenin aklına gelmez.
- D) Sobeleme oynamak için önce bu oyunu kitabından okumak gerekir.

5. Noktalama işaretleri içinde belki de en çok kullanılanların başında nokta gelir. Nokta; cümlelerin, sıra bildiren sayıların ve bazı kısaltmaların sonuna getirilir.

Noktanın kullanıldığı yerlerle ilgili bu metinde anlatılanlara aşağıdakilerden hangisi örnek gösterilemez?

- A) 14.02.2017 tarihli gazete mi bu?
- B) Eve daha yeni geldim.
- C) Padişah II. Mahmut tarafından yapıldı.
- D) Dr. Mehmet Bey'in hastası mısınız?

6.

- (1) Yavaşça ayakkabısını ayağına giydi ve yola doğru ilerledi.
- (2) Karanlıkta yürürken bir ses işittiğini zannetti.
- (3) Sesin geldiği yöne doğru bakmaya başladı.
- (4) Daha şimdiden içine bir kurt düşmüştü.

Bu cümlelerden hangisinde mecaz bir anlatıma yer verilmiştir?

- A) (1)
- B) (2)
- C) (3)
- D) (4)

7. Sanki yıllardır şoförlük yapıyormuş gibi bir hava takınmıştı. Oysa direksiyon başına geçeli henüz birkaç saat olmuştu. Yine de kendinden emin bir görüntüsü vardı.

Bu metinde geçen mecaz anlamlı ifade aşağıdakilerden hangisidir?

- A) Şoförlük yapmak
- B) Direksiyon başına geçmek
- C) Hava takınmak
- D) Kendinden emin olmak

8. Göçmen kuşlar bir yerden başka bir yere giderken belli bir düzen içinde uçarlar. En öndeki kuş sürekli olarak değişir. Çünkü önde olup rüzgârı yarmak güç gerektirir. Yardımlaşarak uçar kuşlar. İnsanlar da kuşlar gibi olsa ne güzel olurdu.

Metnin sonunda aşağıdakilerden hangisi bulunmaktadır?

- A) Neden sonuç
- B) Karşılaştırma
- C) Benzetme
- D) Soru sorma

9. Dünya bize emanettir. Bu nedenle onu kirletmemek için elimizden geleni yapmalıyız. Örneğin tükenmiş pilleri gelişigüzel doğaya atmamalıyız. Hatta onları çöp kutularına bile atmamalı, ayrı bir yerde toplayıp diğer atıklara karıştırmamalıyız. Çünkü içlerinde bulunan cıva, kurşun, lityum, mangan, nikel, kobalt, kadmiyum gibi kimyasal maddeler son derece zararlıdır. Piller çöpe atıldığı takdirde bu maddeler toprağa ulaşacak ve onun yapısını kullanılamayacak kadar bozacaktır.

Bu metinde en çok aşağıdaki sorulardan hangisinin cevabı verilmektedir?

- A) Kaynakları israf etmemek neden önemlidir?
- B) Bitmiş piller neden çöpe atılmamalıdır?
- C) Pillerin üretim aşamaları nelerdir?
- D) Dünyanın korunması için birbirimizi nasıl uyarmalıyız?

10. Aşağıdakilerden hangisinde "tutmak" sözcüğünün cümlede kazandığı anlam yanlış verilmiştir?

	Cümle	Anlam
A)	Tabanı otuz, otuz beş metre kadar tutar.	Desteklemek
B)	Kucağında kundaklı bir çocuk tutuyordu.	Elde bulundurma, ele almak
C)	Tuttuğumuz balığı tekrar denize döküyoruz.	Avlamak
D)	Siz gelinceye kadar kediyi ben tutarım!	Alıkoymak

11. "kazak - kızak - kazık - kaza - kazı" sözcükleri sözlük sırasına göre doğru sıralanmak istenmektedir.

Bu sözcüklerin doğru sıralamasına göre baştan ikinci sözcük aşağıdakilerden hangisidir?

- A) kaza
- B) kazı
- C) kazak
- D) kızak

12. İnsan başkalarına yardım etmenin tadını bir kere aldı mı bunu bir daha bırakamaz. Çünkü kendisine yardım edilen ihtiyaç sahiplerinin gözlerindeki o mutluluğu gördüğünde içini bir huzur kaplar. Onların sevinçlerine kaynaklık etmenin mutluluğunu yaşar.

Bu parçada işlenen konu aşağıdakilerden hangisidir?

- A) Paylaşmanın yolları
- B) Maddi ihtiyaç çeşitleri
- C) Yardımlaşmanın bireylere etkisi
- D) İslam'ın insan haklarına verdiği önem

13.

1. Durağa vardığında otobüsün gelmesine birkaç dakika olduğunu fark etti.
2. Neden sonra bu durağın yenilenmiş olduğunu fark etti.
3. Evdeydi ve son otobüsü kaçırmamak için çabuk hazırlanmaya çalışıyordu.
4. Eşyalarını aceleyle çantasına koyup kapıdan çıktı.

Numaralanmış cümlelerle anlamlı bir metin oluşturulduğunda sıralama aşağıdakilerden hangisi olmalıdır?

- A) 4 - 3 - 1 - 2
- B) 2 - 1 - 3 - 4
- C) 1 - 4 - 2 - 3
- D) 3 - 4 - 1 - 2

14. (1) Ülkemizdeki şehir sayısı 81'dir. (2) Yüzölçümü açısından en büyük şehir Konya'dır. (3) Ancak nüfus olarak en çok insan İstanbul'da yaşamaktadır. (4) Deniz kenarındaki şehirlerde yaşayanlar ise denize kıyısı olmayan yerlerdekilere göre daha şanslı.

Bu metindeki numaralandırılmış cümlelerin hangisinde kişisel (öznel) bir görüşe yer verilmiştir?

- A) 1.
- B) 2.
- C) 3.
- D) 4.

15. Akıllı insan kitap okuyan insandır. Her birinde ayrı bir öykü gizlidir. Uzak diyarlarda yaşanmış olaylar, birçok güzel fikir, söz ve cümle vardır içlerinde kitapların.

Metindeki altı çizili kelimelerden hangisinin eş anlamlısı aşağıda yoktur?

- A) Uslu
- B) Irak
- C) Düşünce
- D) Hikâye

- 16.** Bir satış yerinde buzdolaplarında şöyle bir kampanya düzenlenmişti:



Buzdolabı satış fiyatı: 9250 TL

Baştan 1750 TL peşin verildiğinde sonraki ilk üç ay ödemesiz olacaktır. Sonrasında ise ayda 750 TL taksitle sizin de yeni bir buzdolabınız olabilir.

Buna göre buzdolabının ödemesi kaç ayda tamamlanacaktır?

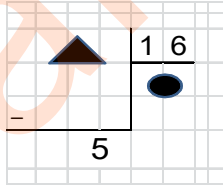
- A) 10
B) 11
C) 12
D) 13

- 17.** Saat tam 09:15'te başlayan bir toplantı sırayla 35, 40 ve 44 dakikalık üç bölüm olarak yapılmıştır. Bölümler arasında da biri 15, diğer 17 dakikalık iki ara verilmiştir.

Buna göre toplantının bitiş zamanı aşağıdakilerden hangisidir?

- A) 10:51
B) 11:16
C) 11:46
D) 12:11

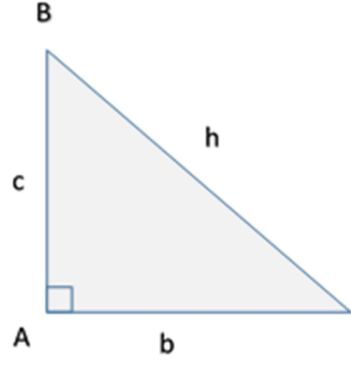
18.



Verilen bölme işleminde kalanın 5 olması için üçgen yerine aşağıdakilerden hangisi gelmelidir?

- A) 39
B) 43
C) 48
D) 53

19.



Yukarıda gösterilen üçgen dik açılı bir üçgendir.

Buna göre bu üçgenin iç açıları aşağıdakilerden hangisi olabilir?

- A) 32°, 52°, 96°
B) 43°, 47°, 90°
C) 32°, 38°, 110°
D) 20°, 40°, 120°

- 20.** Bir meyve bahçesinde 9 sıra şeftali, 3 sıra elma fidanı dikilmiştir. İki meyve türünde de her sırada 18'er fidan dikilmiştir. Ancak ilk yıl şeftali fidanlarının $\frac{1}{6}$ 'sı, elma fidanlarının ise $\frac{1}{9}$ 'u kurumuştur.

Buna göre bahçede kurumayan şeftali ve elma fidanlarının toplam sayısı kaçtır?

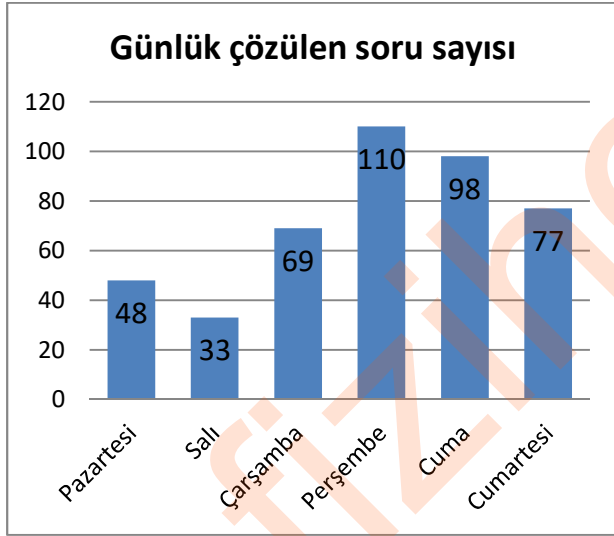
- A) 33
B) 144
C) 183
D) 216

21.

Verilen tablonun kesir olarak $\frac{1}{2}$ şeklinde ifade edilmesi için kaç bölümün daha boyanması gerekir?

- A) 1
B) 2
C) 5
D) 6

22. Verilen grafikte bir öğrencinin haftanın altı günü çözdüğü soru sayısı gösterilmektedir.



Grafiğe göre aşağıdaki ifadelerden hangisi doğrudur?

- A) En çok soru çözümü yaptığı gün Perşembe'dir.
B) Pazartesiden itibaren her gün bir öncekinden daha çok soru çözmüştür.
C) Salı ve Cumartesi günleri çözdüğü toplam soru sayısı Perşembe günü çözdüğü soru sayısını geçmiştir.
D) En çok soru çözümü yaptığı günler haftanın ilk iki günüdür.

23.



Yandaki yapı kaç eş birim küpten oluşmuştur?

- A) 8
B) 9
C) 10
D) 11

24. $\frac{X-7}{10}$ ifadesinin basit kesir olması için X yerine gelebilecek en büyük sayı aşağıdakilerden hangisidir?

- A) 19
B) 16
C) 12
D) 11

25. Aşağıda her harf bir sayıya denk gelecek şekilde eşleştirilen bir kodlama verilmiştir.

MUHTEMEL → 29345258

Buna göre $ELEM - ALEM = ?$ işleminin sonucunun 4000 olması için A kaç olmalıdır?

- A) 0
B) 1
C) 2
D) 3

26. $26 + 37 + X < 143$

Verilen işlemde X yerine yazılabilecek olan en büyük sayı aşağıdakilerden hangisidir?

- A) 99
- B) 89
- C) 79
- D) 69

27. Bir markette 5 günde toplam 312 adet ekme satılmıştır. En çok ekme ikinci gün, en az ekme ise beşinci gün satılmıştır. Birinci gün 47, üçüncü gün 77, dördüncü gün ise 69 ekme satılmıştır.

Buna göre beşinci gün satılan ekme sayısı en çok aşağıdakilerden hangisidir?

- A) 11
- B) 21
- C) 31
- D) 41

28. Aynı yolu kullanacak iki araç aynı anda İstanbul ve Konya'dan karşılıklı olarak yola çıkarlar. Ortalama 80 km hızla yol alan ilk araç Konya'dan hareket ettikten 4 saat sonra mola verir. Aynı anda İstanbul'dan yola çıkan ikinci araç da 4 saat sonra mola verir. İkinci aracın bu dört saatlik yolcuğundaki ortalama hızı da 90 km'dir. Aslında mola verdikleri yerler birbirine oldukça yakındır. Çünkü mola yerlerinin arasında yalnızca 18 km bulunmaktadır.

Buna göre İstanbul – Konya arasındaki bu yol kaç km'dir?

- A) 688
- B) 698
- C) 708
- D) 718

29. Bir aile 580 TL ile alışverişe çıkarlar. Önce paralarının $\frac{4}{29}$ 'u ile bir kazak, $\frac{7}{29}$ 'u ile ayakkabı alırlar. En son ise 160 TL vererek market alışverişlerini yaparlar.

Buna göre bu ailenin yanlarında ne kadar para kalmıştır?

- A) 180
- B) 200
- C) 220
- D) 380

30. Bir inşaat işçisi her biri 3 metre olan demir çubukları 75'er cm'lik parçalara ayıracaktır. Bu işçi her on dakikada 3 metrelik 12 demir çubuğu parçalara ayırabilmektedir.

Bu işçi hiç ara vermeden 1 saat 20 dakika çalıştığında elinde 75'er cm'lik kaç parça demir çubuk bulunur?

- A) 96
- B) 288
- C) 360
- D) 384

- 31.**Görselde çöl kumları gösterilmektedir. Temelde kayaç olarak kabul edilen çöl kumları daha iri kayaçların çeşitli nedenlerle parçalanması sonucu oluşmuştur.



Çöl kumlarının oluşmasına neden olan bu etkenler arasında aşağıdakilerden hangisi bulunur?

- A) Sıcaklık farkı
- B) Yağmur
- C) Akarsu aşındırması
- D) İçerdikleri mineraller

- 32.**Yaşamımızı devam ettirmek için ihtiyaç duyduğumuz enerjiyi besinlerden alırız. Hareket etmek, spor yapabilmek için gerekli olan enerji denilince akla gelen ilk besin grubudur. Bu besin grubu ayrıca beynimizin kullandığı tek enerji kaynağıdır.

Metinde aşağıdaki hangi besin grubundan bahsedilmektedir?

- A) Protein
- B) Karbonhidrat
- C) Vitamin
- D) Mineral

33.

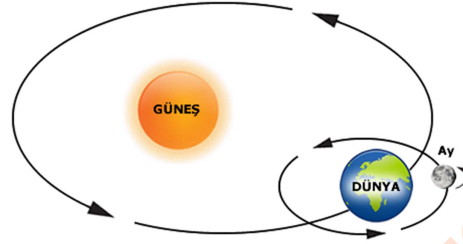


Dünya'da nadir bulunan, Türkiye'de de sadece Elazığ'da çıkarılan vişne mermeri, 60 ülkede seçkin mekânları süslüyor. Vişne renginde, damarlı yapıya sahip, dekoratif amaçla kullanılan mermer türüdür.

Bu mermerin vişne renginde olmasını sağlayan aşağıdakilerden hangisidir?

- A) İçerdiği mineraller
- B) Yerin çok derininden çıkarılması
- C) Soğuk iklimde bulunması
- D) Gözenekli yapısı

- 34.**Görselde Dünya'nın Güneş çevresindeki dolanımı ile kendi çevresindeki dönüşü gösterilmektedir.



Dünya, Güneş çevresinde bir tam dolanımını tamamlayıp tekrar aynı noktaya geldiğinde kendi çevresinde kaç dönüş gerçekleştirmiş olmalıdır?

- A) 12
- B) 30
- C) 52
- D) 365

- 35.**Oltayla balık tutmak isteyen bir balıkçı aşağıdaki görseldeki gibi iğneleri bağladığı küçük bir iğne takımı yapmıştır.



Bu balıkçı oltasıyla suyun dibinde avlanmak istese aşağıdakilerden hangisini oltasına eklemelidir?

- A) Oltta mantarı

- B) Plastik şamandıra



- C) Oltta kurşunu

- D) Tahta parçası



36.Bir kutu içinde gelişi güzel atılmış olan bir miktar cam bilye, plastik ataş, tahta kalem, toplu iğne, tebeşir parçaları bulunmaktadır.

Karışık olarak bulunan bu maddelere mıknatıs yaklaştırıldığında aşağıdaki hangi durum gerçekleşir?

- A) Bilyeler ve tebeşir parçaları birbirinden ayrışır.
- B) Karışımdan yalnızca toplu iğneler ayrılır.
- C) İğneler ile ataşlar birbirine yapışır.
- D) Tahta kalem karışımın üstüne çıkar.

37.Bisiklet yarışı için sırada bekleyen bisikletçiler yarışın başlamasıyla birlikte pedal çevirmeye başlamıştı.



Bu yarışta bisikletçilerin pedal çevirmeleri kuvvetin aşağıdaki hangi etkisine örnektir?

- A) Hızlandırıcı
- B) Yavaşlatıcı
- C) Yön değiştirici
- D) Şekil değiştirici

38.I. Buz, su haline gelirken ısı

II. Su, donarken ısı

III. Su, kaynayıp buhar olurken ısı

Boş bırakılan yerlere sırasıyla aşağıdakilerden hangisi getirilmelidir?

	I	II	III
A)	alır.	verir.	verir.
B)	verir.	alır.	alır.
C)	alır.	verir.	alır.
D)	verir.	alır.	verir.

39.Van'da bulunan Muradiye Şelalesi, genellikle her kış mevsiminde etkili olan soğuk hava nedeniyle donar. Yılın diğer mevsimlerinde akan şelalenin donmuş hali de ziyaretçilerine eşsiz bir manzara sunar.



Şelalenin donması maddenin hal değişimiyle ilgili aşağıdakilerden hangisine örnektir?

- A) Katıdan sıvıya
- B) Sıvıdan gaza
- C) Gazdan sıvıya
- D) Sıvıdan katıya

40.Aydınlatma araçlarından hangisi diğerlerine göre daha eski tarihlerde kullanılmaya başlanmıştır?

A)



B)



C)



D)



1. Bölüm sona ermiştir. Lütfen Diğer Teste Geçiniz.

Cevap Formunuzda Cevaplarınızı Bir Sonraki Bölüme Kodlayınız.

1. I. Okuma yazmayı ilkokula başlamamın ikinci ayında öğrendim.
II. İki buçuk yaşındayken yemeğimi kendim yemeye başlamışım.
III. İlk rolümü 4. sınıfta yılsonu etkinliğinde sahnelenen tiyatro gösterisinde üstlendim.
IV. Anaokulu günlerim aklımda beni hep gülümseten anılarla doludur.

Yukarıda verilenlerin kronolojik sıralaması aşağıdakilerden hangisidir?

- A) I – II – IV – III
B) IV – I – III – II
C) III – I – IV – II
D) II – IV – I – III

2. Ülkemizde yüzyıllardır "Karaguni" adıyla bilinen bir çocuk oyunudur. Oyuncular, aralarında sayışarak bir ebe belirler. Ebe, yüzünü duvara dönerek yüksek sesle saymaya başlar. Oyunda söylenen sözlerden biri de "so-be" ifadesidir.

Hakkında bilgi verilen geleneksel çocuk oyunumuz aşağıdakilerden hangisidir?

- A) Dalıye
B) Aşık
C) Saklambaç
D) Mangala

3. Her milletin kendine ait kültürel değerleri vardır. Pek çok alanda bir kültüre özgü bu değerler arasında örneğin yemekler de vardır. Kültürler arası etkileşim günümüzde çok hızlı olmaktadır. Farklı kültürel lezzetleri tatmak kötü bir şey değildir. Ancak yine de bazı yiyeceklerin ülkemizde sıkça tüketilmesine rağmen milli kültürümüze ait olmadığı da bilinmelidir. Örneğin ...

Verilen metin aşağıdakilerden hangisi ile devam ettirilmelidir?

- A) Yoğurt
B) Manti
C) Pizza
D) Baklava

4.



Çanakkale Savaşları'nı konu edinen "Seddülbahir 32 Saat" adlı yapım 2016 yılında TRT tarafından dört bölüm halinde yayınlanmıştır.

Bu diziyi izleyenler aşağıdakilerden hangisiyle ilgili bir yapım izlemiş olurlar?

- A) Kurtuluş Savaşımız
B) I. Dünya Savaşı
C) Balkan Savaşları
D) II. Dünya Savaşı

5. Bir tiyatro gösterisinde çocuk oyuncuların birisi seyircilere şöyle sesleniyordu: "Maraş denilince akla ben gelirim. Ben ve benimle birlikte olanlar şehrimizi Fransız ve Ermenilere karşı savunduk. Nice şehitler verdik de vatanımızı çiğnetmedik. Biz de Maraş'ımız da "Kahraman" olduk."

Bu rol Milli Mücadele'mizdeki hangi kahramanımızdan esinlenerek yazılmıştır?

- A) Sütçü İmam
B) Şahin Bey
C) Şehit Kamil
D) Ali Saip Bey





6. Ormanlarımızın korunması ve ağaçlandırma çalışmaları bazı doğal afetlerin önlenmesinde etkilidir.

Ağaçlandırmanın önlediği bu doğal afetler arasında aşağıdakilerden hangisi yoktur?

- A) Sel
B) Heyelan
C) Çığ
D) Deprem

7. Yaşadığımız yerde bulunan unsurlar beşeri ve doğal olarak ikiye ayrılır. Beşeri unsurlar, insan aklı ve emeğinin ürünleridir. Sonradan var edilmişlerdir. Doğal unsurlar ise Allah tarafından yaratılmış olan ve insan yapısı olmayan unsurlardır.

Buna göre aşağıdakilerden hangisi diğerlerinden farklıdır?

- A)  B) 
C)  D) 

8. Fındık eksperliği adı verilen mesleği seçmeyi düşünen bir kimsenin onu yapabileceği yerleri de önceden bilmesi gerekir.

Bu meslek hangi bölgemizde daha çok tercih edilebilir?

- A) İç Anadolu
B) Güneydoğu Anadolu
C) Ege
D) Karadeniz

9.



Görseledeki uygulama devletimizin insanların hangi hakkının korunması için faaliyet gösterdiğine işaret etmektedir?

- A) Eğitim
B) Seyahat
C) Sağlık
D) Oyun

10. Dünya'da pek çok yerde yaşanan açlık ve yoksulluğun en çok etkilediği toplumsal kesimler arasında çocuklar ilk sıralarda gelmektedir. Oysa Çocuk Hakları Sözleşmesindeki ilk uyarı tam da bu konuyla ilgilidir.

Metinde çocukların sahip olduğu en temel hak olarak aşağıdakilerden hangisi anlatılmaktadır?

- A) Eğitim hakkı
B) Yaşama hakkı
C) Düşünce özgürlüğü
D) Seyahat özgürlüğü

11.Bir gazetede eylül ayı yaklaşırken şöyle yazıyordu: "Balıkçılar son hazırlıklarını yaptılar ve av yasağının bitmesini bekliyorlar. Hep birlikte (Allah'ın adıyla başlarım)" diyecekleri günü ipe çekiyorlar."

Balıkçıların "Allah'ın adıyla başlarım" diye söyleyecekleri ifade aşağıdakilerden hangisinde bulunmaktadır?

- A) Vira Bismillah
- B) Haydi Allahu Ekber
- C) Hayy'dır Allah
- D) Tövbe Estağfirullah

12.Peygamberimiz insanların günah işlemekten en çok sakınanı olmasına rağmen her gün pek çok defa Allah'tan af ve bağışlanma dilemiştir. Bunu da özellikle bizlere örnek olarak gerçekleştirmiştir.

Peygamberimizin bu davranışını örnek almak isteyen bir kimsenin aşağıdakilerden hangisini daha çok söylemesi gerekir?

- A) Bismillah
- B) Maşaallah
- C) Estağfirullah
- D) Allahu ekber

13.Her şeyin Allah'ın (c.c.) bilgisi ve dilemesi ile bir ölçüye göre gerçekleştiğine iman etmektir.

Bu inanç esasları aşağıdakilerden hangisidir?

- A) Ahirete iman
- B) Meleklerle iman
- C) Kitaplara iman
- D) Kadere iman

14.Bir gazetede Müslüman olmak isteyen bir kimse ile ilgili haber yapılmıştı. Habere göre bulunduğu yerin müftülüğüne giden bu kimsenin önce kelime-i şهادet getirmesine yardımcı olunmuş sonra da kendisine ilk iş olarak konuştuğu dilde açıklaması olan bir Kur'an-ı Kerim hediye edilmişti.

Buna göre Müslüman olmak isteyen bir kimsenin söylemesi gereken ifade aşağıdakilerden hangisidir?

- A) Lâilâhe illallah Muhammedün Resulullah
- B) Eşhedü en lâ ilâhe illallah ve eşhedü enne Muhammeden abduhû ve resûluh
- C) Allahu ekber ve lillahi'l-hamd
- D) Allâhümme salli alâ seyyidina Muhammed

15.Her yıl o ay gelince

Heyecan dolar kalplere

Aç susuz olsak bile

Bayramdır gönüllere

Bu dizelerde anlatılan ibadet aşağıdakilerden hangisidir?

- A) Namaz
- B) Oruç
- C) Zekât
- D) Hac

16.Kur'an hafızının muhafızı Kur'an olur.

Bu cümlelerin anlamı aşağıdakilerden hangisidir?

- A) Kur'an, kendisini ezberleyeni korur.
- B) Kur'an'ı korumak çok zorlu bir iştir.
- C) Korumak istediklerimizi Kur'an'la koruruz.
- D) Hafızlığın başlangıcı Kur'an'ı korumakla olur.

17.Güzel davranışlı ve iyi huylu kimselere "ahlaklı" veya "güzel ahlaklı" denir. Güzel ahlaklı olmak isteyenlerin kötü davranışlardan da sakınması gerekir. Bununla ilgili Kur'an'da şöyle bir ayet yer almaktadır: "...Muhakkak ki namaz hayâsızlıktan ve kötülükten alıko-yar..." (Ankebût suresi, 45. ayet)

Metinde güzel ahlak sahibi olmak için yapılması gerekenler arasında aşağıdakilerden hangisine dikkat çekilmiştir?

- A) Dua edilmesi
- B) Hadislere uyulması
- C) Başkalarına yardım edilmesi
- D) İbadetlerin yapılması

18."Müminler ancak kardeşlerdir. Öyleyse kardeşlerinizin arasını düzeltin..." (Hucurât suresi, 10. ayet)

"...Yaptığınız takdirde birbirinizi seveceğiniz bir şey söyleyeyim mi? Aranızda selamı yapınız." (Müslim, İman, 94)

Ayet ve hadiste arkadaşlar arasındaki sevginin arttırılması için aşağıdakilerden hangisine dikkat çekilmiştir?

- A) Çevresindekilerle görüş ayrılığına düşmemek
- B) Zor durumda birbirine yardım etmek
- C) Arkadaşlar arasında hiç sır olmaması için çabalamak
- D) Arayı düzelterek davranışlar yapmaya özen göstermek

19.Hz. Peygamber (s.a.v.) peygamberlerden biri için özellikle dedem, atam derdi. Kendisi de aslen o peygamberin soyundan gelmekteydi.

Bu peygamber aşağıdakilerden hangisidir?

- A) Hz. İsa
- B) Hz. Musa
- C) Hz. İbrahim
- D) Hz. Yakup

20.Hz. Peygamber'in doğumunu anlatmak için kullanılan kavramdır. Bu kelime doğma, doğum zamanı, doğum yeri, doğum yıldönümü gibi anlamlara gelir. Geçmişte, Hz. Muhammed'in (s.a.v.) doğum günü olan Rebiülevvel ayının 12. gecesinde camiler kandillerle donatıldığı için bu geceye "..... Kandili" adı verilmiştir.

Metinde anlatılan kandil gecesini aşağıdakilerden hangisi ile isimlendirilmiştir?

- A) Miraç
- B) Regaib
- C) Mevlit
- D) Berat

21.Peygamberimiz onu ibadetlerin ön şartı olarak saymış ve imanın da yarısı olduğunu söylemiştir. Diğer isimlerinden biri de taharettir.

Bu kavram aşağıdakilerden hangisidir?

- A) Salat
- B) Niyet
- C) İhlas
- D) Temizlik

22.Kur'an-ı Kerim'de bir sure hariç diğer surelerin başında hep besmele yazılıdır. Ancak bu surelerdeki besmele onların ilk ayeti olarak kabul edilmez. Yalnızca Kur'an-ı Kerim'in en başındaki besmele, başında bulunduğu surenin ilk ayeti olarak kabul edilir.

Buna göre aşağıdakilerden hangisinin ilk ayeti besmeledir?

- A) Bakara
- B) Alak
- C) Fatiha
- D) Yasin

23.Türkçe anlamına Allah'ın tüm eksikliklerden uzak olduğu ve O'nu her zaman öveceğimizi söyleyerek başladığımız duadır. Hemen sonrasında da Allah'ın adının ne kadar kutlu ve yüce olduğunu belirtiriz. Bu duayı namazlarda da okuruz.

Anlamı bu şekilde başlayan dua aşağıdakilerden hangisidir?

- A) Tahiyyat
- B) Subhaneke
- C) Kunut
- D) Rabbena

24.Bir kimse namaz sonrası Allah'a şöyle yakarıyordu: "Allah'ım! Sen hiçbir şeye muhtaç değilsin ama her şey sana muhtaçtır. Ben de sana muhtacım. Bana yardım et!"

Bu kimsenin duasında Allah'ın anlamını açıkladığı ismi aşağıdaki surelerden hangisinde de geçmektedir?

- A) Felak
- B) Nas
- C) İhlas
- D) Kevser

25.Bir adam yanındaki arkadaşına şöyle diyordu: "Harama asla el uzatmam. Çünkü bunun hesabını verememekten korkarım. Böyle bir kötülük yapmaktan Allah'a sığınırım! Yalnız bu değil her türlü yaratılmışın şerrinden de Allah'a sığınırım."

Adamın konuşmasının sonunda söylediği ifade aşağıda surelerden hangisinde geçmektedir?

- A) Felak
- B) Kureyş
- C) Fil
- D) Fatiha

26."Kıyamet günü insanların bana en yakını, bana en çok salavat getirendir." (Tirmizî, Vitr, 21)

Bu hadise uygun davranmak isteyen bir kimsenin aşağıdakilerden hangisini okuması gerekir?

- A) Subhaneke duası
- B) Salli – Barik duaları
- C) Kunut duası
- D) Fatiha suresi

27.Maun suresinde Allah gösteriş yapmanın ve yardımlaşmadan kaçınmanın özellikle bir ibadeti yapanlara yakışmadığını belirtmiştir. Hatta hem o ibadeti yapıp hem de o ibadetin gerektirdiği güzel ahlak özelliklerini taşımayanları "Yazıklar olsun" sözünü kinamıştır.

Bu ibadet aşağıdakilerden hangisidir?

- A) Namaz
- B) Oruç
- C) Hac
- D) Zekât

28.Aşağıdakilerden hangisi Kureyş suresinin Türkçe anlamı içinde yer **almamaktadır?**

- A) Bu evin (Kâbe'nin) Rabbine kulluk etsin
- B) Onlar namazlarını ciddiye almazlar.
- C) Kendilerini besleyip açlıklarını gideren ve onları korkudan emin kılan
- D) Onları kışın (Yemen'e) ve yazın (Şam'a) yaptıkları yolculuğa ısındırıp alıştırdığı için

29."Sizin dininiz size, benim dinim de banadır."

Türkçe anlamı verilen ayet aşağıdakilerden hangisinde yer almaktadır?

- A) Nasr
- B) Felak
- C) Nas
- D) Kafirun

30.Allah'ım! Biz yalnız sana kulluk ederiz. Namazı yalnız senin için kılarız, ancak sana secde ederiz.

Aşağıdakilerden hangisinin Türkçe anlamı yukarıdaki şekilde başlamaktadır?

- A) Subhaneke duası
- B) Ayetel kürsi
- C) Kunut duası ikinci bölüm
- D) Kunut duası birinci bölüm

31.Peygamberimizin amcası olmasına rağmen Peygamberimize en çok karşı çıkanlardan olmuş ve İslam'a düşmanlık etmiştir. Bu nedenle Kur'an-ı Kerim'de onun hakkında bir sure indirilmiştir ve orada kendisi Allah tarafından yerilmiştir.

Bu sure aşağıdakilerden hangisidir?

- A) Tebbet
- B) Kafirun
- C) Kureys
- D) Maun

32.

وَالسَّمَاءَ رَفَعَهَا وَوَضَعَ الْمِيزَانَ

Yukarıda altı çizili kelimenin sonunda uygulanması gereken tecvid kuralı aşağıdakilerden hangisidir?

- A) Meddi muttasıl
- B) Meddi tabi
- C) Ihfa
- D) Meddi munfasıl

33.Aşağıdakilerden hangisinde "minel ûlâ – yetîmen – feterzâ" ifadelerinden herhangi birisi **geçmemektedir?**

A)	مَا وَدَّعَكَ رَبُّكَ وَمَا قَلَىٰ
B)	وَلَلْآخِرَةُ خَيْرٌ لَّكَ مِنَ الْأُولَىٰ
C)	وَلَسَوْفَ يُعْطِيكَ رَبُّكَ فَتَرْضَىٰ
D)	أَلَمْ يَجِدْكَ يَتِيمًا فَآوَىٰ

34.Aşağıdaki ayetlerden hangisinin sonunda durulduğunda ayet "zikrak" ifadesi ile bitmektedir?

A)	وَوَضَعْنَا عَنكَ وِزْرَكَ
B)	الَّذِي أَنْقَضَ ظَهْرَكَ
C)	وَرَفَعْنَا لَكَ ذِكْرَكَ
D)	فَإِنَّ مَعَ الْعُسْرِ يُسْرًا

35.Aşağıdaki ayet bölümlerinden hangisi diğer seçeneklerdeki bölümlerden farklı bir sure içinde yer almaktadır?

A)	مِنْ شَرِّ مَا خَلَقَ
B)	فَصَلِّ لِرَبِّكَ وَأَنْحَرْ
C)	وَمِنْ شَرِّ النَّفَّاثَاتِ فِي الْعُقَدِ
D)	وَمِنْ شَرِّ غَاسِقٍ إِذَا وَقَبَ

36. Tabloda Fatıha suresine ait bölümler verilmiştir. Ancak bu bölümlerin sıralanışında bir yanlışlık yapılmıştır.

1	الْحَمْدُ لِلَّهِ رَبِّ الْعَالَمِينَ
2	إِيَّاكَ نَعْبُدُ وَإِيَّاكَ نَسْتَعِينُ
3	مَالِكِ يَوْمِ الدِّينِ
4	الرَّحْمَنِ الرَّحِيمِ
5	اهْدِنَا الصِّرَاطَ الْمُسْتَقِيمَ

Buna göre bölümlerin doğru sıralanması için aşağıdakilerden hangisinin yapılması gerekmektedir?

- A) 2 ve 4. satırlar yer değiştirmelidir.
 B) 3 ve 5. satırlar yer değiştirmelidir.
 C) 1 ve 2. satırlar en sona alınmalıdır.
 D) 5. satır en başa getirilmelidir.

37. "مَا خَلَقَ" ifadesi aşağıdakilerden hangisinin içinde geçmektedir?

- A) İhlas suresi
 B) Felak suresi
 C) Nas suresi
 D) Kevser suresi

38. Kunut duaları iki bölümden oluşmaktadır.

Aşağıdakilerden hangisi Kunut dualarının birinci bölümünde yer almaktadır?

A)	و نُوْمِنُ بِكَ وَ نَتُوْبُ اِلَيْكَ
B)	وَ اِلَيْكَ نَسْعَى وَ نَحْفِدُ
C)	اِنَّ عَذَابَكَ بِالْكَفَّارِ مُلْحَقٌ
D)	نَرْجُو رَحْمَتَكَ وَ نَخْشَى عَذَابَكَ

39.

وَرَحْمَةً اللّٰهِ وَبَرَكَاتُهُ

Tahiyyat duası okuyan bir kimse en son yukarıdaki bölümü okumuştur.

Buna göre bu kişi aşağıdakilerden hangisini önceden okumuş olmalıdır?

A)	أَشْهَدُ أَنْ لَا إِلَهَ إِلَّا اللَّهُ
B)	وَالصَّلَوَاتُ وَالطَّيِّبَاتُ
C)	السَّلَامُ عَلَيْنَا
D)	وَعَلَىٰ عِبَادِ اللَّهِ الصَّالِحِينَ

40.

1	وَتَعَالَىٰ جَدُّكَ
2	وَتَبَارَكَ اسْمُكَ
3	سُبْحَانَكَ اللَّهُمَّ وَبِحَمْدِكَ
4	وَلَا إِلَهَ غَيْرُكَ

Subhaneke duasının bölümlerinin doğru sıralanması için hangi iki satırın karşılıklı olarak yer değiştirmesi gerekir?

- A) 1 - 3
 B) 1 - 4
 C) 2 - 4
 D) 2 - 3

Sınav sona ermiştir. Lütfen Cevaplarınızı Kontrol Ediniz.

A KİTAPÇIĞI			
1. BÖLÜM		2. BÖLÜM	
Soru No	Cevap	Soru No	Cevap
1	A	1	D
2	B	2	C
3	C	3	C
4	A	4	B
5	A	5	A
6	D	6	D
7	C	7	B
8	C	8	D
9	B	9	A
10	A	10	B
11	C	11	A
12	C	12	C
13	D	13	D
14	D	14	B
15	A	15	B
16	D	16	A
17	C	17	D
18	D	18	D
19	B	19	C
20	C	20	C
21	B	21	D
22	A	22	C
23	C	23	B
24	B	24	C
25	B	25	A
26	C	26	B
27	D	27	A
28	B	28	B
29	B	29	D
30	D	30	C
31	A	31	A
32	B	32	B
33	A	33	A
34	D	34	C
35	C	35	B
36	B	36	A
37	A	37	B
38	C	38	A
39	D	39	B
40	B	40	A