



HAFİZİHO

Hafız Yetiştirme ve Akademik Başarıyı Destekleme Projesi

HAFIZ YETİŞTİRME VE AKADEMİK BAŞARIYI DESTEKLEME PROJESİ SEVİYE BELİRLEME SINAVI (06 MAYIS 2017 - 14:30)

Ad - Soyad :
Okul :
Sınıf - No :

ALANLAR	SORU SAYISI	TOPLAM SORU SAYISI	SÜRE
1. BÖLÜM	40	80	100 DAKİKA
2. BÖLÜM	40		

1. Sınav süresince gözetmenlerin uyarılarına dikkat ediniz.
 2. Sınav süresince kitap, sözlük veya elektronik araçları yanınızda bulundurmayınız.
 3. Cevap kağıdındaki bilgilerin doğruluğunu kontrol ediniz.
 4. Kitapçık üzerindeki ad-soyad, sınıf-no, okul bilgileriniz kodlamayı unutmayınız.
 5. Cevap kağıdınız üzerinde bulunan kitapçık türünü doğru kodladığınızdan emin olunuz.
 6. Sınavın değerlendirilmesi optik okuma araçları ve elektronik ortamda yapılacağından ikili veya toplu kopya çekilmesi tespit edilmektedir. Bu gibi durumlarda sınavınız geçersiz sayılacaktır.
 7. Cevap kağıdı üzerinde kurşun kalemle işaretleme yapınız. Değiştirmek istediğiniz cevabınızı yumuşak silgi ile iz bırakmadan siliniz. Cevap kağıdınızı buruşturmayınız ve katlamayınız.
 8. Soru kitapçığınızı sınav başlamadan kontrol ediniz. Eksik sayfa varsa değiştirilmesini isteyiniz.
 9. Sınav bitiminde cevap kağıdınızı teslim etmeyi unutmayınız. Her sorunun bir doğru cevabı bulunmaktadır.
 10. Başlayınız denilmeden kitapçığınızı açmayınız.
 11. Yanlış cevaplar doğru cevapları götürmemektedir.
 12. ÖNEMLİ: TC Kimlik numaranızı cevap formu üzerindeki alana dikkatli kodlayınız.
- © Her hakkı saklıdır. İzinsiz kopyalanamaz, alıntı yapılamaz, yayımlanamaz.

1. Saymak: 1- Bir şeyin kaç tane olduğunu veya miktarını anlamak için bunları birer birer elden veya gözden geçirmek

Saymak sözcüğü aşağıdakilerde hangisinde yukarıda verilen temel anlamında kullanılmamıştır?

- A) Misketlerini saydı ve torbaya koydu.
B) Babasını saymadığı için herkes tarafından ayıplanmıştı.
C) Elindeki paranın ne kadar olduğunu öğrenmek için hemen saymaya başladı.
D) Yere düşen tespih tanelerinin tam olduğunu kontrol etmek için sayıyordu.

2. I- Sevgi

II- Sevinç

III- Sevmek

IV- Sevda

V- Sebep

Verilen sözcüklerin sözlükteki sıralaması aşağıdakilerden hangisidir?

- A) V - IV - I - II - III
B) V - III - II - IV - I
C) III - I - IV - II - V
D) III - V - I - II - IV

3. Cümle içinde eş anlamlı iki kelimenin birlikte kullanılması anlatım bozukluğuna yol açar.

Buna göre aşağıda altı çizili kelimelerden hangisi anlatım bozukluğuna yol açmaktadır?

- A) Okulda her zaman başarısıyla öne çıkmış bir öğrencidir.
B) Çoğu zaman yemekten önce de dişlerini genellikle temizledi.
C) Ara sıra düşüncelerini gizledi.
D) Dün öğleden sonra güzel haberi aldık.

4. Çoğul anlam ifade eden sözcükler genellikle tekil bir kelimenin sonuna -ler veya -lar eklerinden uygun olanının getirilmesiyle elde edilir.

Buna göre aşağıda altı çizili kelimelerden hangisi çoğul anlam ifade etmemektedir?

- A) Güllerin içinde bir de karanfil açmıştı.
B) Çantasındaki kalemler oraya buraya saçıldı.
C) Aileler bu konuda daha dikkatli davranmalı.
D) Eline aldığı bezle her yanı bir çırpıda siler.

5. Doğal güzelliklerimizin farkında mıyız(1) Ülkemizde birbirinden güzel dağlar(2) nehirler(3) ovalar ve koylar var(4)

Metinde rakamlarla gösterilen yerlere sırasıyla gelmesi gereken noktalama işaretleri aşağıdakilerden hangisinde doğru olarak verilmiştir?

	1	2	3	4
A)	.	,	?	,
B)	,	.	.	!
C)	?	,	,	.
D)	:	;	,	,

6. Yapım ekleri, bir kelimeye gelerek onu anlamca farklılaştıran eklerdir. Yapım eki alan kelimenin, bu eki almadan önceki haliyle anlamca ilgisi bulunur. Ancak yapım eki aldıktan sonra anlamı farklılaşır.

Buna göre aşağıda altı çizili kelimelerden hangisi metinde anlatılan konuya örnek gösterilir?

- A) Tatlı bir yiyecek kadar güzel bir şey olur mu?
B) Gece lambası açık olunca uyumak bir hayli zor olur.
C) Deprem haberi her yere hızla yayıldı.
D) Merdiveni sıkı sıkı tutuyorum.

7. Millet olarak beraberce yaşamamızın yolu aynı duyguları hissetmekten geçer. Birlikte sevinmeyi, birlikte üzülmeyi bilmiyorsak beraberce yaşayamayız. Bir şehit haberi duyduğumuzda hep birlikte üzülmür, bilimsel veya sportif bir başarı kazandığımızda hep birlikte seviniriz. Bizi bir arada tutan işte bu duyguların paylaşımıdır.

Metinden aşağıdakilerden hangisi çıkarılamaz?

- A) Sevinçleri birlikte yaşamak bizi birbirimize yakınlaştırır.
B) Üzüntülü durumlarda birbirimize destek olmanın önemi büyüktür.
C) Aynı duyguları hisseden insanlar güçlü bir toplum oluşturur.
D) Sevinçler paylaşılmalı ancak üzüntüler gizli tutulmalıdır.
8. İçinde ağız kelimesi geçen bir deyimdir. Öfkelenerek veya kızarak ağır sözler söylemek anlamına gelir.

Bu deyim aşağıdaki cümlelerden hangisinde bulunmaktadır?

- A) Geldiğinden beri ağızını bıçak açmıyordu.
B) Ben ona hal hatır sordum o ise açtı ağızını yumdu gözünü.
C) Adamın ağızına bakıyor, o ne diyorsa yapıyordu.
D) Ağızıyla kuş tutsa yine de kendini bana affettiremez.
9. I- Gece geç yattığı için sabah uyanamadı.
II-Televizyonda haberleri seyrederken uyu-yakalmışım.
III- Nedense böylesi kötü durumlar hep benim başına geliyor.

Verilen cümlelerden hangisinde neden-sonuç ilişkisi bulunmaktadır?

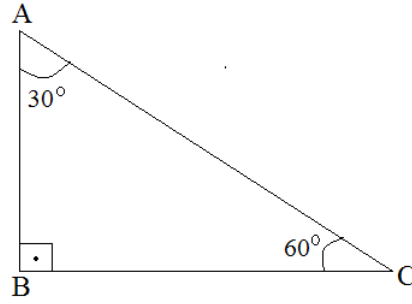
- A) Yalnız I
B) Yalnız III
C) I ve II
D) II ve III

10. (1)Sarı bisikletimi çok severdim. (2)Onu temizler, süslerdim. (3)Diğer çocukların kendi bisikletlerine davrandığı kadar kötü davranmazdım. (4)Üzerine titrer, bir çizik bile olmasına izin vermezdim.

Baş tarafı numaralandırılmış hangi cümlede bir karşılaştırma yapılmıştır?

- A) 1.
B) 2.
C) 3.
D) 4.

11.



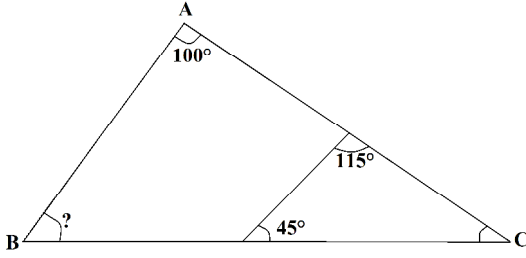
Verilen üçgenin açlarına göre tanımı aşağıdakilerden hangisidir?

- A) Bir açısı geniş açı olduğu için geniş açılı üçgendir.
B) Bir açısı 90 derece olduğu için dik açılı üçgendir.
C) Tüm açıları dar açı olduğu için dar açılı üçgendir.
D) İç açıları toplamı 180 derece olduğu için eşit kenar üçgendir.

12. Aşağıda okunuşları verilen sayılardan en büyük olanı hangisidir?

- A) Beş yüz altmış iki bin beş
B) Beş yüz bin altmış iki
C) Beş bin yüz altmış iki
D) Beş yüz elli altı bin iki yüz beş

13.



Bu üçgende $s(\hat{A}) = 100^\circ$, $s(\hat{D}) = 115^\circ$, $s(\hat{E}) = 45^\circ$ derece olduğuna göre $s(\hat{B})$ açısı kaç derecedir?

- A) 50
- B) 55
- C) 60
- D) 65

14. Mevlüt Bey, maaşının dörtte biri ile ev kirasını ödemektedir. Yine maaşının üçte birini mutfak harcamalarına, beşte birini ise fatura giderlerine ayırmaktadır. Mevlüt Bey'in maaşı 4200 TL'dir.

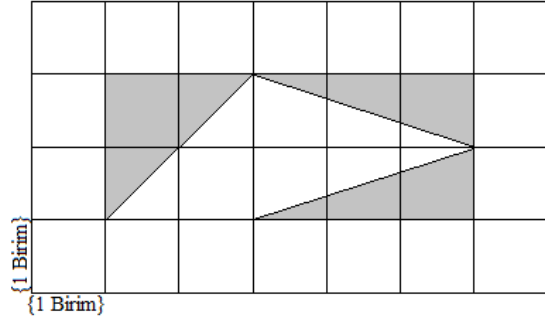
Buna göre Mevlüt Bey'in ay sonunda biriktirmek için elinde kalan para kaç Türk lirasıdır?

- A) 910
- B) 2100
- C) 3620
- D) 3290

15. 154786 sayısının onbinler basamağındaki rakam iki arttırılır, onlar basamağındaki rakam iki azaltılırsa ulaşılabilecek yeni sayı aşağıdakilerden hangisidir?

- A) 354586
- B) 156766
- C) 174586
- D) 174766

16.



Şekildeki boyalı bölgenin alanı kaç birim karedir?

- A) 3
- B) 4
- C) 5
- D) 6

17. Merve 192 sayfalık bir kitabın $\frac{1}{8}$ 'ini Pazar-tesi günü, $\frac{3}{8}$ 'ini Salı günü okumuştur. Çarşamba günü ise bu kitaptan 28 sayfa daha okuyan Merve'nin elindeki kitabı Perşembe günü bitirmesi gerekmektedir.

Buna göre Merve'nin Perşembe günü bu kitabı bitirebilmesi için okuması gereken sayfa sayısı kaçtır?

- A) 96
- B) 72
- C) 68
- D) 56

18. Bir belediye otobüsü başlangıç durağından hareket ettikten 6 dakika 14 saniye sonra bir sonraki durağa gitmektedir. Bu otobüs ikinci durağa önceki duraktan 7 dakika 47 saniye sonra ulaşmaktadır.

Otobüsün bu duraklar arasında yolda kaldığı toplam süre aşağıdakilerden hangisidir?

- A) 14 dakika 1 saniye
B) 13 dakika 1 saniye
C) 14 dakika 11 saniye
D) 13 dakika 51 saniye

19.

I	II	III	IV
$\frac{3}{13}$	$\frac{3}{11}$	$\frac{3}{15}$	$\frac{3}{8}$

Tablodaki kesirlerin büyükten küçüğe sıralanışı aşağıdakilerden hangisinde gösterilmiştir?

- A) I > III > IV > II
B) IV > II > I > III
C) I > II > IV > III
D) IV > III > II > I

20.

$$\begin{array}{r} \text{---} \text{---} \text{---} \text{---} | 14 \\ \text{---} \text{---} \text{---} \text{---} | 11 \\ \hline 06 \end{array}$$

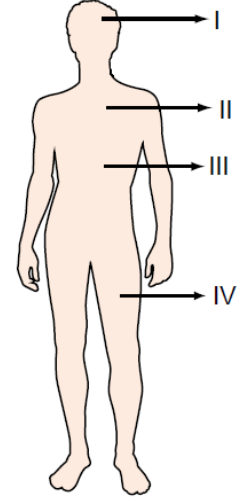
Verilen bölme işleminde bölünen aşağıdakilerden hangisidir?

- A) 150
B) 160
C) 166
D) 172

21.



Şekil I



Şekil II

Şekil I'deki kemikler vücudumuzun en kısa kemiklerindedir.

Şekil I'de gösterilen kemik çeşidi şekil II'de verilen modelde vücudumuzun hangi bölümünde yer almaktadır?

- A) I
B) II
C) III
D) IV

22. Soluk alıp verirken vücudumuzda meydana gelen değişiklikler ve doğru soluk alıp verme hakkında aşağıdakilerden hangisi doğru değildir?

- A) Soluk alıp vermede diyafram ve göğüs kaslarının etkisi vardır.
B) Soluk alma sırasında diyafram kasılınca göğüs genişler.
C) Soluk verme sırasında göğüs kafesindeki kaslar gevşer ve göğüs daralır.
D) Doğru solunum burundan soluk alıp burundan soluk verme ile gerçekleşir.

23. I-Kalbin kasılıp gevşerken pompalanan kanın damarlarda oluşturduğu etkiye nabız adı verilir.

II- Dinlenme sırasında bebeklerin dakikada atan nabız sayısı yetişkinlerden azdır.

III- Heyecanlanıldığında nabız atış sayısı azalır.

Nabız ile ilgili verilen bu bilgilerden hangisi doğrudur?

- A) Yalnız I
- B) Yalnız III
- C) I ve II
- D) II ve III

24. Ceren yeni alınan oyun hamurunu kutusundan çıkardı. Renkli hamurları eline alarak avuçları içinde bastırdı. Farklı renklerdeki hamurlardan küçük oyuncaklar yaptı.

Metinde kuvvet ve hareket konusunda verilen örneğin açıklaması aşağıdakilerden hangisidir?

- A) Hareket yönünden farklı bir yönde uygulanan kuvvet varlıkların yönünü değiştirebilir.
- B) Duran bir cisme uygulanan kuvvet hareketlenmesini sağlayabilir.
- C) Bir maddeye yeteri kadar kuvvet uygulanırsa maddenin şekli veya görünümü değişir.
- D) Hareket eden bir cisme hareketin tersi yönünde uygulanan kuvvet onun durmasına neden olabilir.

25.

	A mıknatısı	B mıknatısı
I		
II		
III		
IV		

Kamil elindeki iki mıknatıstan birini yere koydu. Diğer mıknatısı ona yaklaştırdığında yerdeki mıknatısı ittiğini gördü.

Kamil'in elindeki mıknatısı A mıknatısı, diğer mıknatısı B mıknatısı olarak kabul edersek iki mıknatısın yan yana görüntüsünün tablodakilerden hangisi olduğu söylenebilir?

- A) I ve II
- B) I ve III
- C) II ve III
- D) II ve IV

26. Havalarda ısınmasıyla okul bahçesine yapılan dev kardan adam erimeye başlamıştı. Bir süre sonra kardan adamdan geriye büyük bir su birikintisi kaldı.

Bu örnek aşağıdaki olaylardan hangisi ile ilgilidir?

- A) Maddenin hal değişimi
- B) Maddenin parçalanmış hali
- C) Gaz halindeki maddenin bulunduğu yerin şeklini alması
- D) Sıvı maddenin belli ısıda buharlaşması

27. Üç öğrenci bir mıknatısı ellerindeki nesnelere yaklaştırdığında sırayla şunları gözlemlediler:

Emin: Elimdeki nesne mıknatıs tarafından **çekildi**.

Hakan: Elimdeki nesne mıknatıs tarafından **çekilmedi**.

Mevlüt: Elimdeki nesne mıknatıs tarafından **çekildi**.

Buna göre üç öğrencinin ellerindeki nesnelerin ne olduğu aşağıdakilerden hangisinde doğru olarak verilmiştir?

	Emin'in elindeki nesne	Hakan'ın elindeki nesne	Mevlüt'ün elindeki nesne
A)	Toplu iğne	Demir bilye	Tahta kaşık
B)	Demir bilye	Toplu iğne	Tahta kaşık
C)	Tahta kaşık	Toplu iğne	Demir bilye
D)	Demir bilye	Tahta kaşık	Toplu iğne

28. Birden fazla maddenin birleşimiyle ortaya çıkan maddeler topluluğuna karışım adı verilir. Karışımı oluşturan maddeleri her zaman gözümüzle görmemiz mümkün olmaz.

Aşağıdakilerden hangisi metinde anlatılan karışım çeşidine örnek gösterilemez?

- A) Şekerli çay
- B) Deniz suyu
- C) Salata
- D) Limonata

29.



Görseldeki nesne pek çok kişinin evinde bulunabilmektedir. Çay demlendikten sonra çay yapraklarının bardağa çay ile dökülmesini engellemek için kullanılmaktadır.

Buna göre çay yaprağı su karışımı birbirinden aşağıdaki hangi işlemle ayrılmaktadır?

- A) Yüzdürme
- B) Eleme
- C) Batırma
- D) Süzme

30. I- İnsanların gözlerini kamaştırarak şekilde yerleştirilmiş ışık kaynakları ışık kirliliğine neden olur.

II- Yol kenarlarında ağaç dikilmesi ses kirliliğinin artmasına neden olur.

III- Stadyumlardaki ışıklandırma, gökyüzüne çevrilmiş bir projektör, ışığın doğru kullanımına ait örneklerdendir.

Bu yargılara ait doğru yanlış sıralaması aşağıdakilerden hangisinde verilmiştir?

	I	II	III
A)	Doğru	Yanlış	Doğru
B)	Yanlış	Yanlış	Doğru
C)	Doğru	Yanlış	Yanlış
D)	Yanlış	Doğru	Yanlış

31. Ülkemiz son yıllarda ulaşım alanında önemli yatırımlar yaptı. Yakın zamanda temelleri atılan ve Gelibolu Yarımadasını Anadolu'ya bağlayacak olan köprümüz tamamlandığında dünyanın en uzun asma köprüsü unvanını alacaktır. Temellerinin atıldığı tarih olarak 18 Mart 2017 günü seçilmiş olup bu tarih özellikle belirlenmiştir. Çünkü bu tarih 1915 yılında aynı bölgede gerçekleşmiş büyük bir zaferimizin de tarihidir.

Metinde dikkat çekilen zaferimiz aşağıdakilerden hangisidir?

- A) Büyük Taarruz
- B) Sakarya Meydan Savaşı
- C) Çanakkale Deniz Zaferi
- D) I. İnönü Savaşı

32. Mehmet;

I- Sarı saçlı

II- Mavi gözlü

III- Arkadaş canlısı

IV- Neşeli

Bir öğrenciydi.

Verilen özelliklerin hangilerinin fiziksel hangilerinin duygusal olduğunu gösteren tablo aşağıdakilerden hangisidir?

	Fiziksel	Duygusal
A)	Sarı saçlı, Neşeli	Mavi gözlü, Arkadaş canlısı

	Fiziksel	Duygusal
B)	Sarı saçlı, Mavi gözlü	Neşeli, Arkadaş canlısı

	Fiziksel	Duygusal
C)	Neşeli, Arkadaş canlısı	Sarı saçlı, Mavi gözlü

	Fiziksel	Duygusal
D)	Mavi gözlü, Neşeli	Sarı saçlı, Arkadaş canlısı

33. Aşağıdaki yargılardan hangisinde herhangi bir duygu ifade edilmemiştir?

- A) Merve'nin ablası sınavı geçtiği için sevinçliydi.
- B) Selin, arkadaşları kendisini ziyaret etmediği için üzgündü.
- C) Mehmet, üzeri kirlendiği için mutsuzdu.
- D) Mesut, saçlarını taradı ve tarağı aynanın önüne bıraktı.

34. Arkadaşımla aynı fikirde değilim. Ancak onun da düşüncesini özgürce söylemesi gerektiğini düşünüyorum. Mutlaka benimle aynı düşüncede olması gerekmiyor. Ayrıca düşüncesini zorla değiştirmeye çalışmak da doğru olmaz.

Metinde aşağıdaki durumlardan hangisine dikkat çekilmemiştir?

- A) Maddi yardımlaşma
- B) Fikir özgürlüğü
- C) Hoşgörü
- D) Başkalarına saygı

35. I- Açık alanda atlar üzerinde oynanır. Oyuncular at üzerinde bir rakip oyuncunun adını söyleyerek attığı değneği rakibine değdirmeye çalışır.

II- Ata sporumuz olarak bilinir. Tarihi çok eskilere dayanır. Bu sporu yapan kişilere pehlivan adı verilir.

III- Geleneksel tiyatromuz içinde gölge oyunu olarak bilinir. Eskiden ramazan gecelerinin vazgeçilmez eğlencesi olarak bilinmektedir. Işıklandırılmış bir perde üzerinde deriden çizilmiş figürlerin çubuklara tutturularak hareket ettirilmesi ve seslendirilmesiyle yapılır.

Yukarıda kültürümüzde önemli yeri olan aşağıdaki hangi oyun ile ilgili bilgi verilmemiştir?

- A) Karagöz – Hacivat
- B) Cirit
- C) Meddahlık
- D) Güreş

36. Osmanlı Devleti I. Dünya Savaşı'ndan yenik çıkmış ve İtilaf Devletleri ile bir ateşkes imzalamak zorunda kalmıştı. Bu ateşkes Osmanlı Devleti ile ilgili çok ağır kararlar içermekteydi. Örneğin Boğazlar üzerinde egemenlik hakkımız kalmamış, ordumuzun dağıtılmasına karar verilmişti. Bazı maddelere göre ise yurdumuz kolayca işgal edilebilecekti. Nitekim kısa zaman içinde işgaller başlayacaktı.

Metinde açıklanan ateşkes antlaşmasının adı aşağıdakilerden hangisidir?

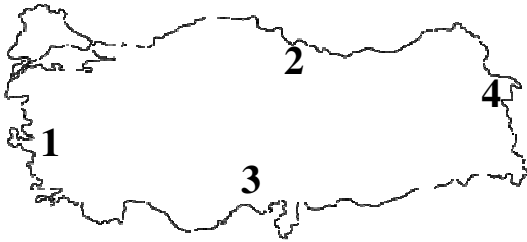
- A) Mondros
B) Lozan
C) Mudanya
D) Sevr

37. Mustafa Kemal Atatürk'ün "Hattı müdafaa yoktur, sathı müdafaa vardır. O satıh, bütün vatandır. Vatanın her karış toprağı, vatan-daş kaniyle ıslanmadıkça terk edilemez." diyerek komuta ettiği savaştır. 22 gün 22 gece sürmüştür. Bu savaş sonunda Mustafa Kemal'e mareşallik rütbesi ve Gazilik unvanı verilmiştir.

Metinde açıklanan savaş aşağıdakilerden hangisidir?

- A) Başkomutanlık Meydan Savaşı
B) Sakarya Meydan Savaşı
C) Eskişehir-Kütahya Savaşı
D) II. İnönü Savaşı

38.



Samsun, ülkemizin kuzeyindeki şehirlerdendir. Bölgenin en gelişmiş şehri olan Samsun aynı zamanda Kurtuluş Savaşımızın başladığı şehir olarak bilinir.

Buna göre Samsun'un coğrafi konumu Türkiye haritasındaki hangi rakamla ifade edilmektedir?

- A) 1
B) 2
C) 3
D) 4

39. I- Çevresine göre daha yüksek olan yeryüzü şekilleridir.

II- Belirli bir yatak içinde, eğim boyunca sürekli veya zaman zaman akan sudur.

III- Deniz ya da göl suları ile çevrilmiş kara parçalarıdır.

Aşağıdakilerden hangisi yukarıda tanımları verilen yer şekillerine ait bir örnek değildir?

- A) Heybeliada
B) Ağrı Dağı
C) Kızılırmak
D) Kocaeli Körfezi

40. Hammaddem buğdaydır. Önce fabrikalarda un haline gelirim. Daha sonra farklı şekillerde sofralarda yer alırım.

Metinde konuşturulan yiyecek çeşidi aşağıdakilerden hangisidir?



A)

Makarna



B)

Süt



C)

Peynir



D)

Zeytin

1. BÖLÜM BITMİŞTİR. LÜTFEN DİĞER TESTE GEÇİNİZ.

1. Meddi Munfasıl: Med harfinden sonra hemze gelir ve hemze ile med ayrı kelimelerde bulunursa medd-i munfasıl olur. Bu durumda genellikle hemze uzun hemze şeklinde yazılır.

Aşağıdaki ayetlerden hangisinde altı çizili bölümde bu kurala ait bir örnek bulunmaktadır?

A)	بِسْمِ اللَّهِ الرَّحْمَنِ الرَّحِيمِ
B)	خَتَمَ اللَّهُ عَلَى قُلُوبِهِمْ وَعَلَى سَمْعِهِمْ وَعَلَى أَبْصَارِهِمْ غِشَاوَةٌ وَلَهُمْ عَذَابٌ عَظِيمٌ
C)	أُولَئِكَ الَّذِينَ اشْتَرُوا الضَّلَالََةَ بِالْهُدَىٰ فَمَا رَبِحَتْ تِجَارَتُهُمْ وَمَا كَانُوا مُهْتَدِينَ
D)	اللَّهُ يَسْتَهْزِئُ بِهِمْ وَيَمُدُّهُمْ فِي طُغْيَانِهِمْ يَعْمَهُونَ

2.

1	سَيَصْلَىٰ نَارًا ذَاتَ لَهَبٍ
2	مَا آغْنَىٰ عَنْهُ مَالُهُ وَمَا كَسَبَ
3	وَأَمْرَاتُهُ حَمَّالَةَ الْحَطَبِ
4	تَبَّتْ يَدَا أَبِي لَهَبٍ وَتَبَّ
5	فِي جِيدِهَا حَبْلٌ مِّن مَّسَدٍ

Tabloda Lehep suresinin ayetleri karışık olarak verilmiştir. Ayetleri doğru sıralamak için bazılarının yerlerinin değiştirilmesi gerekmektedir.

Buna göre aşağıdakilerden hangisi ayetlerin doğru sıralanması için yapılması gerekenlerden biri değildir?

- A) 4. Satırdaki ayet en başa alınmalıdır.
 B) 5. Satırdaki ayetin yeri değiştirilmemelidir.
 C) 2. Satırdaki ayet olduğu yerde bırakılmalıdır.
 D) 1. Satırdaki ayet en sona konulmalıdır.

3.

وَلَمْ يَكُنْ لَهُ كُفُوًا أَحَدٌ	إِنَّ الْإِنْسَانَ لَفِي خُسْرٍ
اللَّذِي جَمَعَ مَالًا وَعَدَّدَهُ	لَمْ يَلِدْ وَلَمْ يُولَدْ

Tabloda yalnızca İhlas suresinde bulunan ayetlerin olduğu bölümleri boyadığımızda ortaya çıkacak görüntü aşağıdakilerden hangisidir?

A)

B)

C)

D)

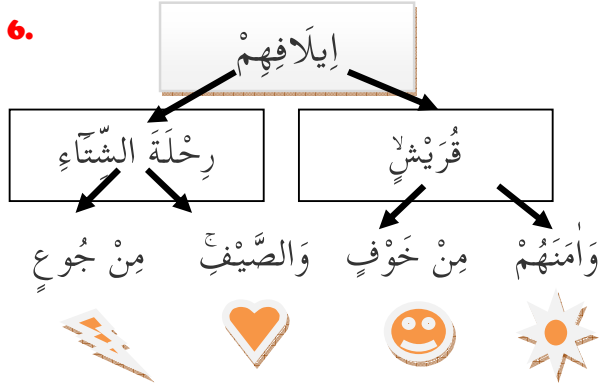
4. Aşağıdaki ayetlerden hangisi diğer seçeneklerdeki ayetlerle aynı sure içinde yer almamaktadır?

A)	حَتَّىٰ زُرْتُمُ الْمَقَابِرَ
B)	وَأَرْسَلَ عَلَيْهِمْ طَيْرًا أَبَابِيلَ
C)	أَلَمْ يَجْعَلْ كَيْدَهُمْ فِي تَضْلِيلٍ
D)	أَلَمْ تَرَ كَيْفَ فَعَلَ رَبُّكَ بِأَصْحَابِ الْفِيلِ

5. İçinde "كُلُّهُ نَشْكُرُكَ وَ لَا نَكْفُرُكَ" ifadesi aşağıdakilerden hangisinde geçmektedir?

- A) Amenerrasûlü B) Ayetul Kursi
C) Tahiyat duası D) Kunut duası

6.



Baş tarafı en üstteki kutuda verilen ifadeyle başlayan ayetin devamına göre şemada takip edilmesi gereken sıralamanın sonunda ulaşılan şekil aşağıdakilerden hangisidir?

- A) B)
C) D)

7. Mehmet internetten Kunut duasının ikinci bölümünü dinliyordu. Dinlemeyi durdurduğunda en son "وَ إِلَيْكَ نَسْعَى وَ نَحْفِدُ" ifadesini duymuştu.

Buna göre Mehmet'in kaldığı yerden sonrasında aşağıdaki ifadelerden hangisi söylenmez?

A)	نَرْجُو رَحْمَتَكَ
B)	وَ لَكَ نُصَلِّي وَ نَسْجُدُ
C)	إِنَّ عَذَابَكَ بِالْكَفَّارِ مُلْحِقٌ
D)	وَ نَخْشَى عَذَابَكَ

8.

1	أَرَأَيْتَ الَّذِي يُكَذِّبُ بِالذِّينِ
2	فَوَيْلٌ لِلْمُصَلِّينَ
3	وَلَا يَحْضُ عَلٰى طَعَامِ الْمَسْكِينِ
4	فَذٰلِكَ الَّذِي يُدْعُ الْيَتِيْمَ
5	الَّذِيْنَ هُمْ عَنْ صَلَاتِهِمْ سَاهُوْنَ

Tabloda karışık verilen surenin ilk beş ayetini doğru ezberlemek isteyen bir kimse iki ayetin sırasının yanlış olduğunu fark etti.

Buna göre ezberin doğru olması için hangi iki ayetin sırası karşılıklı olarak yer değiştirmelidir?

- A) 1 - 3 B) 3 - 5
C) 2 - 4 D) 3 - 4

9.

1	وَ تَكُوْنُ الْجِبَالُ كَالْعِهْنِ الْمَنْفُوشِ
2	حَتَّىٰ زُرْتُمُ الْمَقَابِرَ
3	كَأَلَّا سَوْفَ تَعْلَمُوْنَ
4	فَأُمُّهُ هَاوِيَةٌ

Verilen ayetlerden hangi ikisi aynı sure içinde ardı ardına yer almaktadır?

- A) 1 - 3 B) 2 - 3
C) 2 - 4 D) 3 - 4

10.

	SALLİ	BARİK
اللَّهُمَّ بَارِكْ عَلَى مُحَمَّدٍ وَعَلَى آلِ مُحَمَّدٍ		
كَمَا بَارَكْتَ عَلَى إِبْرَاهِيمَ		
إِنَّكَ حَمِيدٌ مَجِيدٌ		
اللَّهُمَّ صَلِّ عَلَى مُحَمَّدٍ وَعَلَى آلِ مُحَمَّدٍ		

Tabloda verilen ifadelerin hangisinin Salli, hangisinin Barik duası içinde yer aldığını işaretlememiz gerekmektedir. Bir ifade her ikisinde de geçiyorsa iki dua birlikte işaretlenebilir.

Buna göre tablonun doğru işaretlenmiş hali aşağıdakilerden hangisidir?

A)

SALLİ	BARİK
	X
	X
X	X
X	

B)

SALLİ	BARİK
	X
X	X
X	
X	

C)

SALLİ	BARİK
	X
	X
X	
X	X

D)

SALLİ	BARİK
	X
X	
X	X
X	

11. Selin, namaz dualarından birini ezbere okuyordu. Ancak duanın ... السَّلَامُ عَلَيْكَ ... bölümünden sonrasını hatırlayamadı.

Buna göre Selin, okuduğu duaya aşağıdaki hangi ifadeyi okuyarak devam etmelidir?

A)	وَالصَّلَوَاتُ
B)	أَيُّهَا النَّبِيُّ وَرَحْمَةُ اللَّهِ وَبَرَكَاتُهُ
C)	وَعَلَى عِبَادِ اللَّهِ الصَّالِحِينَ
D)	وَالطَّيِّبَاتُ

12. Fatıha suresini doğru okuyan bir kimse aşağıdaki ayetlerden hangisini **söylemez**?

A)	إِيَّاكَ نَعْبُدُ وَإِيَّاكَ نَسْتَعِينُ
B)	الرَّحْمَنِ الرَّحِيمِ
C)	مَالِكِ يَوْمِ الدِّينِ
D)	ذَلِكَ الْكِتَابُ لَا رَيْبَ فِيهِ هُدًى لِّلْمُتَّقِينَ

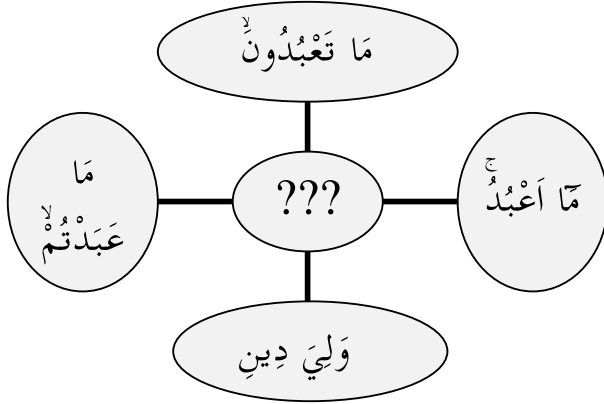
13.

SURE ADI	SON AYETİ
MAUN
İHLAS
KEVSER

Tablodaki surelerin son ayetlerini karşılıklarına yazmamız istenseydi aşağıdakilerden hangisi bu tabloda kullanılmazdı?

A)	إِنَّ شَانِئَكَ هُوَ الْأَبْتَرُ
B)	وَيَمْنَعُونَ الْمَاعُونَ
C)	وَلَمْ يَكُنْ لَهُ كُفُوًا أَحَدٌ
D)	فَسَبِّحْ بِحَمْدِ رَبِّكَ وَاسْتَغْفِرْهُ إِنَّهُ كَانَ تَوَّابًا

14.



Ayetlerinin sonundaki ifadeleri yukarıdaki şemada verilen sure aşağıdakilerden hangisidir?

- A) Felak suresi
- B) Kafirun suresi
- C) Nas suresi
- D) Nasr suresi

15. Merve Tahiyat duasını, Betül ise Amentü'yü ezberlemeye çalışıyordu. Birbirlerine çalıştıkları ezberi dinletmeye karar verdiler. Ezberlerini birbirlerine okuduklarında iki duanın da aynı şekilde sonlandığını fark ettiler.

Buna göre Merve ve Betül'ün dikkatini çeken bu son bölüm aşağıdakilerden hangisidir?

A)	وَقِنَا عَذَابَ النَّارِ
B)	وَلَا إِلَهَ غَيْرِكَ
C)	أَشْهَدُ أَنْ لَا إِلَهَ إِلَّا اللَّهُ وَأَشْهَدُ أَنَّ مُحَمَّدًا عَبْدُهُ وَرَسُولُهُ
D)	إِنَّكَ حَمِيدٌ مَجِيدٌ

16.

1	مَنْ ذَا الَّذِي يَشْفَعُ عِنْدَهُ إِلَّا بِإِذْنِهِ
2	اللَّهُ لَا إِلَهَ إِلَّا هُوَ الْحَيُّ الْقَيُّومُ
3	لَا تَأْخُذُهُ سِنَّةٌ وَلَا نَوْمٌ
4	يَعْلَمُ مَا بَيْنَ أَيْدِيهِمْ وَمَا خَلْفَهُمْ
5	لَهُ مَا فِي السَّمَوَاتِ وَمَا فِي الْأَرْضِ

Verilenlerin doğru sıralaması aşağıdakilerden hangisidir?

- A) 2 - 3 - 5 - 1 - 4
- B) 1 - 2 - 3 - 4 - 5
- C) 2 - 4 - 5 - 1 - 3
- D) 3 - 4 - 5 - 1 - 2

17.

1	... بِرَبِّ النَّاسِ
2	... النَّاسِ
3	... النَّاسِ

Tabloda Nas suresinin ilk üç ayetinin son bölümleri yer almaktadır. Bu ayetlerin başlangıç bölümleri ise üç nokta ile gösterilmiştir.

Aşağıdakilerden hangisi tabloda verilen ayetlerin başlangıç bölümlerinden biri değildir?







A)	قُلْ أَعُوذُ
B)	مِنْ شَرِّ
C)	مَلِكِ
D)	إِلَهٍ

18. Tenvin veya sakin nun'dan sonra izhar harfleri dediğimiz harflerden biri geldiğinde nun harfi ğunnesiz olarak okunur. Bu tecvid kuralına da izhar adı verilir.

























Buna göre aşağıda altı çizili bölümlerden hangisinde bu kurala ait bir örnek bulunmaktadır?

A)	لَا أَعْبُدُ مَا تَعْبُدُونَ
B)	لَا يَلْفِ قُرَيْشٍ
C)	إِذَا جَاءَ نَصْرُ
D)	وَلَمْ يَكُنْ لَهُ كُفُوًا أَحَدٌ

19.

	إِذَا وَقَبٌ		مِنْ شَرِّ
	مَا خَلَقَ		وَمِنْ شَرِّ غَاسِقٍ
	بِرَبِّ الْفَلَقِ		قُلْ أَعُوذُ

Yukarıdaki tabloda Felak suresinin ilk üç ayeti yer almaktadır. Sağ sütundaki ifadelerin devamını soldaki sütundan okuduğumuzda ifadelerin yanlarındaki şekillerin doğru eşlendirilmesi aşağıdakilerden hangisidir?

A)	 	 	 
B)	 	 	 
C)	 	 	 
D)	 	 	 

20.

اِقْرَأْ بِاسْمِ رَبِّكَ الَّذِي خَلَقَ
اِنَّا أَنْزَلْنَاهُ فِي لَيْلَةِ الْقَدْرِ
لَمْ يَكُنِ الَّذِينَ كَفَرُوا مِنْ أَهْلِ الْكِتَابِ وَالْمُشْرِكِينَ مُنْفَكِّينَ حَتَّى تَأْتِيَهُمُ الْبَيِّنَةُ

Verilenler içinde ilk ayeti bulunmayan sure aşağıdakilerden hangisidir?

- A) İnşirah suresi B) Alak suresi
C) Kadir suresi D) Beyyine suresi

21. Aşağıdakilerden hangisinin içinde "hümezetin - ve addedeh - mâ lehû" ifadelerinden biri geçmemektedir?

A)	كَلَّا لَيُنْبَذَنَّ فِي الْحُطَمَةِ
B)	الَّذِي جَمَعَ مَالًا وَعَدَّدَهُ
C)	يَحْسَبُ أَنَّ مَالَهُ أَخْلَدَهُ
D)	وَيْلٌ لِّكُلِّ هُمَزَةٍ لُّمَزَةٍ

22. Rabbenâ dualarını doğru okuyan bir kimse bu dualar içinde "haseneten" kelimesini kaç defa söylemiş olmalıdır?

- A) 1 B) 2
C) 3 D) 4

23. Fatiha suresinin anlamını doğru ezberleyen bir kimse aşağıdaki hangi duanın sure içinde geçtiğini öğrenmiş olmalıdır?

- A) Bize sabır ve dayanma gücü ver!
B) Bizi doğru yola ilet!
C) Hastalarımıza şifalar ver!
D) Günahlarımızı bağışla!

24. "Selam, kelamdan önce gelir." (Tirmizi)

Hadisi açıklayan yargı aşağıdakilerden hangisidir?

- A) Küçükler büyüklerine selam vermelidir.
- B) Selam, en güzel şekilde verilmelidir.
- C) Konuşmaya başlamadan önce selam verilmelidir.
- D) Selamdan önce hal hatır sorulmalıdır.

25. Namaz, İslam'ın en çok önem verdiği ibadet sayılabilir. Kişiyi doğru yola iletmeli, hatalardan uzaklaştırmalıdır. Bir kimse hem namaz kılarak Allah'ın huzuruna çıkar hem de kötü işler yapmaya devam ederse kıldığı namazın önemini anlamamış olur. Böyle kimselere Kur'an-ı Kerim'de namazdan gafil oldukları için yazıklar olsun diye hitap edilmektedir.

Bu metnin sonunda dikkat çekilen sure aşağıdakilerden hangisidir?

- A) Fatiha
- B) Felak
- C) İhlas
- D) Maun

26. Kur'an-ı Kerim'de "ra" harfinin okunuşunun kendine özgü kuralları vardır. Çünkü bazı harfler kalın bazı harfler ince okunurken "ra" harfi bazı durumlarda kalın bazı durumlarda ince okunur. Örneğin;

"Ra" harfi, ötre ya da üstünlü olursa kalın okunur.

"Ra" harfi, esreli olursa ince okunur.

Buna göre aşağıdaki ayetlerden hangisinde ince okunması gereken bir "râ" bulunmaktadır?

A)	وَمِنَ النَّاسِ مَن يَقُولُ آمَنَّا بِاللَّهِ وَبِالْيَوْمِ الْآخِرِ وَمَا هُمْ بِمُؤْمِنِينَ
B)	ذَلِكَ الْكِتَابُ لَا رَيْبَ فِيهِ
C)	ثُمَّ رَدَدْنَاهُ أَسْفَلَ سَافِلِينَ
D)	أُولَئِكَ عَلَى هُدًى مِنْ رَبِّهِمْ وَأُولَئِكَ هُمُ الْمُفْلِحُونَ

27. Aşağıdakilerden hangisi Allah'ın, Ayetel Kürsi içinde anlatılan özelliklerinden **değildir?**

- A) Kendisinden başka ilah olmaması
- B) Uyumaması ve uyuklamaması
- C) Göklerde ve yerdeki her şeyin O'nun olması
- D) İnsanları hesaba çekmesi ve cezalandırması

28. "Müslüman, elinden ve dilinden Müslümanların zarar görmediği kimsedir." (Tirmizi)

Bu hadisten aşağıdakilerden hangisi çıkarılamaz?

- A) Müslüman olduğunu söyleyen bir kimse kötülükten uzak durmalıdır.
- B) Yaptıklarımızla başkalarına zarar vermemeliyiz.
- C) Herkesten farklı bir düşünceye sahip olmamalıyız.
- D) Başkalarına karşı kötü söz kullanmamalıyız.

29. "De ki: "Sabahın (Felakın) Rabbine sığınırım;"

Bu ayetle başlayan sure içinde aşağıdaki ayet meallerinden hangisi bulunmamaktadır?

- A) Yarattığı şeylerden gelebilecek kötülüklerden
- B) Nihayet o gün nimetlerden elbette sorguya çekileceksiniz.
- C) Karanlığı çöktüğü zaman gecenin şerrinden
- D) Düşümlere üfürenlerin şerrinden

30.

فِيهَا عَيْنٌ جَارِيَةٌ
فِيهَا سُرْرٌ مَرْفُوعَةٌ
وَأَكْوَابٌ مَوْضُوعَةٌ
وَنَمَارِقٌ مَصْفُوفَةٌ
وَزَرَائِبِيٌّ مَبْنُوثَةٌ

Tabloda "Ve ekvâbün mevzûatün" ayetinden önce yer alan ayet aşağıdakilerden hangisidir?

A)	فِيهَا سُرْرٌ مَرْفُوعَةٌ
B)	وَزَرَائِبِيٌّ مَبْنُوثَةٌ
C)	فِيهَا عَيْنٌ جَارِيَةٌ
D)	وَنَمَارِقٌ مَصْفُوفَةٌ

31. Sınıfta namazda okunan kısa surelerden birinin Türkçe anlamı okunuyordu. Bir öğrenci şu ayetin anlamını söyledi: "Ben sizin tapmakta olduğunuz şeylere tapmam."

Buna göre bu öğrencinin surenin devamında aşağıdakilerden hangisini söylemesi beklenmez?

- A) Siz de benim taptığıma tapıyor değilsiniz.
- B) De ki: Ey inkârcılar!
- C) Sizin dininiz size, benim dinim banadır.
- D) Ben sizin taptıklarınıza tapacak değilim.

32. Allahım! Senden yardım isteriz, günahlarımızı bağışlamamı isteriz, razı olduğun şeylere hidayet etmeni isteriz...

Allahım! Biz yalnız sana kulluk ederiz. Namazı yalnız senin için kılarız, ancak sana secde ederiz...

Türkçe anlamlarının baş tarafları yukarıda verilen ve namazda okunan dua aşağıdakilerden hangisidir?

- A) Salli – Barik
- B) Rabbena duaları
- C) Kunut duaları
- D) Tahiyat

33. Nas suresinin anlamını doğru öğrenen bir kimse aşağıdakilerden hangisi için bu sureyle Allah'a sığınması gerektiğini öğrenmiştir?

- A) Sinsi vesvesecinin şerrinden
- B) Rızkının azaltılmasında
- C) Başına kötü bir kaza gelmesinden
- D) Unutkanlık ve ihtiyarlıktan

34. Kur'an-ı Kerim'in ilk ayetidir. Her şeye olduğu gibi Kur'an-ı Kerim'i okumaya da onunla başlarız.

Hakkında bilgi verilen ifade aşağıdakilerden hangisidir?

- A) Elhamdülillahi Rabbil alemin
- B) Bismillahirrahmanirrahim
- C) La ilahe illallah
- D) Allahu ekber ve lillahil hamd

35. Peygamberimizin bir amcası vardı. Peygamberimiz ne zaman İslam'ı yaymak için bir çalışma yapsa hemen karşı çıkar, insanları İslam'a girmekten uzaklaştırmaya çalışırdı. Her fırsatta Peygamberimizin başarısız olması için uğraşırdı. Bu nedenle Kur'an-ı Kerim'de özel olarak kötülenmiş ve azap içinde kalacağı belirtilmiştir.

Bu durumun Kur'an-ı Kerim'de anlatıldığı sure aşağıdakilerden hangisidir?

- A) Kafirun
- B) Fil
- C) Maun
- D) Lehep

36. Nasr suresinin anlamı: Allah'ın ve gerçekleştiğinde; Ve insanların akın akın Allah'ın dinine girdiğini gördüğünde; Rabbine hamdederek şanınin yüceliğini dile getir ve O'ndan af dile; şüphesiz O, tövbeleri çok kabul edendir.

Boş bırakılan yerlere sırasıyla aşağıdakilerden hangisi getirilmelidir?

- A) yardımı – fethi
- B) nimeti – şükürü
- C) emri – dini
- D) vahyi – peygamberliği

37. İki ayetin Türkçe anlamı "Onların planlarını boşa çıkarmadı mı? Onların üzerine pişkin tuğladan yapılmış taşlar yağdıran sürü sürü kuşlar salmadı mı?" şeklindedir.

İki ayeti yukarıda verilen bu sure aşağıdaki hangi ayetle başlamaktadır?

A)	الْحَمْدُ لِلَّهِ رَبِّ الْعَالَمِينَ
B)	قُلْ يَا أَيُّهَا الْكَافِرُونَ
C)	إِذَا جَاءَ نَصْرُ اللَّهِ وَالْفَتْحُ
D)	أَلَمْ تَرَ كَيْفَ فَعَلَ رَبُّكَ بِأَصْحَابِ الْفِيلِ

38. Surenin adı "Açan, açılış" anlamına gelmektedir. Kur'an-ı Kerim'in başında yer alır. Yeni ayettir.

Hakkında bilgi verilen sure aşağıdakilerden hangisidir?

- A) Alak
- B) Fatih
- C) Yasin
- D) İhlas

39. Aşağıdakilerden hangisi Kureyş suresinin Türkçe anlamı içinde yer almaz?

- A) Kureyş'in güvenliğini sağlamak için
- B) Onlar da kendilerini besleyip açıklarını gideren ve her çeşit korkudan emin kılan şu evin rabbine kulluk etsinler.
- C) Şüphesiz biz sana bitip tükenmez nimetler verdik.
- D) Onların kış ve yaz yolculuklarında güvenliğini sağlamak için (Allah lutuflarda bulundu)

40. Aşağıdaki ayetlerden hangisi "evhâlehâ" ifadesi ile bitmektedir?

A)	بَانَ رَبُّكَ أَوْحَىٰ لَهَا
B)	يَوْمَئِذٍ تُحَدِّثُ أَخْبَارَهَا
C)	يَوْمَئِذٍ يَصُدُّ النَّاسُ أَسْتَاتًا لِّيُرَوَّا أَعْمَالَهُمْ
D)	فَمَنْ يَعْمَلْ مِثْقَالَ ذَرَّةٍ خَيْرًا يَرَهُ

SINAV SONA ERMIŞTİR. LÜTFEN CEVAPLARINIZI KONTROL EDİNİZ.



SEVİYE BELİRLEME SINAVI



Sınav sonuçları ve iletişim:
hafiziho.meb.gov.tr

KONYA 2017 HAFIZ İHO CEVAP ANAHTARI

A KİTAPÇIĞI								
1. BÖLÜM					2. BÖLÜM			
1	B	21	A		1	B	21	A
2	A	22	D		2	D	22	B
3	B	23	A		3	B	23	B
4	D	24	C		4	A	24	C
5	C	25	C		5	D	25	D
6	A	26	A		6	C	26	A
7	D	27	D		7	B	27	D
8	B	28	C		8	C	28	C
9	A	29	D		9	B	29	B
10	C	30	C		10	A	30	A
11	B	31	C		11	B	31	B
12	A	32	B		12	D	32	C
13	C	33	D		13	D	33	A
14	A	34	A		14	B	34	B
15	D	35	C		15	C	35	D
16	C	36	A		16	A	36	A
17	C	37	B		17	B	37	D
18	A	38	B		18	D	38	B
19	B	39	D		19	D	39	C
20	B	40	A		20	A	40	A