



# HAFIZİHO

Hafız Teftiş ve Akademik Başarıya Destekleme Projesi

## 2024

### ÖRGÜN EĞİTİMLE BİRLİKTE HAFIZLIK PROJESİ SEVİYE BELİRLEME SINAVI

Adı Soyadı : .....

Okulu : .....

T.C. Kimlik No : .....

ALANLAR	SORU SAYISI	TOPLAM SORU SAYISI	SÜRE
TÜRKÇE	15	80 SORU	100 DAKİKA
MATEMATİK	15		
FEN BİLİMLERİ	10		
SOSYAL BİLGİLER	10		
DİN KÜL.AH.BİL. (SURE - DUA VE MEAL BİLGİSİ)	30		

1. Sınav süresince gözetmenlerin uyarılarına dikkat ediniz.
  2. Sınav süresince kitap, sözlük veya elektronik araçları yanınızda bulundurmuyunuz.
  3. Cevap kağıdınızdaki bilgilerin doğruluğunu kontrol ediniz.
  4. Kitapçık üzerindeki ad-soyad, sınıf-no, okul bilgileriniz kodlamayı unutmayınız.
  5. Cevap kağıdınız üzerinde bulunan kitapçık türünü doğru kodladığınızdan emin olunuz.
  6. Sınavın değerlendirilmesi optik okuma araçları ve elektronik ortamda yapılacağından ikili veya toplu kopya çekilmesi tespit edilmektedir. Bu gibi durumlarda sınavınız geçersiz sayılacaktır.
  7. Cevap kağıdı üzerinde kurşun kalemle işaretleme yapınız. Değiştirmek istediğiniz cevabınızı yumuşak silgi ile iz bırakmadan siliniz. Cevap kağıdınızı buruşturmayınız ve katlamayınız.
  8. Soru kitapçığınızı sınav başlamadan kontrol ediniz. Eksik sayfa varsa değiştirilmesini isteyiniz.
  9. Sınav bitiminde cevap kağıdınızı teslim etmeyi unutmayınız. Her sorunun bir doğru cevabı bulunmaktadır.
  10. Başlayınız denilmeden kitapçığınızı açmayınız.
  11. **Üç yanlış cevap bir doğru cevabı götürmektedir.**
  12. **ÖNEMLİ: TC Kimlik numaranızı cevap formu üzerindeki alana dikkatli kodlayınız.**
- © Her hakkı saklıdır. İzinsiz kopyalanamaz, alıntı yapılamaz, yayınlanamaz.

**1.** Başarı nasıl kazanılır? Bu soruya herhalde pek çok kimse çok farklı cevaplar verir. Örneğin çok çalışmak, planlı olmak, zamanı iyi değerlendirme gibi cevaplar bunlar arasında sayılabilir. Ancak insanı başarıya götüren en önemli etkenlerden biri istektir. İnsan bir şeyi gerçekten çok isterse o uğurda pek çok fedakârlığa katlanır, çok da çalışır, zamanını da boşa harcamaz.

**Bu parçada aşağıdakilerden hangisinin diğerlerinden daha önemli olduğu anlaşılmaktadır?**

- A) Zamanı verimli kullanma
- B) Çok çalışma
- C) Planlı olma
- D) İsteklilik

**2.** TCG Anadolu (L-400), Türk Deniz Kuvvetleri envanterinde bulunan LHD sınıfı savaş gemisi. TCG Anadolu, Türk Donanma tarihinin ilk LHD gemisidir. Adını Anadolu yarımadasından almıştır. İstanbul merkezli Sedef Tersanesinde inşa edilen TCG Anadolu, 10 Nisan 2023'te Türk Deniz Kuvvetlerine resmen teslim edilip göreve başladı.

**Metinde TCG Anadolu gemisi ile ilgili aşağıdakilerden hangisine değinilmemiştir?**

- A) Nerede yapıldığı
- B) Hizmete ne zaman girdiği
- C) Yapımına ne zaman başlandığı
- D) Diğer gemilerden farkı

**3. Aşağıdakilerden hangisi neden - sonuç ilişkisini anlatan cümlelere örnek gösterilemez?**

- A) Sabah kahvaltı yapmadığı için şimdi çok açlık hissediyordu.
- B) Benim gibi senin de zaman zaman canın sıkılıyor diye düşünüyorum.
- C) Ailesinin kendisine yaptığı sürpriz sebebiyle çok sevinmişti.
- D) Yarın erken yola çıkacağız, bu nedenle şimdi uyumamız gerek.

**4.** Ahlaki değerlere önem vermeyen toplulukların ayakta kalması mümkün değildir. Çünkü böyle bir toplumda insanlar arasında ilişkiler bozulacak, sevgi ve saygı azalacaktır. Hiç kimse birbirinin ilgi ve ihtiyaçlarını önemsemeyecek, birlik ve beraberlik zayıflayacaktır.

**Verilen metin anlamca aşağıdakilerden hangisine benzemektedir?**

- A) Ahlak, bir toplumun varlığının devamlılığında önemli bir yere sahiptir.
- B) Toplumsal ihtiyaçların giderilmesinde devlet kurumlarının önemli etkisi vardır.
- C) İnsanlar arasındaki anlaşmazlıklar bir süre sonra kavgaya neden olur.
- D) Kendini yenilemeyen toplumlarda yeni ahlaki sorunlar baş gösterir.

**5. Aşağıdakilerden hangisinde karşıt anlamlı kelimeler aynı cümle içinde kullanılmamıştır?**

- A) Ekmek kuru kuru gitmiyorsa yanında bir şeyler içebilirsin.
- B) Bu araba diğer arabalardan farklı olarak altı ileri bir geri vitese sahiptir.
- C) Yerli yabancı tüm turistler bu camiyi görmeden buradan ayrılmaz.
- D) Herkes kağıda yazılan sayının çift mi tek mi olduğunu merak ediyordu.

**6.** Vatanını sevmek öyle birkaç sloganla veya yalnızca sosyal medyada yazılan mesajlarla olmaz. İnsanın bu uğurda yapması gereken başka işler de vardır. Örneğin dış ülkelere bağımlı olunan bir ürünü icat etmek, kendi menfaati ile ülkesinin menfaati çakıştığında ülkesini tercih etmek bu işlerdendir. Vergisini vermeyen, elektriği kaçak kullanan, kamu mallarına zarar veren kimse ülkesini sevdiğini ne kadar söylese de bu doğru değildir.

**Bu parçaya verilebilecek en uygun başlık aşağıdakilerden hangisidir?**

- A) Sosyal medyada vatan sevgisi
- B) Gerçek vatan sevgisi
- C) Vergi vermenin önemi
- D) Devlet mallarının korunması

7. "Yaşlılığa bağlı unutkanlık hastalığı olan ihtiyar (1) adama (2) evine nasıl gidebileceğini sordu." cümlesinde virgölün konulacağı yere göre cümlenin anlamı farklılık göstermektedir. Cümlede virgölün konulabileceği iki farklı yer ayrıçlarla gösterilmiştir.

**Virgölün kullanımı ile ilgili aynı durum aşağıdakilerden hangisinde de bulunmaktadır?**

- A) Kitabımı, defterimi, kalemligimi yani ne varsa hepsini evde unutmuşum.  
B) Topu eline aldı, arkadaşlarına şöyle bir baktı ve en uygun oyuncuya gönderdi.  
C) Televizyon reklamları, diziler ve diğer programlar toplumun ahlakını bozacak öğeler taşımamalıdır.  
D) Küçük, sınıfa girdiğinde tüm dikkatleri hemen üzerine çekti.

8. Oto lastikçisi lastiklerini tamir ettiği aracı sahibine teslim ediyordu. Aracın sahibi tamir edilen lastiği eliyle yokladı. Tamir yerine baktı. Ustaya sorular sormaya başladı. Lastikte ne olduğunu, nasıl tamir edildiğini iyice öğrenmeye çalıştı. Tamirci ise şaşırmişti ve adama "Merak etme abi! Sen bana güven!" dedi. Adamsa bir hafta önce de lastiğin patladığını ve tamir ettirdiğini söyleyip sonraki ilk kullanımda lastiğin yine indiğini çünkü iyi tamir edilmediğini anlattı. Aynı şeyi tekrar yaşamak istemediğini de ekledi.

**Parçadaki konu aşağıdaki atasözlerinden hangisiyle doğrudan ilişkilidir?**

- A) Öfkeyle kalkan zararlar oturur.  
B) Sakla samanı, gelir zamanı.  
C) Bir elin nesi var, iki elin sesi var.  
D) Sütten ağzı yanan yoğurdu üfleyerek yer.

9. "Sen buraları bilmezsin. İnsanları kendine güvencirmeyi başararsan hepsi birden arından gelir. Bunun için mutlaka daha çok çalışmalısın."

**Metinde altı çizili kelimelerden birinin yerine aşağıdakilerden hangisi getirilemez?**

- A) Tümü  
B) Kesinlikle  
C) Zamanla  
D) Peşinden

10. Çocukların sağlıklı büyümeleri ve psikolojik gelişimlerinde ..... en önemli unsurlardan biri ailedir. Eğer ailede anne baba arasında huzur yoksa bu durum doğrudan çocukları etkileyecektir.

**Cümlede boş bırakılan yere aşağıdakilerden hangisinin getirilmesi uygundur?**

- A) yakında  
B) kuşkusuz  
C) yoksa  
D) çünkü

11. Neredeyse herkes bana bu okulun diğerlerinden daha iyi olduğunu söyledi.

**Bu cümleyle aynı anlama gelen cümle aşağıdakilerden hangisidir?**

- A) Görüştüğüm insanların çoğu bu okulun en iyi okul olduğunu bana aktardı.  
B) Bu okul gibi başka okulların da olduğunu öğrendim.  
C) İyi okul sıralamasında ilk sıralarda gelen bu okulu herkes çok övdü.  
D) Bir kişi bile bu okuldaki eğitimin kötü olduğunu söylemedi.

12.

A ● -	J ● - - -	S ● ● ●
B - ● ● ●	K - ● -	T -
C - ● - ●	L ● - ● ●	U ● ● -
D - ● ●	M - -	V ● ● ● -
E ●	N - ●	W ● - -
F ● ● - ●	O - - -	X - ● ● -
G - - ●	P ● - - ●	Y - - - -
H ● ● ● ●	Q - - - -	Z - - ● ●
I ● ●	R ● - ●	

Mors alfabesini inceleyen bir öğrenci ismini bu alfabeğe göre aşağıdaki şekilde kodlamıştır.

●●●●	● -	●● - ●	●●	- - ●●
------	-----	--------	----	--------

**Bu öğrencinin adı aşağıdakilerden hangisidir?**

- A) HASİP  
B) VASIF  
C) HAFIZ  
D) SAKIZ

13. (1) Günümüzde pek çok yerleşim yerinin başlıca sorunlarından biri de hava kirliliğidir. (2) Hava kirliliği o kadar ileri boyutlara ulaşmıştır ki bazı büyük şehirlerde insanlar evlerinin pencerelerini açamaz hale geldiler. (3) Dışarı çıkmak isteyen insanlar, yanlarında taşıdıkları sağlık maskeleleriyle ağız ve burunlarını kapatmak zorunda kalmaktadırlar. (4) Oysa özel otomobil yerine toplu taşımayı daha çok kullansak, kömür yerine doğal gazla ısınmayı daha da yaygınlaştırsak hava biraz daha temiz olabilirdi. (5) Havanın kirlenmesi demek sağlığımızın da tehlike altına girmesi demektir.

**Bu metnin ilk cümlesindeki soruna numaralandırılmış cümlelerin hangisinde bir çözüm sunulmuştur?**

- A) 2.  
B) 3.  
C) 4.  
D) 5.

14. Saygıdeğer sakinlerimiz. Yakın zamanlarda çevre sitelerde hırsızlık olayları yaşanmıştır. Bu nedenle binamıza tanımadığımız kimselelerin girmemesi için apartman kapımızı açık bırakmayınız. Binaya giriş ve çıkışlarda eğer kapıyı açık görürseniz kapatmanızı rica ederiz. Ayrıca zilinize basıldığında zile basan kimseyi tanımıyorsanız lütfen kapıyı açmayınız.

**Bir sitenin girişine asılan bu duyuru ile ilgili aşağıdakilerden hangisi söylenemez?**

- A) Apartmanda yaşayan kişilere yönelik yazılmıştır.  
B) Güvenliğin korunması ve kötü olayları önleme amacını taşımaktadır.  
C) Olumsuz bir durum olmaması için alınabilecek tedbirler açıklanmaktadır.  
D) Herhangi bir olumsuzlukta site yönetiminin sorumlu olduğu bildirilmektedir.

15. Zemin kat ile onun üstünde üç kat daha bulunan toplam dört katlı bir apartmanda oturanlarla ilgili şu bilgiler verilmiştir:

- Selim Bey ve ailesi zemin katta oturmamaktadır.
- Alime Hanım ve kızının oturduğu katın üstünde ve altında oturan aileler bulunmaktadır.
- Can Bey ve ailesi Alime Hanımla Selim Bey arasında oturmaktadır.
- Mehmet Bey, en üst katta oturmamaktadır.

**Buna göre ailelerin katlarda oturma durumu ile ilgili aşağıdakilerden hangisi doğrudur?**

	Zemin kat	1. kat	2. kat	3. kat
A)	Alime Hanım	Selim Bey	Mehmet Bey	Can Bey
B)	Mehmet Bey	Alime Hanım	Can Bey	Selim Bey
C)	Can Bey	Alime Hanım	Selim Bey	Mehmet Bey
D)	Mehmet Bey	Can Bey	Alime Hanım	Selim Bey

**Türkçe testi sona ermiştir. Lütfen diğer teste geçiniz.**

**Cevap formunuzda cevaplarınızı bir sonraki bölüme kodlayınız.**

1.



Verilen tabloda en sondaki soru işaretli yere aşağıdakilerden hangisi yazılmalıdır?

- A) 820
- B) 870
- C) 920
- D) 970

2. "548658" altı basamaklı bir doğal sayıdır. Bu sayı ile ilgili aşağıdaki yönergeleri takip ederek işlemleri gerçekleştiriniz.

- Sayının birler ve binler bölümünü yer değiştiriniz.

- Her bölükteki rakamları kendi içinde küçükten büyüğe sıralayınız.

Bu işlemler sonunda elde edilen sayının on binler basamağındaki rakamın basamak değeri aşağıdakilerden hangisidir?

- A) 80000
- B) 60000
- C) 50000
- D) 40000

3. Aşağıdaki tabloda iki şehrin 2020 ve 2023 yıllarındaki nüfuslarına yer verilmiştir.

İL	2020 NÜFUS	2023 NÜFUS
A ŞEHİRİ	762 062	802 265
B ŞEHİRİ	542 157	551 652

Buna göre 2020-2023 yılları arasında A şehri ile B şehrinin nüfus artış miktarları arasındaki fark aşağıdakilerden hangisidir?

- A) Otuz bin yedi yüz sekiz
- B) Kırk bin iki yüz üç
- C) Dokuz bin dört yüz doksan beş
- D) Kırk dokuz bin yedi yüz elli iki

4.

0 - 6 - 1 - 9 - 5 - 2

Verilen rakamları yalnızca birer kere kullanarak oluşturacağımız en büyük sayının binler bölümü aşağıdakilerden hangisidir?

- A) 695
- B) 596
- C) 925
- D) 965

5. Elli bin elli adet gül, her biri ellişer gül alan kutulara konacaktır. Güllerin büyük bir kısmı kutulara konulur. Ancak beş bin elli gül için kutu yetmez.

Buna göre kutulara konulan güller için kaç kutu kullanılmıştır?

- A) 450
- B) 751
- C) 900
- D) 1001

6. Aşağıdaki tabloda bir öğrencinin üç gün boyunca harcadığı para miktarı verilmiştir.

Gün	Harcanan para miktarı
Pazartesi	80 TL
Salı	Bir önceki günün iki katı
Çarşamba	Önceki iki gün harcanan toplam paranın yarısı

Buna göre bu öğrencinin üç gün boyunca harcadığı toplam para miktarı kaçtır?

- A) 240 TL
- B) 300 TL
- C) 320 TL
- D) 360 TL

7. Bir bal üreticisi her birinin içinde sekizer petek bulunan 18 kovana sahiptir. Her bir petekte ise ortalama 3 kg bal bulunmaktadır. Üretici bu balların 14 peteğini kendisi ve arıları için ayırıp gerisini kilosu 200 TL'den satmıştır.

**Bu satıştan elde edilen para miktarı aşağıdakilerden hangisinde verilmiştir?**

- A) 56600  
B) 78000  
C) 84000  
D) 88400

8. Aşağıda verilen kutuların içindeki sayıların aralarında belli bir örüntü kuralı vardır.



**Buna göre yukarıdaki örüntünün kuralı aşağıdakilerden hangisinde verilmiştir?**

- A) İki katının bir eksiği  
B) Beş fazlası  
C) Yarısının iki katı  
D) İki katının iki fazlası

9. 850750 sayısının onlar basamağındaki rakama üç eklenir, on binler basamağındaki rakama ise iki eklenerek yeni bir sayı elde edilmiştir.

**Yapılan işlem sonunda elde edeceğimiz sayının okunuşu aşağıdakilerden hangisidir?**

- A) Sekiz yüz seksen bin yedi yüz seksen  
B) Sekiz yüz yetmiş bin yedi yüz seksen  
C) Sekiz yüz elli iki bin yedi yüz elli üç  
D) Sekiz yüz seksen üç bin sekiz yüz seksen

10. Bir lokanta menüsündeki fiyatlar aşağıda verilmiştir.

Menü	Fiyat
Et yemeği	125 TL
Sebze yemeği	60 TL
Pilav	40 TL
Salata	25 TL
Ayran	10 TL

Üç arkadaş lokantaya giderler. Biri ayran almamış ama diğer ikisi ayran almıştır. Üçü de birer pilav ve salata yerler. Arkadaşlardan biri sebze yemeği yemiştir. Diğer ikisi de ana yemek olarak et yemeği istemiştir.

**Buna göre bu yemekte ödenen toplam hesap tutarı aşağıdakilerden hangisidir?**

- A) 475 TL  
B) 500 TL  
C) 525 TL  
D) 550 TL

11.



Bir kümeste bulunan tavukların bir günde yumurtladıkları yumurtalar toplanmış ve görseldeki yumurta kolisine sıralanacaktır. Yumurtalar toplam 13 adet koliyi doldurmuş olup geriye 8 yumurta açıkta kalmıştır.

**Buna göre günlük alınan yumurta sayısı kaçtır?**

- A) 390  
B) 398  
C) 402  
D) 418

12. Aşağıda A, B ve C sayılarına ait çözümlenme verilmiştir.

$$A = 100000 + 3000 + 30 + 9$$

$$B = 80000 + 4000 + 300 + 8$$

$$C = 60000 + 200 + 8$$

Buna göre A sayısından, önce B sayısı çıkarılıp elde edilen sonuç C sayısı ile toplanırsa aşağıdakilerden hangisi elde edilir?

- A) 78939  
B) 52299  
C) 65489  
D) 85469

13. Aşağıda verilen bölme işleminde A, B ve C harfleri birer rakamı ifade etmektedir.

$$\begin{array}{r} 865 \quad | \quad 15 \\ - \quad BA \quad | \quad AB \\ \hline \quad CCB \\ \quad C0B \\ \hline \quad \quad C0 \end{array}$$

Buna göre A, B ve C rakamlarının sayı değerlerinin toplamı aşağıdakilerden hangisidir?

- A) 10  
B) 11  
C) 12  
D) 13

14. 56.387 sayısı **HF.MBK** harfleriyle ifade edilmiştir. Bu eşleştirmede her bir rakam aynı sıradaki her bir harfle ifade edilmiştir.

Buna göre **KBM.FMH** sayısının okunuşu aşağıdakilerden hangisidir?

- A) Yedi yüz seksen üç bin altı yüz otuz beş  
B) Yedi yüz elli üç bin sekiz yüz altmış beş  
C) Yedi yüz altmış üç bin altı yüz seksen beş  
D) Yedi yüz otuz altı bin sekiz yüz altmış beş

- 15.

73546	66525	5454	12145
85647	6635	4412	44547
6523	55488	5784	55458
45878	22154	69866	12012

Verilen tablodaki sayılar aşağıdaki talimatlara göre üzerleri çizilerek elenecektir.

- İlk önce on binler basamağında rakam olan sayıları çiziniz.
- Sonra sonu çift olan sayıları çiziniz.
- En son olarak kalan sayıların en küçüğünü çiziniz.

Bu talimatlardan sonra elde ettiğiniz sayı aşağıdakilerden hangisidir?

- A) 6635  
B) 6523  
C) 4412  
D) 12012

Matematik testi sona ermiştir. Lütfen diğer teste geçiniz.

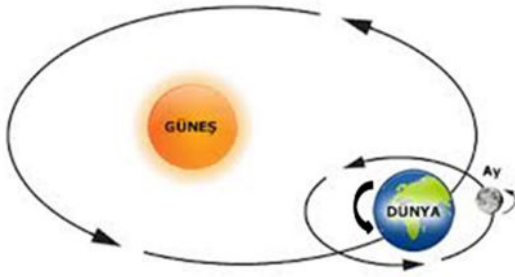
Cevap formunuzda cevaplarınızı bir sonraki bölüme kodlayınız.

1. Fosilleşme olabilmesi için canlı kalıntılarının veya izlerinin havayla temasının kesilerek taşlaşması ve sert dokularının bozulmadan çok uzun süre bu şekilde beklemesi gerekir.

**Buna göre aşağıdakilerden hangisi fosilleşme için uygun bir ortam sunmaz?**

- A) Buzulların içi  
B) Bitki reçineleri  
C) Okyanus dipleri  
D) Yeryüzü yüzeyi

2.



**Verilen görselle ilgili aşağıdaki yorumlardan hangisi yanlıştır?**

- A) Dünya, kendi eksenini etrafında dönmektedir.  
B) Güneşin çevresinde dolanırken Dünya'nın hep aynı yüzü Güneş'e dönüktür.  
C) Dünya, Güneş'in çevresinde saatin ters yönünde dolanma hareketi yapar.  
D) Dünya, Güneş çevresinde dolanırken aynı anda kendi eksenini çevresinde de döner.

3. Besinler, yaşamın devamını sağlamak için ihtiyaç duyulan maddeleri içerirler. Kaynakları itibarıyla hayvansal ve bitkisel olarak ikiye ayrılırlar.

**Buna göre aşağıdakilerden hangisi kaynağı itibarıyla diğerlerinden farklıdır?**

- A) Süt  
B) Tereyağı  
C) Maydanoz  
D) Et

4.



Görselde arızalanan bir yük gemisinin önünde sahil güvenlik komutanlığına ait başka küçük bir gemi görülmektedir. Arızalanan yük gemisi öndeki küçük gemiye halatla bağlanarak kıyıya götürülmektedir.

**Bu metinde kuvvetin hangi çeşidine ait bir örnek verilmiştir?**

- A) Çekme  
B) İtme  
C) Şekil değiştirme  
D) Yavaşlatma

5.



Görselde çekiç yardımıyla çivilere vurulmakta ancak çivilerin eğildiği görülmektedir.

**Uygulanan kuvvetin çivilere etkisi aşağıdakilerden hangisiyle açıklanabilir?**

- A) Döndürücü  
B) Yön değiştirici  
C) Şekil değiştirici  
D) Yavaşlatıcı



6. Görseldeki bahçe kapısının yapısında kullanılan madde aynı zamanda otomotiv ve inşaat alanında çokça kullanılır. Bu madde ülkemizde en çok Sivas Divriği ve Malatya Hekimhan'da çıkarılır.



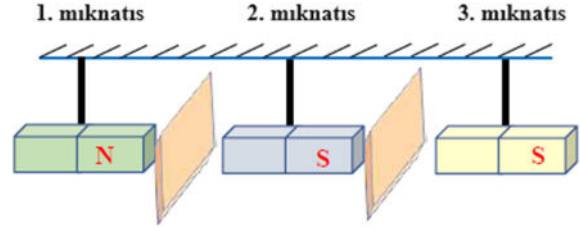
**Hakkında bilgi verilen madde aşağıdakilerden hangisidir?**

- A) Demir  
B) Bakır  
C) Mermer  
D) Gümüş
7. Karaciğer kanserinin en başta gelen nedenlerindedir. Vücuda alındığında beyin fonksiyonlarının yavaşlamasına ve reflekslerin yavaşlamasına neden olur. Bu özelliğiyle trafik kazalarının da nedenleri arasında en üstlerde yer alır. Çünkü araç kullanımında ani karar verilmesi gereken durumlarda bu bağımlılık nedeniyle verilmesi gereken kararlar gecikir.

**Parçada aşağıdakilerden hangisine olan bağımlılığın olumsuz etkilerinden bahsedilmektedir?**

- A) Sigara  
B) Alkol  
C) Uyuşturucu  
D) Kumar
8. Marketlerden satın alınacak paketlenmiş ve dondurulmuş besinlerle ilgili aşağıdakilerden hangisi yanlıştır?
- A) Daha uzun dayanabilirler.  
B) İçinde katkı maddesi olabilir.  
C) Dondurulduğu için son kullanma tarihi bulunmaz.  
D) Çözdürülmüş besinler tekrar dondurulmamalıdır.

9. Aşağıdaki görselde üç mıknatıs ve aralarında iletkenliği engelleyen metal plakalar bulunmaktadır. Bir süre sonra bu metal plakalar kaldırılmıştır.



**Metal plakalar kaldırıldıktan sonra mıknatısların kutuplarına göre aşağıdakilerden hangisi doğrudur?**

- A) Her üç mıknatıs da birbirini çeker ve birbirlerine yapışır.  
B) 1. ve 2. mıknatıs birbirini çeker.  
C) Her üç mıknatıs da birbirini iter ve ayrık kalır.  
D) 2. ve 3. mıknatıs birbirini çeker.
10. Besinleri daha uzun süre tüketebilmek ve ihtiyaç anında onlara kolay ulaşabilmek için geçmişten beri farklı saklama yöntemleri kullanılmıştır. Bunlardan bazıları geleneksel yöntemlerken bazıları ise fabrika ve imalathanelerde uygulanan teknolojik yöntemlerdir. Örneğin sütün uzun süre dayanması için geliştirilen bir yöntem günümüzde çokça olarak kullanılmaktadır.

**Bu yöntemin adı aşağıdakilerden hangisidir?**

- A) Kurutma  
B) Pastörizasyon  
C) Dondurma  
D) Fermantasyon

**Fen Bilimleri testi sona ermiştir. Lütfen diğer teste geçiniz.**

**Cevap formunuzda cevaplarınızı bir sonraki bölüme kodlayınız.**

1. Cenk: Açık havada yürüyüş yapmayı, doğada kamp yapmayı çok severim.

Merve: Çok acıktığım için yiyecek bir şeyler aldım.

Suphi: Katıldığım bir kompozisyon yarışmasında benim yazdığım eser birinci oldu.

**Çocukların söylediklerinin ilgili olduğu kavramlar aşağıdakilerden hangisinde sırasıyla verilmiştir?**

- A) İlgi - yetenek - ihtiyaç  
B) İhtiyaç - ilgi - yetenek  
C) İlgi - ihtiyaç - yetenek  
D) Yetenek - ilgi - ihtiyaç

2. İki genç bir parkta otururlarken önlerinden bir adam hızlıca geçti. Adam cebindeki cüzdanı az ötede düşürdü. O sırada başka bir adam yerdeki cüzdanı gördü. Eğilip onu aldı. Gençlerden biri arkadaşına "Bak şu adam cüzdanı şimdi saklayacak. Üstü başı eski ve kötü görünüyor. Gidip hemen durduralım." dedi. Ancak cüzdanı bulan adam hızla düşüren kişiye doğru koştu ve ona seslenerek cüzdanı teslim etti.

**Gencin davranışını açıklayan kavram aşağıdakilerden hangisidir?**

- A) Empati  
B) Önyargı  
C) Tutumluluk  
D) Hoşgörü

3. Bir tiyatro oyununa ait senaryoda şu cümleler geçiyordu: "Hikaye İzmir'de geçmektedir. 9 Eylül tarihi ve İzmir'in kurtuluşu canlandırılacaktır. Batı Cephesinde geçen olaylar canlandırılmıştır."

**Buna göre tiyatro oyununda Kurtuluş Savaşı'mızın aşağıdaki hangi millete karşı olan mücadelesi konu edinilmiştir?**

- A) Yunanlılar  
B) İngilizler  
C) Fransızlar  
D) Ermeniler

4. Ankara Etnografya Müzesinde; Anadolu'nun çeşitli yörelerinden derlenmiş halk giysileri, süs eşyaları, ayakkabı, takunya örnekleri vardır. Sivas yöresi kadın ve erkek çorapları, çeşitli keseler, oyalar, çevreler, uçkurlar, peşkirler, bohçalar, yatak örtüleri, gelin kıyafetleri, damat tıraş takımları, çeşitli yörelerden halı ve kilimler sergilenmektedir. Anadolu maden sanatını temsil eden çok çeşitli eserler, Osmanlı Devri yayları, okları, çakmaklı tabancalar, tüfekler, kılıç ve yatağanlar bulunur. Ayrıca Türk çini porselenleri ve Kütahya porselenleri, tasavvuf ve tarikatla ilgili eşyalar, Türk yazı sanatının güzel örneklerinden levhalar da müzede yer almaktadır.

**Bu müzenin oluşturulma nedenleri arasında aşağıdakilerden hangisi gösterilemez?**

- A) Geçmişimizle olan bağlarımızı canlı tutmak  
B) Önemli tarihi eşyaları ve onları kullanan atalarımızın yaşantılarını öğrenmek  
C) Kültürümüzü korumak ve kaybolmasını önlemek  
D) Değerli eşyaları koruyup maddi olarak güçlenmek

5. Karadeniz'de horon tepilir. Kıvrak hareketlerle ve birlikte oynanan horon yöre insanının vazgeçilmezidir. Orta Anadolu'da kışıklarla farklı bir halk oyunu oynanırken Ege denilince akla zeybek gelir. Birbirlerinden farklı olsalar da hepsi ülkemizin birbirinden değerli güzelliklerindedir.

**Bu metinden aşağıdakilerden hangisi çıkarılabilir?**

- A) Kültürel öğeler konusunda yöresel farklılıklar görülebilir.  
B) Her yöre kendi halk oyununu daha değerli görür.  
C) Halk oyunları farklı tarihi olaylardan ortaya çıkmıştır.  
D) Ülkemizde üç farklı yöresel halk oyunu çeşidi vardır.

6. **Aile tarihini araştıran ve bununla ilgili bir sunum yapmak isteyen bir öğrenci aşağıdakilerden hangisini bu sunumda kullanmamalıdır?**

- A) Dedesinin asker elbisesi
- B) Ninesinin dikiş makinesi
- C) Babasının iş arkadaşlarının çalışmaları
- D) Annesinin çocukluğunun geçtiği ev

7. I. İlköğrenimine Fatih'te Emir Buhari Mahalle Mektebinde o zamanların âdeti gereği 4 yıl, 4 ay, 4 günlük iken başladı.

II. İstanbul'un Fatih ilçesindeki Karagüm-rük semtinde dünyaya geldi.

III. 1885'te dönemin gözde okullarından günümüzün lisesine karşılık gelen Mülkiye İdadisi'ne kaydoldu.

IV. Çocukluğunun büyük bölümü annesinin Fatih, Sarıgözel'deki evinde geçti.

**Mehmet Akif'le ilgili verilen bu bilgilerin kronolojik sıralaması aşağıdakilerden hangisidir?**

- A) I - II - IV - III
- B) II - IV - I - III
- C) III - I - IV - II
- D) IV - I - III - II

8. • Kendimi kötü hissediyorum, sanırım hastalanacağım.

• Keşke beklemeden doktora hemen gitseydim.

• Yaşasın, babamla amcam barışmış.

**Bu cümlelerdeki duygular sırasıyla aşağıdakilerden hangisinde verilmiştir?**

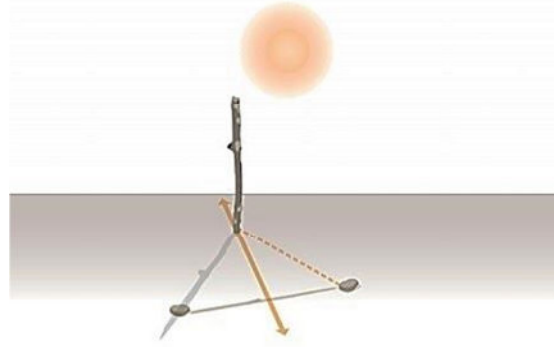
- A) kaygı - pişmanlık - mutluluk
- B) endişe - kızgınlık - hayal kırıklığı
- C) üzüntü - hayal kırıklığı - mutluluk
- D) kızgınlık - korku - sevinç

9. Yön bulma eskiden beri insanların önem verdiği ve sürekli gelişen tekniklerin kullanıldığı bir alan olmuştur. Örneğin tarihte denize açılan gemilerde yön bulma hayati bir öneme sahipti. Çünkü denizde yön bulamamak ve engin denizlerde kaybolmak çok tehlikeliydi. Bu amaçla yön bulma konusunda sürekli bir arayış vardı. Teknolojinin de yardımıyla bu alan gelişti.

**Aşağıdakilerden hangisi yön bulma konusunda diğerlerinden daha yeni bir araç veya yöntemdir?**

- A) Pusula aleti
- B) Yıldızların konumundan yararlanma
- C) Navigasyon cihazı
- D) Usturlab aracı

10.



**Güneşli bir günde öğle vakti güneş tam tepede iken yere dikilen bir çubuğun gölgesinin bulunduğu taraf aşağıdaki yönlerden hangisini gösterir?**

- A) Güney
- B) Batı
- C) Doğu
- D) Kuzey

**Sosyal Bilgiler testi sona ermiştir. Lütfen diğer teste geçiniz.**

**Cevap formunuzda cevaplarınızı bir sonraki bölüme kodlayınız.**

1. Din, akıl sahiplerini kendi istek ve hür iradeleri ile hayırlı olan şeylere sevk eden ilahî kurallardır. Bu kurallar davranışlarımızı etkilediği gibi dilimizi de etkiler. Günlük konuşma dilimizde kaynağını dinden alan birçok ifade vardır. Bunlara dinî ifadeler denir.

**Aşağıdakilerden hangisi bu ifadeler arasında gösterilemez?**

- A) Bismillah
- B) Allah'a emanet!
- C) Allah bereket versin!
- D) Üstü kalsın.

2. Dilimize girmiş dini ifadelerden pek çoğu sözlüklerde kendine yer bulmuştur. Örneğin günlük hayatta kullandığımız bir kavramın sözlükteki tanımı şöyledir: "Allah'ın mesajlarını insanlara ulaştıran kimsedir."

**Metinde tanımı verilen kavram aşağıdaki cümlelerden hangisinin içinde kullanılmıştır?**

- A) Rahman ve Rahim olan Allah'ın adıyla başlarım.
- B) Gidilmesi gereken yol Hz. Peygamberin yoludur.
- C) Sünnet; sözlükte yol, gidişat gibi anlamlara gelir.
- D) Allah'tan başka ilah yoktur.

3. Hz. Peygamber bir defasında arkadaşlarıyla birlikte yemek yiyordu. Bu esnada dışardan bir kişi geldi ve yemeğe oturdu. Yemeği bir iki lokmada bitirdi. Bunun üzerine Hz. Peygamber o kimsenin yemeğin başında yapması gereken bir işi yapmadığını, bu nedenle yemeğin bereketlenmediğini ve herkese yetmediğini söyledi.

**Adamın yapmadığı söylenen davranış aşağıdakilerden hangisidir?**

- A) Selam vermek
- B) Elhamdüllillah demek
- C) Besmele çekmek
- D) Ellerini yıkamak

4. Kur'an-ı Kerim'in gönderilen ilk ayetleri olan Alak suresinin başında Allah şöyle buyurmuştur: "Oku! Seni yaratan Rabbinin adıyla oku!"

**Bu ayetlerde istenen davranış aşağıdakilerden hangisi ile gerçekleştirilebilir?**

- A) Tekbir getirilerek
- B) Hamd ederek
- C) Besmele çekilerek
- D) Tesbih ifadesi söylenerek

5. Peygamberimiz bir hadisinde insanların iman etmeden cennete giremeyeceğini söylemiştir. Ancak iman etmiş olmak içinse birbirlerini sevmeleri gerektiğini belirtmiştir. Hadisin sonunda ise insanların birbirini sevmesi için aralarında selam vermeyi yaygınlaştırmalarını tavsiye etmiştir.

**Buna göre selamın anlamı düşünüldüğünde Peygamberimiz selam verilmesini tavsiye ederken aşağıdakilerden hangisinin yapılmasını istemiştir?**

- A) Karşılıklı olarak esenlik dilenmesini
- B) Allah'ın adının yüceltilmesini
- C) Allah'ın adıyla söze başlanmasını
- D) Birbirimize teşekkür etmemizi

6. Hz. Cebrail'in Allah'tan aldığı ilahi vahiyleri peygamberlere getirdiğine inanırım. Gelen en son vahiy Kur'an-ı Kerim ayetleridir ve Hz. Muhammed'e (s.a.v.) indirilmiştir.

**Bu metinde inanç esaslarından hangisine değinilmemiştir?**

- A) Allah'a iman
- B) Meleklerle iman
- C) Ahiret gününe iman
- D) Kitaplara iman

7. İslam'ın şartlarının başında söylenmesi gereken ifadelerdir. Aynı zamanda tevhid inancını ifade eder. Bir kimse Müslüman olmak isterse öncelikle bu sözü söylemeli ve onunla belirttiği konulara iman etmelidir.

**Metinde aşağıdakilerden hangisi hakkında bilgi verilmektedir?**

- A) Kelime-i şehadet  
B) Tekbir  
C) Hamdele  
D) Salavat

8. "Orada apaçık nişaneler, (ayrıca) İbrahim'in makamı vardır. Oraya giren emniyette olur. Yoluna gücü yetenlerin o evi hacetmesi, Allah'ın insanlar üzerinde bir hakkıdır..." (Âl-i İmrân suresi, 97. ayet)

**Bu ayette belirtilen ibadeti yerine getirmek isteyen bir kimsenin gitmesi gereken yer aşağıdakilerden hangisidir?**

- A) Medine  
B) Kudüs  
C) Mekke  
D) Taif

9. "Annene, babana, kız ve erkek kardeşlerine yardım et, sonra yakınlık durumuna göre iyilik yapmaya devam et." (Nesâî, Zekât, 51)

**Bu hadiste aşağıdakilerden hangisine dikkat çekilmektedir?**

- A) Aile içi iletişimin önemi büyüktür.  
B) Yardımlaşma konusunda öncelik ailenindir.  
C) Dünya nimetleri aileye üyelerine huzur getirmez.  
D) Mecbur olmadıkça aile dışına iyilik yapılmaz.

10. Kur'an-ı Kerim, Hz. Muhammed'e (s.a.v.) bir defada ve tek parça olarak gönderilmemiştir. Ayetler çeşitli zamanlarda ve farklı yerlerde gönderilmiştir. Peygamberimiz peygamberliği süresince ayetleri parça parça almaya devam etmiş ve her aldığı ayeti Allah'ın emri doğrultusunda insanlara aktarmıştır. 610 yılında ilk ayetlerin indirilmesiyle başlayan süreç Peygamberimizin 632'de vefatına kadar devam etmiştir. Ayetler çeşitli şekillerde sınıflandırılmıştır. Örneğin indirildikleri yere göre bazı ayetler Mekki, bazı ayetler ise Medeni olarak isimlendirilir.

**Verilen metinden Kur'an-ı Kerim'in indirilişi ile ilgili aşağıdakilerden hangisine ulaşamaz?**

- A) Yaklaşık 23 yıl boyunca ayetler inmeye devam etmiştir.  
B) Kur'an-ı Kerim'in bir kısmı Mekke'de bir kısmı ise Medine'de indirilmiştir.  
C) Vahyi insanlara aktarmak Peygamberimizin görevidir.  
D) İndirilen ayetlerde çoğunlukla ibadetlerden bahsedilmektedir.

11.



Görsel Mekkelilerin yaz ve kış yolculuklarının anlatıldığı bir sureyi açıklamak için hazırlanmıştır.

**Bu sure aşağıdakilerden hangisidir?**

- A) Kureys  
B) Maun  
C) Ayetel kürsi  
D) Fil

**12.** "Ona ne malı fayda verdi ne de kazandığı başka şeyler." Bu ayet, yaptığı kötü davranışlar için Kur'an-ı Kerim'de kötülünen bir kimse hakkında indirilmiştir. Ayetin geçtiği surenin genelinde de o kimsenin düşeceği kötü durum anlatılmaktadır.

**Bu kimse hakkında indirilen sure aşağıdakilerden hangisidir?**

- A) Kureyş
- B) Maun
- C) Nas
- D) Tebbet

**13.** "Vay haline o namaz kılanların haline"

**Bir ayetin anlamı yukarıda verilen surenin Türkçe meali içinde aşağıdakilerden hangisi bulunmaz?**

- A) Hayra da engel olurlar.
- B) Asıl soyu gelmeyecek olan, sana karşı nefret duyandır.
- C) İşte odur yetimi itip kakan;
- D) Onlar halka gösteriş yaparlar.

**14.** Kur'an-ı Kerim'deki surelerden birinde Allah'a şöyle söz veririz: "(Allahım) Yalnızca sana kulluk ederiz." Yine benzer bir ifade namazda okunan dualardan birinde şu şekilde geçer: "Allah'ım! Biz yalnız sana kulluk ederiz."

**Benzer ifadelerin geçtiği sure ve dua aşağıdakilerden hangisinde verilmiştir?**

- A) Fatiha – Kunut duası
- B) Kafirun – Salli barik duası
- C) İhlas – Tahiyat duası
- D) Kevser – Rabbena duası

**15.** Rabbinin, fil sahiplerine ne yaptığını görmedin mi? {1} Onların tuzaklarını boşa çıkarmadı mı? {2} Üzerlerine balçıktan pişirilmiş taşlar atan sürü sürü kuşlar gönderdi. Nihayet onları yenilmiş ekin yaprakları haline getirdi. {3-5}

**Bu surede verilen asıl mesaj aşağıdakilerden hangisidir?**

- A) Yenilgiyi de kabullenmek erdemdir.
- B) Allah'tan daha güçlü kimse yoktur.
- C) Tuzak kurmak doğru bir davranış değildir.
- D) Güçlü bir ordu düşmanı korkutur.

**16.** Aşağıdakilerden hangisi diğerlerinden farklı bir surenin Türkçe anlamı içinde yer almaktadır?

- A) Allah'ın yardımı ve fetih (Mekke fethi) geldiğinde
- B) Şimdi sen Rabbin için namaz kıl ve kurban kes!
- C) İnsanların bölük bölük Allah'ın dinine girdiğini gördüğünde
- D) Rabbine hamd ederek tespihte bulun ve O'ndan bağışlama dile.

**17.** Namazda okunan dualardan birinin sonunda Allah'ın bir olduğunu kabul ettiğimizi şu ifadeyle söyleriz: "Senin şanın yücedir ve senden gayri hiçbir ilâh yoktur."

**Parçada aşağıdaki dualardan hangisi hakkında bilgi verilmektedir?**

- A) Tahiyat duası
- B) Rabbena duaları
- C) Kunut duaları
- D) Subhaneke duası

**18.** I. Bize dünyada ve ahirette iyi hal ver ve bizi o ateş azabından korusun.

II. Allah'ım, Hz. Muhammed ve ailesini, Hz. İbrahim ve ailesini mübarek kıldığın gibi mübarek kıl.

III. Anne ve babamı ve müminleri de bağışla.

**Verilenlerden hangisi Rabbena dualarının Türkçe anlamı içinde yer almaktadır?**

- A) Yalnız II.
- B) I ve III.
- C) II ve III.
- D) I, II ve III.

**19.** "Bizi, kendisine nimet verdiklerinin yolu olan doğru yola ilet!"

**Türkçe anlamı yukarıda verilen ayetin içinde olduğu sure aşağıdakilerden hangisidir?**

- A) İhlas
- B) Maun
- C) Fatiha
- D) Kureyş

20. De ki: ".....; insanların kalplerine vesvese veren sinsi vesvesecinin kötülüğünden, insanların Rabbine, insanların Melek'ine, insanların İlah'ına sığınırım."

**Nas suresinin Türkçe anlamı içinde boş bırakılan yere aşağıdakilerden hangisi getirilmelidir?**

- A) Düğümlere üfürenlerin şerrinden  
B) Karanlığı çöktüğü zaman gecenin şerrinden  
C) Cinlerden ve insanlardan  
D) Yarattığı şeylerden gelebilecek kötülüklerden

21. Izhar: Tenvin veya sakin nun'dan sonra izhar harflerinden biri gelirse bu durumda izhar kuralı uygulanır ve nun harfi belli edilerek okunur.

**Aşağıdakilerden hangisinde bu kurala bir örnek bulunmaktadır?**

A)	وَالْفَجْرِ ﴿١﴾
B)	وَلَيَالٍ عَشْرٍ ﴿٢﴾
C)	وَالشَّفَعِ وَالْوَتْرِ ﴿٣﴾
D)	وَاللَّيْلِ إِذَا يَسْرٍ ﴿٤﴾

22.

اقْرَأْ وَرَبُّكَ الْأَكْرَمُ

**Yukarıdaki ayetten sonra aşağıdakilerden hangisi gelir?**

A)	الَّذِي عَلَّمَ بِالْقَلَمِ
B)	كَلَّا إِنَّ الْإِنْسَانَ لَيْطَغِي
C)	عَلَّمَ الْإِنْسَانَ مَا لَمْ يَعْلَمْ
D)	أَنْ رَأَاهُ اسْتَغْنَى

23.

قُلُوبٌ يَوْمَئِذٍ وَاجِفَةٌ

**Yukarıda altı çizili bölümlerde uygulanması gereken tecvid kuralları aşağıdakilerden hangisidir?**

- A) İdğam-ı bilâ ğunne  
B) Meddi Ârız  
C) Izhar  
D) İdğam-ı meal ğunne

24. Aşağıdaki ayetlerden hangisinde "lehû mâlen - kâne liâyâtinâ - nükezzibü" ifadelerinden herhangi birisi geçmemektedir?

A)	وَجَعَلْتُ لَهُ مَالًا مَمْدُودًا ﴿١٢﴾
B)	كَلَّا إِنَّهُ كَانَ لِإِيَاتِنَا عَنِيدًا ﴿١٦﴾
C)	وَكُنَّا نَحُوضُ مَعَ الْخَائِضِينَ ﴿٤٥﴾
D)	وَكُنَّا نَكْذِبُ بِيَوْمِ الدِّينِ ﴿٤٦﴾

25. Tabloda Hümeze suresinin bir bölümünü oluşturan ayetlerinin sırası karışık halde verilmiştir.

1	نَارُ اللَّهِ الْمُوقَدَةُ
2	يَحْسَبُ أَنَّ مَالَهُ أَخْلَدَهُ
3	الَّذِي جَمَعَ مَالًا وَعَدَّدَهُ
4	وَمَا أَدْرَاكَ مَا الْحُطَمَةُ
5	كَلَّا لَيُنْبَذَنَّ فِي الْحُطَمَةِ

**Bu bölümlerin doğru sıralaması aşağıdakilerden hangisidir?**

- A) 2 - 4 - 1 - 3 - 5  
B) 1 - 2 - 4 - 5 - 3  
C) 4 - 2 - 3 - 1 - 5  
D) 3 - 2 - 5 - 4 - 1

26.

مَنْ ذَا الَّذِي يَشْفَعُ عِنْدَهُ

Ayetel Kürsi'yi okuyan bir kimse en son yukarıdaki bölümü okumuştur.

**Buna göre bu kişinin yukarıdaki bölümden hemen önce okuduğu ifade aşağıdakilerden hangisidir?**

A)	إِلَّا بِإِذْنِهِ يَعْلَمُ مَا بَيْنَ أَيْدِيهِمْ
B)	وَمَا فِي الْأَرْضِ
C)	وَسِعَ كُرْسِيُّهُ السَّمَاوَاتِ
D)	وَلَا يُحِيطُونَ بِشَيْءٍ

27.

1	إِنَّ شَانِئَكَ هُوَ الْأَبْتَرُ
2	وَلَمْ يَكُنْ لَهُ كُفُوًا أَحَدٌ
3	الَّذِينَ هُمْ عَنْ صَلَاتِهِمْ سَاهُونَ
4	لَكُمْ دِينُكُمْ وَلِيَ دِينِ

**Yukarıda verilenlerden hangileri Maun suresi içinde yer alır?**

- A) Yalnız 3  
B) 1 ve 2  
C) 3 ve 4  
D) 1, 2 ve 3

**28. Aşağıdaki ayet bölümlerinden hangisi Fil veya Kureyş suresinin içinde yer almaz?**

A)	مِنْ جُوعٍ وَآمَنَهُمْ مِنْ خَوْفٍ
B)	عَلَيْهِمْ طَيْرًا أَبَابِيلَ
C)	كَعَصْفٍ مَأْكُولٍ
D)	وَلَمْ يَكُنْ لَهُ

**29. Kunut duaları iki bölümden oluşmaktadır. Kunut dualarını oluşturan aşağıdakilerden hangisi diğerlerinden farklı bölümde okunmaktadır?**

A)	وَ نُؤْمِنُ بِكَ وَ نَتُوبُ إِلَيْكَ
B)	نَرْجُو رَحْمَتَكَ وَ نَخْشَى عَذَابَكَ
C)	وَ إِلَيْكَ نَسْعَى وَ نَحْفِدُ
D)	إِنَّ عَذَابَكَ بِالْكَفَّارِ مُلْحِقٌ

30.

1	حَسَنَةً وَفِي الْآخِرَةِ حَسَنَةً
2	وَ الْبَعْثُ بَعْدَ الْمَوْتِ حَقٌّ
3	وَ لَكَ نُصَلِّي وَ نَسْجُدُ
4	إِنَّكَ حَمِيدٌ مَجِيدٌ

**Yukarıda verilenlerin içinde geçtiği dualar sırasıyla aşağıdakilerden hangisinde verilmiştir?**

- A) Amentü – Kunut – Rabbena - Salli Barik  
B) Rabbena - Amentü – Kunut – Salli Barik  
C) Kunut – Rabbena - Salli Barik - Amentü  
D) Salli Barik - Amentü – Kunut – Rabbena

**Sınav sona ermiştir. Cevaplarınızı kontrol etmeyi unutmayınız.**