



HAFIZİHO

Hafız Yetiştirme ve Akademik Başarıya Destekleme Projesi

2023

ÖRGÜN EĞİTİMLE BİRLİKTE HAFIZLIK PROJESİ SEVİYE BELİRLEME SINAVI

Adı Soyadı :

Okulu :

T.C. Kimlik No :

ALANLAR	SORU SAYISI	TOPLAM SORU SAYISI	SÜRE
TÜRKÇE	15	80 SORU	100 DAKİKA
MATEMATİK	15		
FEN BİLİMLERİ	10		
SOSYAL BİLGİLER	10		
DİN KÜL.AH.BİL. (SURE - DUA VE MEAL BİLGİSİ)	30		

1. Sınav süresince gözetmenlerin uyarılarına dikkat ediniz.
2. Sınav süresince kitap, sözlük veya elektronik araçları yanınızda bulundurmuyunuz.
3. Cevap kağıdınızdaki bilgilerin doğruluğunu kontrol ediniz.
4. Kitapçık üzerindeki ad-soyad, sınıf-no, okul bilgileriniz kodlamayı unutmayınız.
5. Cevap kağıdınız üzerinde bulunan kitapçık türünü doğru kodladığınızdan emin olunuz.
6. Sınavın değerlendirilmesi optik okuma araçları ve elektronik ortamda yapılacağından ikili veya toplu kopya çekilmesi tespit edilmektedir. Bu gibi durumlarda sınavınız geçersiz sayılacaktır.
7. Cevap kağıdı üzerinde kurşun kalemle işaretleme yapınız. Değiştirmek istediğiniz cevabınızı yumuşak silgi ile iz bırakmadan siliniz. Cevap kağıdınızı buruşturmayınız ve katlamayınız.
8. Soru kitapçığınızı sınav başlamadan kontrol ediniz. Eksik sayfa varsa değiştirilmesini isteyiniz.
9. Sınav bitiminde cevap kağıdınızı teslim etmeyi unutmayınız. Her sorunun bir doğru cevabı bulunmaktadır.
10. Başlayınız denilmeden kitapçığınızı açmayınız.
11. Üç yanlış cevap bir doğru cevabı götürmektedir.
12. ÖNEMLİ: TC Kimlik numaranızı cevap formu üzerindeki alana dikkatli kodlayınız.

© Her hakkı saklıdır. İzinsiz kopyalanamaz, alıntı yapılamaz, yayımlanamaz.

1. Yusuf Ağa Kütüphanesi; Konya'nın Karatay ilçesinde, Sultan Selim Câmîi'nin batı yönüne bitişik, içinde değerli yazma eserlerin bulunduğu önemli bir kütüphanedir. İlmî araştırmalar yapmak isteyen pek çok kimsenin sıkça ziyaret ettiği bir yerdir. Osmanlı Devleti zamanında Sultan III. Selim döneminde devlet görevlilerinden biri olan Yusuf Ağa tarafından yaptırılmıştır. Dış ve iç yüzünde bulunan altı kitabeden anlaşıldığına göre bina 1795'te inşa edilmiştir. Bina, Gödene taşından inşa edilmiş ve üzeri kurşunlu bir kubbe ile örtülmüştür. Kütüphane hafta içi hizmet vermektedir. Kütüphanede 3 bini aşkın elyazması ile 8 bini aşkın basılı eser bulunmaktadır. Elyazması eserlerin tamamı dijital ortama aktarılmış olup araştırmacıların hizmetine sunulmuştur.

Metinde Yusuf Ağa Kütüphanesi ile ilgili aşağıdakilerden hangisine değinilmiştir?

- A) Bulunduğu il, ilçe ve konum
B) Ne zaman ve kim tarafından yaptırıldığı
C) Yapımında kullanılan bazı malzemeler
D) Ziyaretçilerin en yoğun olduğu gün

2. İnsan bedeninin yeme içmeye nasıl ihtiyacı varsa aklının da bilgi edinme ve öğrenmeye ihtiyacı vardır. Bedensel ihtiyaçlarımızı besinlerden alırız. Aklımızın ihtiyacı olan bilgiyi ise bilgi kaynaklarından alırız. Kitaplar da bu bilgi kaynakları arasındadır.

Verilen metin anlamca aşağıdakilerden hangisine benzemektedir?

- A) Kitapsız büyüyen çocuk susuz yetişen ağaca benzer.
B) İnsanın bedensel ihtiyaçlarını karşılamak çok çaba gerektirir.
C) Okumak ile yazma arasında büyük benzerlikler vardır.
D) Akıl yönünden kendini geliştirenlerin bedenleri de sağlıklı olur.

3. Aşağıdakilerden hangisinde karşıt anlamlı kelimeler aynı cümle içinde kullanılmıştır?

- A) Kırmızısıyla beyazıyla dalgalansın şanlı bayrağım.
B) Soğuk geçen bir sonbaharın ardından daha da soğuk bir kış bekleniyor.
C) Aklımdaki düşünceler nedeniyle başım çatlayacak gibi ağrıyordu.
D) Geleceğe güvenle bakmak isteyenler geçmişten ders almalıdır.

4. Mecaz, bir sözcüğün gerçek anlamından uzaklaşarak kazandığı yeni anlamlarla kullanılmasıdır. Başka bir deyişle bir kelimenin gerçek anlamı dışında farklı bir anlamda kullanılmasıdır.

Buna göre aşağıdaki altı çizili kelimelerden hangisi mecaz anlamda kullanılmıştır?

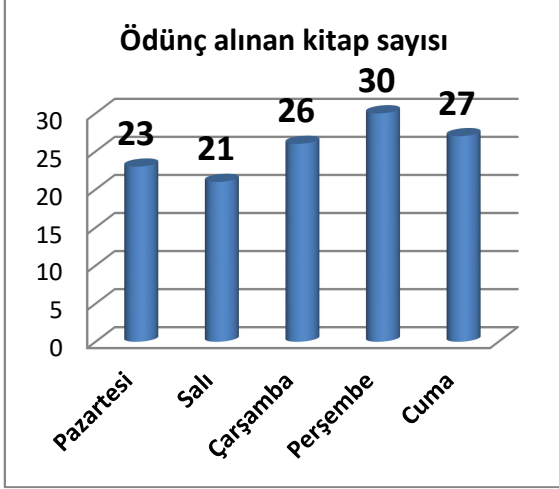
- A) Hafta sonu itibarıyla soğuk ve yağışlı bir hava bizi bekliyor.
B) Sanırım bana kızmış çünkü beni hiç bu kadar soğuk karşılamazdı.
C) Sobadaki ateş sönünce evin içi iyice soğudu.
D) Yemeğin soğumasını beklerken koyu bir sohbeta dalmışız.

5. Yansıma, doğada bulunan canlı veya cansız varlıklara ait olan seslerdir. Bu seslerin çıkarılma biçimleri sözcükler ile ifade edilmiştir. Bu şekilde ifade edilen sözcüklere yansıma sözcük adı verilir.

Buna göre aşağıdakilerden hangisindeki altı çizili bölüm yansıma sözcüklere örnektir?

- A) Futbolseverler hep bir ağızdan şampiyonluk şarkıları söylediler.
B) Arabanın içindeki titreşim ve yolun bozukluğu hepimizi çok yordu.
C) Ocaktaki çaydanlığın fokur fokur kaydığını fark ettik.
D) Konuklar yavaş yavaş kapıya doğru yöneliyordu.

6. Bir okul kütüphanesinden hafta içinde ödünç alınan kitap sayısını gösteren grafik aşağıda verilmiştir.



Bu grafiğe göre aşağıdakilerden hangisine ulaşamaz?

- A) Hafta içi ödünç alınan toplam kitap sayısı
 B) En çok kitabın hangi gün ödünç alındığı
 C) En az ödünç kitap alınan günün salı olmasının nedeni
 D) Hafta içi günlük ortalama kaç kitap ödünç alındığı

7. Virgül;

- Sıralanan eş görevli kelime ve kelime grupları arasında yer alır.
- Art arda gelen, birbiri ile bağlantılı cümleleri ayırmak için konur.
- Cümle içinde anlam karışıklığını gidermek için kullanılır.

Buna göre aşağıdakilerden hangisinde virgül, cümle içinde anlam karışıklığını gidermek için kullanılmıştır?

- A) İhtiyar, balıkçıların yanından hızla uzaklaşmaya çalışıyordu.
 B) Evden hızlıca çıktım, kösedeki durağa yetişmeye çalışıyordum.
 C) Hakemler, futbolcular ve teknik direktörler maç öncesi bir araya geldi.
 D) Küçük bir okulun kapısındaki veliler, öğrenci ve öğretmenler zilin çalmasını bekliyordu.

8. Bu kitabı ondan daha güzel ve özenli ciltleyecek bir başkasını bulamazsınız.

Verilen cümlede aşağıdakilerden hangisine örnek bulunmaktadır?

- A) Neden sonuç ilişkisi
 B) Karşılaştırma
 C) Benzetme
 D) Hikayeleştirme

9. Ev alma, komşu al demişler. Ne kadar güzel bir sözdür. Çünkü başın sıkıştığında veya darda kaldığında en yakınındaki insanlar onlardır. Hastalık, cenaze ve türlü üzüntülü durumlarda birbirinin yardımına koşmaları gerekenler de öncelikle onlardır.

Parçadaki konu aşağıdaki atasözlerinden hangisiyle doğrudan ilişkilidir?

- A) Sakla samanı, gelir zamanı.
 B) Tencere dibin kara, seninki benden kara.
 C) Dost, dostun ayıbını yüzüne söyler.
 D) İyi dost kara günde belli olur.

10. Bir siteye yeni üyelik başvurusunda bulunmak isteyen bir müşteri üyelik formu doldurmaktadır. Sıra şifresini belirlemeye geldiğinde ise karşısına şöyle uyarılar çıkmıştır:

- Şifreniz en az dört, en çok sekiz karakter olmalıdır.
- Şifrenizde en az bir büyük harf ve en az bir rakam olmalıdır.
- Şifrenizde noktalama işaretlerinden en az bir adet bulunmalıdır.

Buna göre aşağıdakilerden hangisi şifre olarak belirlenebilir?

- A) Ke285.1f
 B) §§20,20k
 C) PCR45394
 D) KTRdesVf.32

11. I. Dünyanın türlü türlü hali var.
II. Adamın bana dünya kadar borcu var.
III. Güneş ışınları dünyaya dik geldiğinde sıcaklıklar artar.

Altı çizili kelimelerden hangisinde yazım hatası yapılmıştır?

- A) Yalnız I.
B) Yalnız III.
C) I. ve II.
D) II. ve III.

12. Otobüs → Şoför
Uçak → Pilot

Yukarıda verilen kelime grupları arasında anlamca bir ilişki bulunmaktadır.

Buna göre aşağıdaki kelime grupları arasında hangisinde benzer bir anlam ilişkisi bulunmaktadır?

- A) Araba → Tamirci
B) Gemi → Kaptan
C) Tren → İstasyon
D) Bisiklet → Tekerlek

13. Yapım ekleri, getirildikleri kelimelere yeni bir anlam kazandıran eklerdir. Bu ekler kimi zaman isimlere, kimi zaman da fiiller getirilerek ondan yeni bir kelime oluşmasını sağlar. Ancak her ek, yapım eki değildir ve sonuna getirildiği kelimeyi yeni bir kelime yapmaz.

Buna göre aşağıda altı çizili kelimelerden hangisi yapım eki almamıştır?

- A) Köydeki herkes oluşturulacak ortak odunluk için evinden bir parça odun getiriyordu.
B) Devlet, bakıma muhtaç kimseleri araştırmak üzere bazı kişileri görevlendirdi.
C) Fırtınalı bir günde denize açılan balıklar kısa bir süre sonra geri döndüler.
D) Bir günlük de olsa insanın aklını rahatlatacak işler yapması gerekir.

14. Yazılışları farklı ancak anlamları aynı olan kelimelere eş anlamlı kelimeler denir. Eş anlamlı kelimeler, cümlede birbirlerinin yerine kullanılabilirler. Örneğin "Şehre tam girerken önümüze aniden bir koyun sürüsü çıktı da durup beklemek zorunda kaldık." cümlesinde "**aniden**" sözcüğünün yerine kelimesi kullanılabilir.

Metinde boş bırakılan yere aşağıdakilerden hangisi getirilebilir?

- A) Yalnızca
B) Habersizce
C) Birdenbire
D) Çoğunlukla

15. Bu öğrenci, en başarılı zamanlarını düzenli çalışmayı öğrendiği rehberlik çalışmasından sonra yaşadığı başarılı olmanın en başta gelen yolu düzenli çalışmadır.



Cümlede boş bırakılan yere aşağıdakilerden hangisinin getirilmesi uygundur?

- A) Ama
B) Veya
C) Yoksa
D) Çünkü

Türkçe testi sona ermiştir. Lütfen diğer teste geçiniz.

Cevap formunuzda cevaplarınızı bir sonraki bölüme kodlayınız.

1.

Gül (Tek): 35 TL	Gül (Vazolu): 65 TL
	

Bir çiçekçide satışta olan tek gül ve vazolu gül fiyatları yukarıdaki tabloda verilmiştir. Bu çiçekçide bir hafta içinde 42 adet tek gül, 18 adet vazolu gül satılmıştır.

Buna göre çiçekçinin bu satıştan elde ettiği para kaç TL olmuştur?

- A) 2340
- B) 2450
- C) 2520
- D) 2640

2. En yakın yüzlüğe yuvarlanmış hâli 600 olan doğal sayının en yakın onluğa yuvarlanmış hâli de 600'dür.

Buna göre bu sayı en fazla kaç olabilir?

- A) 591
- B) 599
- C) 604
- D) 605

3. Başlangıcı 9 olan ve yedişer artarak devam eden sayı örüntüsünün herhangi bir adımında aşağıdaki sayılardan hangisi bulunmaz?

- A) 23
- B) 37
- C) 52
- D) 65

4.

SEVGİ → 62735

SAYGI → 61834

Yukarıda verilen sözcüklerin her bir harfi sırasıyla karşılardaki sayıların rakamlarına karşılık gelecek şekilde eşleştirilmiştir.

Buna göre "GİYSİ" sözcüğünün eşleştiği sayının G ve Y harflerine karşılık gelen rakamlarının basamak değerleri toplamı aşağıdakilerden hangisidir?

- A) Otuz bin sekiz yüz
- B) Elli bin sekiz yüz
- C) Otuz sekiz bin
- D) Üç bin beş yüz

5. Aşağıdaki tabloda Konya'nın üç ilçesinin nüfus bilgisi yer almaktadır.

İlçe	Nüfus
Beyşehir	Yetmiş yedi bin yüz otuz yedi
Çumra	Altmış yedi bin altı yüz otuz bir
Seydişehir	Altmış beş bin üç yüz seksen bir

Buna göre Çumra ve Seydişehir'in birlikte toplam nüfusu Beyşehir'in nüfusundan kaç fazladır?

- A) Kırk iki bin sekiz yüz otuz altı
- B) Elli beş bin sekiz yüz yetmiş beş
- C) Altmış iki bin altı yüz yirmi
- D) Yetmiş dokuz bin üç yüz seksen yedi

6. 0, 1, 4, 5, 6, 7 rakamlarını birer kez kullanarak oluşturulabilecek 6 basamaklı **en küçük tek sayı** ile **en büyük çift sayı** nın toplamı aşağıdakilerden hangisidir?

- A) 779977
- B) 869977
- C) 765243
- D) 872125

7. Evini boyatmak isteyen bir aile, bir boyacı ile boyanacak duvarların metrekaresini 23 TL'den boyaması için anlaşır. Evin duvarlarının alanı toplam 325 metrekaredir. Ancak henüz iş başlamadan evin bir odasını boyatmaktan vazgeçerler. Vazgeçilen bu odanın alanı 40 metrekaredir.

Son duruma göre ailenin boyacıya ödemesi gereken para miktarı aşağıdakilerden hangisidir?

- A) 6555 TL
B) 7475 TL
C) 8395 TL
D) 11400 TL

8.

$52458 < 5\Delta 342 < 56524$ karşılaştırmasında Δ bir rakamdır.

Buna göre Δ yerine yazılabilecek rakamların sayı değerleri toplamı aşağıdakilerden hangisidir?

- A) 7
B) 12
C) 18
D) 25

9. Bir ekmek fırınında bir gün içinde üretilen ekmekler kasalara konarak satışa çıkarılacaktır. Her birine 22 adet ekmek konulabilen 46 ekmek kasası, ekmekle doldurulmuştur. Ancak geriye 13 ekmek kalmıştır. Her bir ekmeğin satış fiyatı 4 TL olup gün sonunda 72 ekmek dışında diğer ekmeklerin tamamı satılmıştır.

Buna göre bu fırının gün içinde ekmek satışından elde ettiği para kaç TL'dir?

- A) $(3 \times 1000) + (3 \times 100) + (8 \times 10) + (3 \times 1)$
B) $(3 \times 1000) + (8 \times 100) + (1 \times 10) + (2 \times 1)$
C) $(4 \times 1000) + (1 \times 100) + (1 \times 10) + (6 \times 1)$
D) $(4 \times 1000) + (2 \times 100) + (6 \times 10) + (3 \times 1)$

10.

Ürün	Fiyat
Gömlek	125 TL
Pantolon	240 TL
Kazak	200 TL
Palto	450 TL
Ayakkabı	180 TL

Bir giyim mağazasındaki bazı ürünlere ait fiyatlar yukarıda verilmiştir.

Buna göre aşağıdaki müşterilerin hangisi diğerlerinden daha az harcama yapmıştır?

- A) Kadir: "Bir gömlek, iki kazak ve bir ayakkabı aldım."
B) Burak: "Bir gömlek, bir kazak ve bir palto aldım."
C) Emin: "İki gömlek, bir palto ve bir ayakkabı aldım."
D) Muammer: "İki gömlek, bir kazak ve bir pantolon aldım."

11. Öğretmen sınıfa şöyle söyler: "Bir sayı düşünün. Bu sayı dört basamaklı en büyük çift sayı olsun. Ancak rakamları birbirinden farklı olsun ve aynı zamanda 6'ya tam bölünebilsin."

Buna göre öğretmenin istediği bu sayı aşağıdakilerden hangisidir?

- A) 9998
B) 9086
C) 9876
D) 9990

- 12.** Dört basamaklı iki sayı birbiriyle toplandı-
ğında sonuç 10435 olarak bulunuyor. Bu
sayılardan biri 4543'tür. Sonrasında iki
sayı da en yakın yüzlüğe yuvarlanıp top-
lama işlemi tekrar yapılıyor.

**Buna göre yuvarlama işleminin ar-
dından yapılan toplama işlemi sonucu
aşağıdakilerden hangisidir?**

- A) 10300
B) 10400
C) 10500
D) 10600

13.

$$\begin{array}{r} 1652 \overline{) 38} \\ - 152 \quad \overline{) 43} \\ \hline 132 \\ - 114 \\ \hline 18 \end{array}$$

**Yukarıdaki verilen bölme işleminin
sağlaması aşağıdakilerden hangisi-
dir?**

- A) $(38 \times 43) + 18 =$
B) $(38 \times 18) + 43 =$
C) $(43 \times 18) - 38 =$
D) $(38 \times 43) - 18 =$

- 14.** Bir matbaada üç farklı boyda basılan ki-
taplar, boyutu aynı olan kutulara konula-
rak gönderilecektir. Bir kutuya büyük boy
kitaplardan 25, orta boy kitaplardan 35
ve küçük boy kitaplardan ise 40 adet
sığmaktadır. Kutulara konulacak kitap sa-
yısı ise şu şekildedir:

Büyük boy kitap: 1200 adet

Orta boy kitap: 1400 adet

Küçük boy kitap: 1200 adet

**Buna göre taşıma işlemi için kaç adet
koli gerekmektedir?**

- A) 108
B) 113
C) 118
D) 123

- 15.** Bir bilgisayar programı, klavye aracılığıyla
girilen sayıya bazı işlemler uygulayarak
ondan yeni bir sayı elde etmektedir. Aşa-
ğıda klavyeden bir sayı girdikten sonra
bilgisayar programının uyguladığı işlemler
zinciri verilmiştir.

1.adım: Girilen sayıyı oku

2.adım: Sayının 2564 eksiğini bul

3.adım: Sonucun 1483 fazlasının bul

4.adım: Elde edilen sayısı ekrana yaz.

**Bu programa göre klavyeden 3845
sayısı girildiğinde son adımda ekran-
da yazan sayı kaç olur?**

- A) 3485
B) 2764
C) 2678
D) 2898

**Matematik testi sona ermiştir. Lütfen di-
ğer teste geçiniz.**

**Cevap formunuzda cevaplarınızı bir son-
raki bölüme kodlayınız.**

1.



Bir ramazan günü İstanbul'dan Van'a uçakla giden bir yolcu, şöyle bir durumla karşılaşır. Bir gün önce İstanbul'da orucunu saat 19.10'da açarken ertesi gün Van'da 18.14'te açmıştır. Çünkü Van'da güneş battığında henüz İstanbul'da güneş tam olarak batmamıştır.

Bunun nedeni aşağıdakilerden hangisidir?

- A) Ayın Dünya çevresindeki dolanım süresi
- B) Gece ve gündüzün birbirini takip etmesi
- C) Dünya'nın kendi çevresi etrafındaki dönüş yönü
- D) Dünya'nın Güneş çevresindeki bir tam dolanım süresi

2.



Görselde farklı renklere sahip olan çeşitli kayaç örnekleri verilmiştir.

Yukarıdaki kayaçların farklı renklere olmasının nedeni aşağıdakilerden hangisidir?

- A) İçerdikleri mineraller
- B) Buldukları bölgelerin farklılığı
- C) Soğuk iklim koşullarında oluşmaları
- D) Oluşumlarının eski ya da yeni olması

3.



Görseldeki araç, içinde bulunan sıvı bir madde ile çalışmaktadır. Bu madde aynı zamanda doğada sıvı halde bulunan tek maden olarak da bilinir.

Bu araçta kullanılan sıvı madde aşağıdakilerden hangisidir?

- A) Alüminyum
- B) Çinko
- C) Kurşun
- D) Cıva

4. Fosiller;

I. Canlılık özelliğini kaybetmemiş bitkilerden meydana gelirler.

II. Oluşmaları için uzun bir zaman geçmelidir.

III. Geçmiş ile ilgili örneğin nesli tükenmiş hayvanlarla ilgili bilgiler verirler.

Fosillerle ilgili yukarıda verilen bilgilerden hangisi doğrudur?

- A) Yalnız I
- B) I ve II
- C) II ve III
- D) I, II ve III

5. Sağlıklı ve dengeli bir beslenme programı uygulamak isteyen bir çocuk, kendisine şöyle bir program yapar:

Sabah: Tereyağı, bal, yumurta, süt, kremalı pasta, ekmek

Öğle: Domates çorbası, kızarmış tavuk, gazoz, mevsim salatası

Akşam: Kuru fasulye, pilav, patates cipsi, yoğurt

Bu öğrencinin beslenme programının daha sağlıklı olması için aşağıdakilerden hangisini öğün listesinden çıkarması gerekmez?

- A) Kremalı pasta
- B) Patates cipsi
- C) Tereyağı
- D) Gazoz

6.



Vitaminler sağlığı korumada etkili maddelerdir. Bağışıklığın güçlenmesi, hastalıklara karşı direncin artırılması ve hastalıkların geçmesinde etkili rol oynarlar. Örneğin nezle ve grip olan bir kimseye C vitamini açısından zengin besinleri tüketmesi tavsiye edilir.

Metindeki tavsiyeye uymak isteyen kimse görseldeki piramidin kaçınıc katındaki besinleri daha çok tüketmelidir?

- A) 1. Kat (Tahıllar)
- B) 2. Kat (Meyve - sebze)
- C) 3. Kat (Süt ürünleri, peynir-yoğurt)
- D) 4. Kat (Et ürünleri)

7. I. Alkol başta karaciğer olmak üzere birçok organa zarar verir.

II. Sigaranın en çok zarar verdiği organların başında mide gelir.

III. Sigarada nikotin gibi birçok zararlı madde vardır.

IV. Alkol bağımlılığı olan insanların beyin hücreleri zarar görür.

Bağımlılıklarla ilgili yukarıda verilenlerden hangisi doğrudur?

- A) Yalnız I
- B) I ve III
- C) II ve IV
- D) I, III ve IV

8. Bir sürücü direksiyon başına geçip gaza bastı. Araçla bir süre yol aldıktan sonra frene bastı. Biraz yavaşladıktan sonra direksiyonu çevirip sağa dönüp ileride bir yerde aracı park etti.

Bu metinde kuvvetin etkilerinden hangisine örnek verilmemiştir?

- A) Hızlandırıcı
- B) Yön değiştirici
- C) Şekil değiştirici
- D) Yavaşlatıcı

9.



Görseldeki testilerin yapımında aşağıdaki maddelerden hangisi kullanılmaktadır?

- A) Kil
- B) Kireç
- C) Kuvars
- D) Alçı taşı

10. Kobalt, nikel ve demir gibi maddeler ile beraber bunlar üzerinden hazırlanmış ürünleri çeken ya da iten maddelerdir. Farklı kutupları bulunur ve bu kutuplara bağlı olarak çekme ya da itme gücüne sahiptir. Karışım içindeki demir gibi maddeleri ayırtmak için de kullanılır.

Hakkında bilgi verilen madde aşağıdakilerden hangisidir?

- A) Çelik
- B) Mıknatıs
- C) Folyo
- D) Kayaç

Fen Bilimleri testi sona ermiştir. Lütfen diğer teste geçiniz.

Cevap formunuzda cevaplarınızı bir sonraki bölüme kodlayınız.

1. Aile tarihini oluşturmak isteyen bir kimse bu çalışmasında ailesiyle ilgili bazı yazılı kaynak ve görsel öğelerden de yararlanmak istemiştir.

Buna göre bu kimsenin aşağıdakilerden hangisini bu çalışmada kullanması gerekmez?

- A) Yeni eğitim yılı için verilen ders kitabı
B) Dedesinin gönderdiği asker mektubu
C) Ailesinin yer aldığı eski bir fotoğraf
D) Babasının lise diploması

2. Paris Saint Germain-Başakşehir futbol maçında maçın dördüncü hakemi, Başakşehir kulübünün yardımcı antrenörü Pierre Webö'ya ırkçı söylemde bulundu. Bunun üzerine sahada rakip de olsa iki takım da maça çıkmama kararı aldı. Bu olay manşetlere taşındı ve herkes bu kararı destekledi. Çünkü ...

Parçanın akışına göre metin aşağıdakilerden hangisi ile devam ettirilmelidir?


- A) Farklılıklara saygı göstermek insan onuruna daha uygundur.
B) Doğuştan gelen farklılıklar üstünlük veya eksiklik değildir.
C) Her insanın doğuştan eşit haklara sahip olmaya hakkı vardır.
D) Herkesin aynı ten rengine sahip olmasıyla daha huzurlu bir toplum oluruz.

3. Kültürümüzün bir parçası olan aşık oyununa adını veren kemik, koyun keçi ve danaların ön dizlerinde bulunan bir eklem kemiğidir. Kültürümüzün bir diğer parçası olan horon ise Karadeniz bölgemizde çok sık oynanan hareketli bir halk oyunudur. Oyundaki hareketlerin hızlı olmasında dalgalı ve hırçın bir deniz olan Karadeniz'in de payı vardır.

Verilen metinden aşağıdakilerden hangisine ulaşılabilir?

- A) Horon, sadece Karadeniz'de oynanan bir halk oyunudur.
B) Kültürümüzde doğanın etkileri görülmektedir.
C) Ülkemizde en çok oynanan oyunlar horon ve aşiktir.
D) Oyunlarımız her geçen gün önemini kaybetmektedir.

4. Ceren'in ailesi hafta sonu bir gezi planlamaktadır. Nereye gidileceği ile ilgili Ceren'in de fikrini almak isterler. Ceren ise kendini bize şöyle tanıtmaktadır.



Merhaba arkadaşlar! Adım Ceren. Yeni aldığım fotoğraf makinesi ile güzel kareler çekmeyi seviyorum. Yalnızca ailem ve arkadaşlarımla fotoğrafını değil, doğal bitki

örtüsü ile güzel yerlerin fotoğraflarını da çekmeyi seviyorum. Ağaçların, çiçeklerin ve böceklerin fotoğraflarını çekmekten de çok hoşlanıyorum. Hafta sonu gezimiz için buna uygun bir düşüncem var.

İlgi alanları göz önünde bulundurulduğunda hafta sonu gerçekleşecek gezi planı için Ceren aşağıdakilerden hangisini söylemiş olmalıdır?

- A) Alışveriş merkezinde gezelim.
B) Eğlence alanında oynayalım.
C) Tabiat parkında dolaşalım.
D) Evde film izleyelim.

5. Feyza, babasıyla bir devlet dairesinde işlemlerini yaptırır. Görevliler, kimlik kartı sayesinde Feyza'nın babasının parmak izi bilgilerine de ulaşmıştır. Babası, Feyza'ya: "Yeni kimlik kartlarımızdaki hangi özellikte parmak izimizin yüklü olduğunu biliyor musun?" diye bir sorar.

Buna göre Feyza'nın vereceği cevaplardan hangisi doğrudur?

- A) Parmak izimiz, TC Kimlik No bölümüne bakılarak anlaşılabilir.
B) Kimliğimizdeki "Seri No" bölümünden parmak izimize ulaşılabilir.
C) Elektronik Çip bölümünde, parmak izimiz kayıt altına alınmıştır.
D) Parmak izimizle ilgili bilgiler Sıra Numarası kısmından öğrenilebilir.

6. Sakarya Zaferi tarihimizdeki dönüm noktalarımızdan biridir. Bu savaş yalnızca savaş meydanında kazanılmamıştır. Cephe gerisinde de savaşan askerlerimize silah, cephane ve yiyecek taşıyan binlerce insanımız pek çok fedakârlıklar göstermiştir. Onlardan biri de Kastamonu'nun İnebolu ilçesinden Ankara'ya cephane taşırken donarak şehit olan bir kahramanımızdır. Top mermileri ıslanmasın diye sahip olduğu örtüleri onlara örtüp kendisi donarak şehit olmuştur.

Parçada anlatılan milli kahramanımız aşağıdakilerden hangisidir?

- A) Şerife Bacı
B) Hasan Tahsin
C) Yörük Ali Efe
D) Tayyar Rahmiye Hanım

7. Etnografya müzeleri, buldukları yörenin milli kültür öğelerini içinde barındıran ziyaret yerleri olarak öne çıkar. Bu müzelerde geçmişte milletimiz tarafından kullanılan pek çok kültürel eser sergilenmektedir.

Buna göre ülkemizdeki etnografya müzelerinde aşağıdakilerden hangisinin milli kültür öğemiz olarak bulunduğu söylenemez?

- A) Osmanlı dönemi asker elbisesi
B) Eski bir Isparta halısı
C) El işlemeli Denizli havlusu
D) İspanyol bir ressamın ait tablo

8. Kurtuluş Savaşı'mızda Güney Cephesi olarak adlandırılan bölgede Osmaniye, Maraş, Urfa ve Antep savunmaları tarihe geçmiş direniş destanlarıdır. Bu destanlar, bu cephelerde savaşmış pek çok kahramanı ortaya çıkarmıştır.

Aşağıdakilerden hangisi bu cephede savaşan kahramanlarımızdan değildir?

- A) Ali Saip Bey
B) Şahin Bey
C) Nene Hatun
D) Tayyar Rahmiye Hanım

9. Gökhan, önceki hafta bir günlüğüne geziye gitmişti. Gökhan'ın yaşadığı yere ait günlük sıcaklık ve yağış tablosu aşağıda verilmiştir.

TARİH	Hadise	Sıcaklık (°C)	
		En Düşük	En Yüksek
01 Mart Pazartesi		2	6
02 Mart Salı		-2	9
03 Mart Çarşamba		-1	10
04 Mart Perşembe		-1	10

Gökhan'ın geziye gittiği günde;

- Havanın en düşük sıcaklığı sıfırın altındaki değerlerdedir.
- Herhangi bir yağış olmamıştır.
- Havanın en yüksek sıcaklığı 10 derecenin altındadır.

Verilen bilgilere göre Gökhan'ın geziye gittiği gün aşağıdakilerden hangisidir?

- A) Pazartesi
B) Salı
C) Çarşamba
D) Perşembe

10. Bilinçli bir tüketicinin markette gereksiz alışveriş yapmasının önüne geçecek davranış aşağıdakilerden hangisidir?

- A) Ürünlerin doğaya zarar verip vermediğini kontrol edilmesi
B) Aldığımız ürünlerin ambalajının yırtık olmamasına dikkat edilmesi
C) Organik ürünlerin tercih edilmesi
D) Markete gitmeden önce alışveriş listesi hazırlanması

Sosyal Bilgiler testi sona ermiştir. Lütfen diğer teste geçiniz.

Cevap formunuzda cevaplarınızı bir sonraki bölüme kodlayınız.

1. Günlük yaşam içinde kullandığımız bazı kelime ve ifadelerin kaynağı dinimizdir. Bu ifadeler hem dini bir özellik taşır hem de kültürümüzün bir parçası haline gelmiştir.

Aşağıdakilerden hangisi bu ifadelere örnek gösterilemez?

- A) Balıkçıların "Vira Bismillah" demesi
B) Su içtikten sonra "Elhamdülillah" denilmesi
C) Çocukların "Haydi oyun oynayalım" demesi
D) Yeni doğan bir bebek için "Maşallah" denmesi

2. Bir hafız Kur'an-ı Kerim okumaya başlarken okumanın başlangıcında "Eûzübillâhimineşşeytânirracîm, Bismillâhirrahmânirrahîm" sözünü söylemiştir.

Hafızın Kur'an okumaya başlarken söylediği sözler ile ilgili aşağıdakilerden hangisi doğrudur?

- A) Kovulmuş şeytandan Allah'a sığınmıştır.
B) Kur'an okuyabildiği için hamd etmektedir.
C) Okumanın başlangıcında dinleyenlere dua etmiştir.
D) Topluluğa selam vererek başlamaktadır.

3. Barış, esenlik, huzur, emniyet ve güven gibi anlamlara gelir. İslam" aynı kökten türemiştir. Bu sözü söyleyen kimseler karşılıklarına "bana güvenebilirsiniz, benden size zarar gelmez. Sizin için huzur ve esenlik diliyorum." mesajını vermiş olurlar.

Aşağıdakilerden hangisinde bu metinde anlatılan kavram bulunmaktadır?

- A) "Biriniz yemek yerken besmele çeksin..." (Ebu Davud)
B) "İnsanlara teşekkür etmeyi bilmeyen Allah'a da şükredemez." (Tirmizi)
C) "Yaratan Rabbinin adıyla oku!" (Alak/1)
D) "Çok merhametli olan Rab'den bir söz olarak (kendilerine) "Selam" (vardır)." (Yasin/58)

4. Hata ve günahlarımızın bağışlanması için Allah'a özel bir ifadeyle dua ederiz. "Allah'tan af ve bağışlanma dilerim." anlamına gelen bu ifade ile O'nun affediciliğine sığınmış oluruz.

Metinde açıklanan bu ifade aşağıdakilerden hangisidir?

- A) Sallallahu Aleyhi ve Sellem
B) Elhamdu lillah
C) Estağfirullah
D) La ilahe illallah

5. Kurban Bayramı'nın birinci gününden önceki güne Arife günü denilir. Arife günü sabah namazından başlayarak Kurban Bayramı'nın dördüncü günü ikinci namazına kadar her farz namazdan sonra tekbir getiririz. Bu tekbirlere "teşrik tekbiri" denilir.

Aşağıdakilerden hangisi bu tekbirin bölümlerinden biri değildir?

- A) Allahu ekber ve lillahi'l-hamd.
B) Elhamdu lillahi Rabbil alemin.
C) Lâ ilâhe illallahu vallahu ekber.
D) Allahu ekber Allahu ekber,

6. Nasreddin Hoca evden çıkarken hanımına "Akşama gelirim. Sen yemeği hazır et!" demiş. Hanımı da "İnşallah de, efendi. Selametle git." demiş. Hoca ise "Hanım, inşallahı maşallahı yok. Sen yemeği hazır et!" demiş. Ancak başına olmadık türlü aksilikler geldikten sonra Hoca akşam eve perişan halde dönmüş. Kapıya vurmuş ve demiş ki: "Hanım aç kapıyı. İnşallah ben geldim."

Metinde Hoca'nın uyarıldığı kavramın karşılığı aşağıdakilerden hangisidir?

- A) Allah'ın izin verirse olur.
B) Allah en yücedir.
C) Allah'tan başka ilah yoktur.
D) Allah'ın adıyla başlarım.

7. İslam dinine göre Allah tektir ve eşi, benzeri yoktur. O, Kur'an-ı Kerim'den önce de Tevrat, Zebur ve İncil göndermiştir. Tüm bu kitapların asıl hallerinin Allah tarafından gönderildiğine inanmak Müslüman olmanın gereğidir. Ayrıca onların gönderildiği peygamberlerin de Allah tarafından gönderildiğine inanmak İslam'ın emridir.

Bu metinde iman esaslarından hangisine değinilmemiştir?

- A) Kitaplara iman
- B) Allah'a iman
- C) Ahirete iman
- D) Peygamberlere iman

8. I. Dünyada yapılanların hesap sorulacağı bir karşılık mutlaka olacaktır.

II. Allah'ın huzurunda toplandığımız gün hepimizin sevap ve günahları tartılacak.

III. Hz. Cebrail, Kur'an'ın ilk ayetlerini Hira Mağarasında getirdi.

Verilenlerden hangisi Ahiret inancı ile doğrudan ilgilidir?

- A) Yalnız I.
- B) I ve II.
- C) II ve III.
- D) I, II ve III.

9. "Ey iman edenler! Allah'a karşı gelmekten sakınmanız için oruç, sizden öncekilere farz kılındığı gibi size de farz kılındı." (Bakara/183)

"...Namazı dosdoğru kılın; çünkü namaz müminler üzerine vakitleri belli bir farzdır." (Nisa/103)

Verilen ayetlerde namaz ile orucun hangi ortak özelliğine doğrudan dikkat çekilmektedir?

- A) Özellikle zengin Müslümanlara emredildiklerine
- B) İmkânı olmayanların yapmayabileceğine
- C) Ahirette karşılıklarının cennet olduğuna
- D) Kesin olarak İslam'ın emri olduklarına

10. Kur'an-ı ezberlemek isteyen kimselerin uyguladığı bazı usuller bulunmaktadır. Örneğin ezberlemeye her cüzün son sayfalarından başlamak gibi... Bu usule göre ezberleme sure sırasına göre yapılmaz. Her cüzün son sayfalarından başlayarak ayetler tek tek ezberlenir.

Aşağıdaki tanımlardan hangisi bu metin içinde Kur'an'ın iç düzeni ile ilgili geçen kavramlardan birine ait değildir?

- A) Kur'an-ı Kerim'in yirmi sayfadan oluşan her bir bölümü
- B) Başı ve sonu belli olan, farklı sayılarda ayet içeren bölümler
- C) Kur'an-ı Kerim'in her bir cümlesi
- D) Kur'an okurken durulması gereken yerler

11. "Yarattığı şeylerden gelebilecek kötülüklerden; karanlığı çöktüğü zaman gecenin şerrinden"

Yukarıda Türkçe anlamı verilen ayetler bir surenin ikinci ve üçüncü ayetleridir.

Bu ayetlerin yer aldığı surenin ilk ayetinin Türkçe anlamı aşağıdakilerden hangisidir?

- A) Hamd alemlerin Rabbi Allah'a aittir.
- B) De ki: "Sabahın rabbine sığınırım;
- C) De ki: "Ey inkarcılar."
- D) Allah'ın yardımı ve zafer geldiğinde

12. Esmau'l-Husnâ, Allah'a ait en güzel isimlere verilen addır. Bu isimlerden birinin anlamı "Hiçbir şeye ihtiyacı olmayan ama her şeyin kendisine muhtaç olduğudur."

Allah'a ait olan ve anlamı verilen bu isim aşağıdaki surelerden hangisinin içinde geçmektedir?

- A) İhlas
- B) Tebbet
- C) Fatiha
- D) Kevser

13. Kur'an'daki bir surenin ilk iki ayetinin Türkçe anlamı şu şekildedir: "Allah'ın yardımı gelip fetih gerçekleştiğinde ve insanların akın akın Allah'ın dinine girdiğini gördüğünde;" Bu ayetlerde Allah'ın yardımı ve zafer geldiğinde bizden bazı şeyler yapmamız istenmektedir.

Bu surede bizden yapmamız istenenler arasında aşağıdakilerden hangisi yer almaz?

- A) Allah'tan af dileme
- B) Allah'tan rızık isteme
- C) Allah'ı tesbih etme
- D) Allah'a hamd etme

14. Vesvese, insana kötü ve zararlı telkinlerde bulunma, onu kötü şeylere yönlendirme, dine aykırı işler yapmaya teşvik etme gibi anlamlara gelir. Bunu yapanlar için Kur'an'da vesvese verenler anlamında vesvas kelimesi kullanılmaktadır. Bir surede insanlardan da olabileceği ifade edilen vesvesecilerin şerrinden uzak durmak için yapılması gereken Allah'a sığınmaktır. Çünkü Allah, her şeyin Melik'i ve İlahıdır. O istemeden hiçbir şey olmaz.

Verilen metin aşağıdaki surelerden hangisinin Türkçe anlamı ile doğrudan ilişkilendirilebilir?

- A) Kureyş
- B) Maun
- C) Nas
- D) Tebbet

15. Aşağıdakilerden hangisi farklı bir surenin Türkçe anlamı içinde yer almaktadır?

- A) Sizin dininiz size, benim dinim banadır.
- B) Ona ne malı fayda verdi ne de kazandığı başka şeyler.
- C) O, alev alev yanan ateşe atılacak!
- D) Boynunda da ipten bükülmüş bir halat bulunacak.

16. "..... bizi o ateş azabından koru."

Yukarıdaki cümleyi okuyan bir kimse bunu aşağıdakilerden hangisinin sonunda okumuş olmalıdır?

- A) Tahiyat duası
- B) Rabbena duaları
- C) Kunut duaları
- D) Subhaneke duası

17.I. O, kulların önlerindeki ve arkalarındaki (yaptıklarını ve yapacaklarını) bilir.

II. O, her şeyin kendisine muhtaç olduğu ama kendisi hiç kimseye muhtaç olmayandır.

III. Onlar onun ilminden, kendisinin dilediği kadarından başka bir şey kavrayamazlar.

Verilenlerden hangisi Ayetel kürsi'nin Türkçe anlamı içinde yer almaktadır?

- A) Yalnız II.
- B) I ve III.
- C) II ve III.
- D) I, II ve III.

18. "De ki: Allah birdir." Bu ayet ihlas suresinin ilk ayetidir. Bu surede Allah'ın bir olduğu anlatılmaktadır. Eşi ve benzerinin olmadığı ifade edilmektedir. Kur'an'da aynı konuya değinen başka ayet ve sureler de yer almaktadır.

Aşağıdakilerden hangisinin başlangıcında İhlas suresinin ilk ayetinde anlatılan konuya değinilmektedir?

- A) Fil
- B) Maun
- C) Ayetel kürsi
- D) Kureyş

19. İnsanlar Allah'ın verdiği rızık ve nimetler olmasa yaşamlarını sürdüremezlerdi. Allah, bizlere pek çok nimet verirken karşılığında kendisine kulluk etmemizi istemiştir. Teşekkürümüzü ibadetlerimizle göstermemizi emretmiştir. Örneğin namaz kılmamızı ve imkânımız varsa kurban kesmemizi istemiştir.

Metinde anlatılanlar aşağıdaki surelerden hangisinin Türkçe anlamı ile doğrudan ilişkilendirilebilir?

- A) Fil
B) Kafirun
C) Felak
D) Kevser

20.I. O, Rahmân ve Rahîmdir.

II. (Allahım!) Yalnız sana ibadet ederiz ve yalnız senden yardım dileriz.

III. Hamd, Âlemlerin Rabbi olan Allah'adır.

IV. O, hesap ve ceza gününün (ahiret gününün) sahibidir.

Yukarıda Fatıha suresinin Türkçe anlamı karışık olarak verilmiştir.

Ayet meallerinin doğru sıralanışı aşağıdakilerden hangisinde verilmiştir?

- A) III - I - IV - II
B) II - I - III - IV
C) I - III - IV - II
D) IV - III - I - II

21.

مَا أَعْنَى عَنْهُ مَالُهُ وَمَا كَسَبَ

Yukarıda altı çizili bölümde uygulanması gereken tecvid kuralı aşağıdakilerden hangisidir?

- A) Meddi muttasıl
B) Meddi tabi
C) Ihfa
D) Meddi munfasıl

22. Aşağıdaki ayetlerden hangisinde "nezzelehû alâ galbıke - sümmettehaztüm - ve mâ yekfuru bihâ" ifadelerinden herhangi birisi geçmemektedir?

A)	وَلَقَدْ جَاءَكُمْ مُوسَىٰ بِالْبَيِّنَاتِ ثُمَّ اتَّخَذْتُمُ الْعِجْلَ مِن بَعْدِهِ وَأَنْتُمْ ظَالِمُونَ
B)	قُلْ إِنْ كَانَتْ لَكُمْ الدَّارُ الْآخِرَةُ عِنْدَ اللَّهِ خَالِصَةً مِن دُونِ النَّاسِ فَتَمَنَّوْا الْمَوْتَ إِنْ كُنْتُمْ صَادِقِينَ
C)	قُلْ مَنْ كَانَ عَدُوًّا لِجِبْرِيلَ فَإِنَّهُ نَزَّلَهُ عَلَى قَلْبِكَ بِإِذْنِ اللَّهِ مُصَدِّقًا لِمَا بَيْنَ يَدَيْهِ وَهُدًى وَبُشْرَىٰ لِلْمُؤْمِنِينَ
D)	وَلَقَدْ أَنْزَلْنَا إِلَيْكَ آيَاتٍ بَيِّنَاتٍ وَمَا يَكْفُرُ بِهَا إِلَّا الْفَاسِقُونَ

23.

وَهَذَا الْبَلَدِ الْأَمِينِ

Yukarıdaki ayetin içinde bulunduğu sure aşağıdakilerden hangisi ile başlar?

A)	الْمَ نَشْرَحْ لَكَ صَدْرَكَ
B)	وَالْعَادِيَاتِ ضَبْحًا
C)	لَمْ يَكُنِ الَّذِينَ كَفَرُوا
D)	وَالزَّيْتُونَ

24. Aşağıdaki dua bölümlerinden hangisi diğer seçeneklerdeki bölümlerden farklı bir sure içinde yer almaktadır?

A)	إِنَّكَ حَمِيدٌ مَجِيدٌ
B)	وَإِلَيْكَ نَسْعَىٰ وَنَحْفِدُ
C)	وَ لَكَ نُصَلِّيٰ وَ نَسْجُدُ
D)	إِنَّ عَذَابَكَ بِالْكَفَّارِ مُلْحِقٌ

25. "وَ الْيَوْمِ الْآخِرِ وَ بِالْقَدْرِ" ifadesi

şağıdakilerden hangisinin içinde geçmektedir?

- A) Tahiyat duası B) Amentü duası
C) Kunut duaları D) Rabbenâ duası

26. Tabloda Ayetel kürsi'ye ait bölümler karışık halde verilmiştir.

1	يَعْلَمُ مَا بَيْنَ أَيْدِيهِمْ وَمَا خَلْفَهُمْ
2	لَهُ مَا فِي السَّمَوَاتِ وَمَا فِي الْأَرْضِ
3	مَنْ ذَا الَّذِي يَشْفَعُ عِنْدَهُ إِلَّا بِإِذْنِهِ
4	لَا تَأْخُذُهُ سِنَّةٌ وَلَا نَوْمٌ
5	وَلَا يُحِيطُونَ بِشَيْءٍ مِنْ عِلْمِهِ إِلَّا بِمَا شَاءَ

Bu bölümlerin doğru sıralaması aşağıdakilerden hangisidir?

- A) 2 - 4 - 1 - 3 - 5
B) 1 - 2 - 4 - 5 - 3
C) 4 - 2 - 3 - 1 - 5
D) 3 - 1 - 2 - 4 - 5

27.

رَسُولٌ مِنَ اللَّهِ يَتْلُو صُحُفًا مُطَهَّرَةً

Beyyine suresini okuyan bir kimse en son yukarıdaki bölümü okumuştur.

Buna göre bu kişinin yukarıdaki ayetten hemen önce okuduğu ayetin sonu aşağıdakilerden hangisidir?

A)	حَتَّى تَأْتِيَهُمُ الْبَيِّنَةُ
B)	فِيهَا كُتِبَ قِيمَةٌ
C)	إِلَّا مِنْ بَعْدِ مَا جَاءَتْهُمُ الْبَيِّنَةُ
D)	وَذَلِكَ دِينَ الْقِيمَةِ

28. Aşağıdakilerden hangisi Felak veya Nas suresinin içinde yer almaz?

A)	مِنْ شَرِّ الْوَسْوَاسِ الْخَنَّاسِ
B)	وَمِنْ شَرِّ حَاسِدٍ إِذَا حَسَدَ
C)	وَمِنْ شَرِّ غَاسِقٍ إِذَا وَقَبَ
D)	مَا أَغْنَى عَنْهُ مَالُهُ وَمَا كَسَبَ

29.

1	إِنَّ الْإِنْسَانَ لَفِي خُسْرٍ
2	إِهْدِنَا الصِّرَاطَ الْمُسْتَقِيمَ
3	أَلَمْ يَجْعَلْ كَيْدَهُمْ فِي تَضْلِيلٍ
4	غَيْرِ الْمَغْضُوبِ عَلَيْهِمْ

Yukarıda verilenlerden hangileri Fatıha suresi içinde yer almaz?

- A) 1 ve 4 B) 3 ve 4
C) 2 ve 4 D) 1 ve 3

30. Kunut dualarına ait aşağıda verilen bölümlerden hangisi diğerlerinden daha önce okunmaktadır?

A)	مَنْ يَفْجُرْكَ
B)	وَ نُؤْمِنُ بِكَ وَ نَتُوبُ إِلَيْكَ
C)	وَنُثْنِي عَلَيْكَ الْخَيْرَ
D)	وَ نَخْلَعُ وَ نَتْرُكُ

Sınav sona ermiştir. Cevaplarınızı kontrol etmeyi unutmayınız.

KONYA HAFİZİHO 2023 SINAV CEVAP ANAHTARI

A KİTAPÇIĞI

TÜRKÇE

Soru No	Cevap
1	D
2	A
3	D
4	B
5	C
6	C
7	A
8	B
9	D
10	A
11	B
12	B
13	D
14	C
15	D

MATEMATİK

Soru No	Cevap
1	D
2	C
3	C
4	A
5	B
6	B
7	A
8	C
9	B
10	D
11	C
12	B
13	A
14	C
15	B

FEN

Soru No	Cevap
1	C
2	A
3	D
4	C
5	C
6	B
7	D
8	C
9	A
10	B

SOSYAL

Soru No	Cevap
1	A
2	D
3	B
4	C
5	C
6	A
7	D
8	C
9	B
10	D

DKAB

Soru No	Cevap
1	C
2	A
3	D
4	C
5	B
6	A
7	C
8	B
9	D
10	D
11	B
12	A
13	B
14	C
15	A

16	B
17	B
18	C
19	D
20	A
21	D
22	B
23	D
24	A
25	B
26	C
27	A
28	D
29	D
30	B

B KİTAPÇIĞI

TÜRKÇE

Soru No	Cevap
1	C
2	A
3	B
4	D
5	A
6	B
7	B
8	D
9	C
10	D
11	D
12	A
13	D
14	B
15	C

MATEMATİK

Soru No	Cevap
1	B
2	A
3	C
4	B
5	D
6	C
7	C
8	A
9	B
10	B
11	A
12	C
13	B
14	D
15	C

FEN

Soru No	Cevap
1	C
2	A
3	B
4	C
5	A
6	D
7	C
8	C
9	B
10	D

SOSYAL

Soru No	Cevap
1	A
2	D
3	C
4	B
5	D
6	A
7	D
8	B
9	C
10	C

DKAB

Soru No	Cevap
1	D
2	C
3	A
4	D
5	C
6	B
7	A
8	C
9	B
10	D
11	A
12	B
13	A
14	B
15	C

16	A
17	B
18	B
19	C
20	D
21	D
22	D
23	B
24	B
25	C
26	A
27	D
28	D
29	B
30	A